

طرح سنجش استعداد: مداد قرمز ۲- توصیفی
مدت پاسخگویی و انجام فعالیت: ۴۵ دقیقه

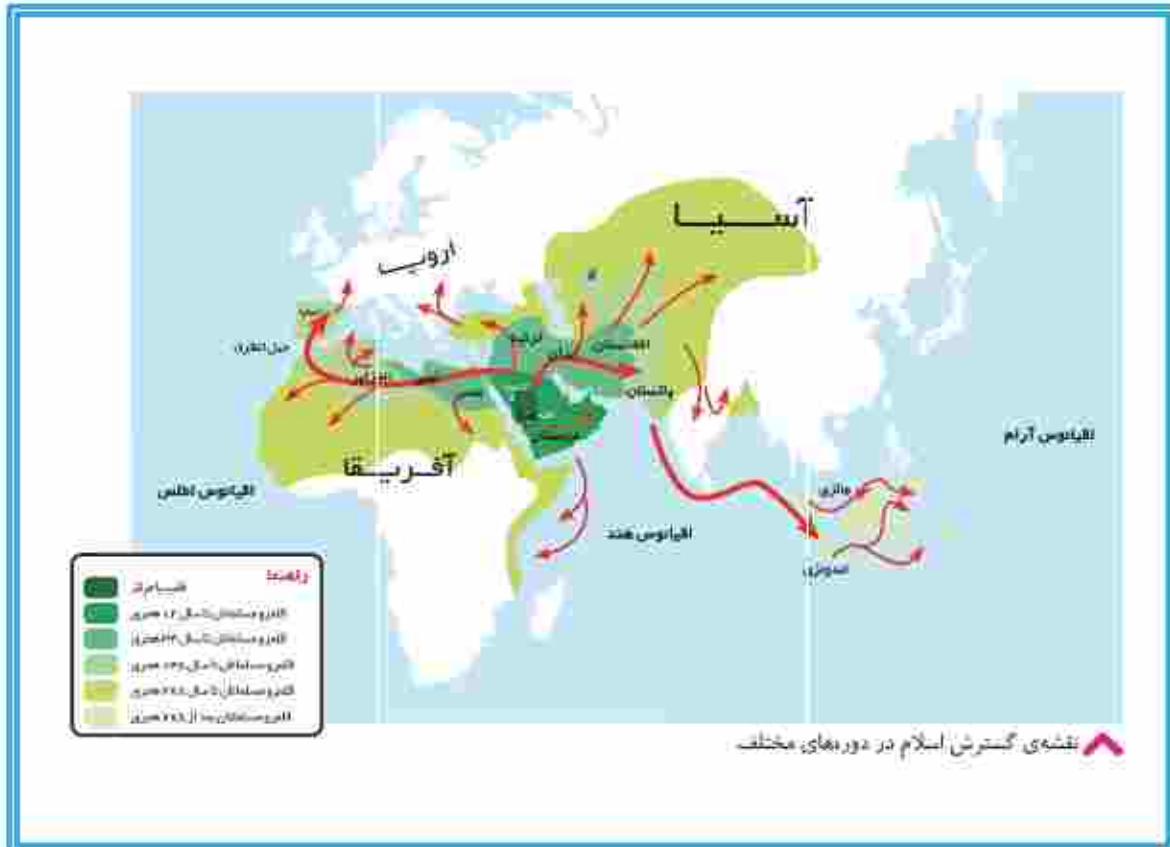
درس: استعداد فضایی ششم دبستان
زمان برگزاری: هفته چهارم آذر

علوی

فعالتهای استعداد فضایی پایه ششم

فعالیت ۱

۳۶- با توجه به نقشه گسترش اسلام در دورههای مختلف به سؤالات زیر پاسخ ده.



الف) زمان ورود اسلام به کدام کشور با بقیه تفاوت دارد؟

۱) ایران ۲) لیبی ۳) ترکیه ۴) پاکستان

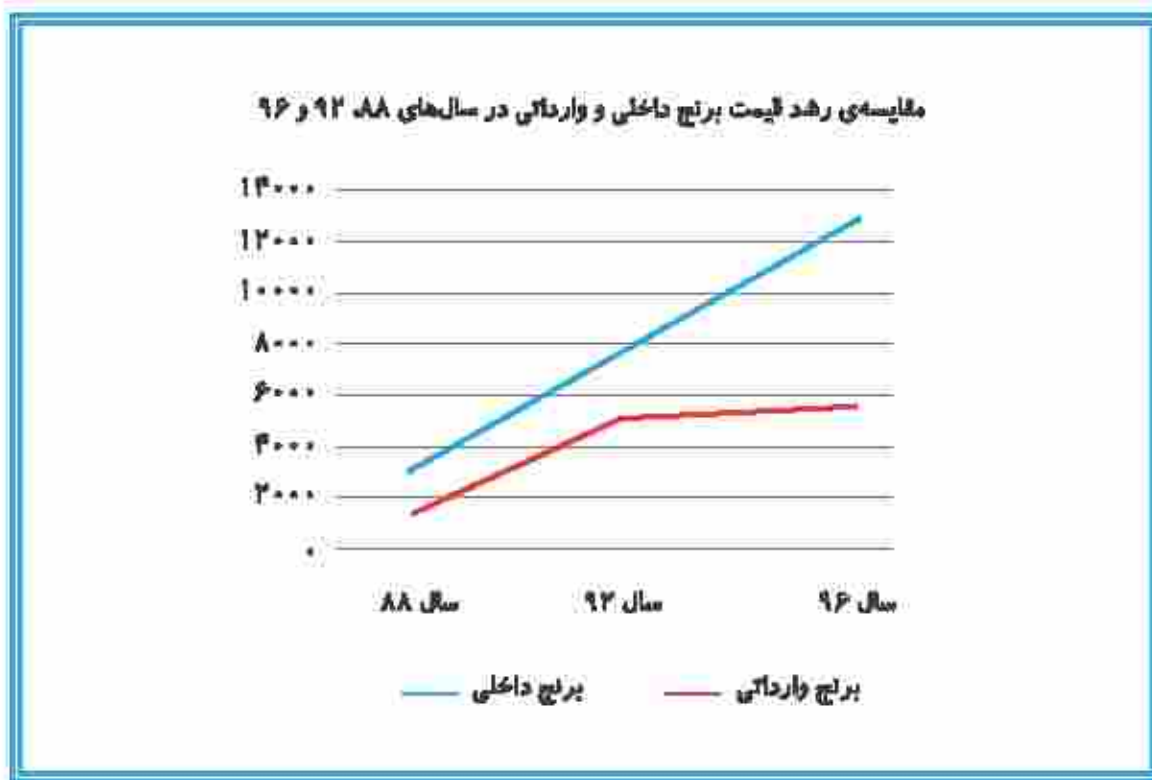
ب) از طریق کدام کشورها اسلام به اروپا راه یافت؟

..... ← اروپا

..... ← ← اروپا

پ) اسلام از پاکستان به کدام کشورها راه یافت؟

۳۷- به نمودار رشد قیمت برنج در سه سال ۸۸، ۹۲ و ۹۶ دقت کرده و به سؤالات پاسخ بده.



الف) قیمت برنج داخلی را به‌طور تقریبی در سال‌های ۸۸، ۹۲ و ۹۶ بیان کن.

..... ← ۸۸

..... ← ۹۲

..... ← ۹۶

ب) روند تغییر قیمت برنج وارداتی از سال ۸۸ تا ۹۶ به چه صورت بوده است؟

۱- افزایش، کاهش، ۲- کاهش، افزایش ۳- افزایش، تقریباً ثابت

پ) روند تغییر قیمت در چه سال‌هایی در مورد برنج داخلی و برنج وارداتی تقریباً مشابه بوده است؟

.....

.....

طرح سنجش استعداد: مداد قرمز ۲- توصیفی
مدت پاسخگویی و انجام فعالیت: ۴۵ دقیقه

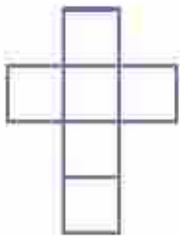





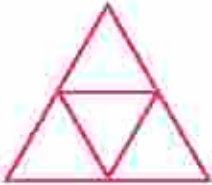



درس: استعداد فضایی هشتم دبستان

زمان برگزاری: هفته چهارم آذر

علوی

فعالیت ۳

۳۸- هر یک از شکل‌های سه بعدی را به گسترده‌ی مربوط به آن وصل کن.

	•	•	
	•	•	
	•	•	
	•	•	
	•	•	

طرح سنجش استعداد: مدار قرمز ۲- توصیفی
مدت پاسخگویی و انجام فعالیت: ۴۵ دقیقه

درس: استعداد فضایی ششم دبستان
زمان برگزاری: هفته چهارم آذر

علوی

فعالیت ۴

۳۹- فرزندم گسترده‌ی خانه‌ی شکلاتی را با دقت از کاغذ جدا کن و خانه‌ی مربوط به آن را بساز. (از قیچی و چسب استفاده کن.)

