

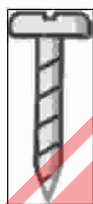
مدت پاسخگویی: ۴۵ دقیقه

زمان برگزاری: هفته دوم اسفند

۶) ابزارهای ساده را به و ابزارهای پیچیده را به وصل کنید.



پ)



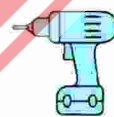

الف)



الف)



ت)



ب)

۷) درستی یا نادرستی جملات داده شده را مشخص کنید.

نادرست

درست




الف) کرم خاکی در خاک زندگی می کند.

ب) مورچه در خاک زندگی نمی کند.


پ) غذای ما و همه ی جانوران به وسیله ی گیاهان درست می شود.

ت) هر جا گیاه هست، حتماً در آن جا خاک وجود ندارد.

۸) گزینه‌ی صحیح را مشخص کنید.
الف) از کدام خاک، آب زودتر عبور می‌کند؟



(۲) خاک دانه درشت (خاک دانه درشت)



(۱) خاک دانه ریز (خاک دانه ریز)

ب) کدام یک از بناهای زیر، بزرگ‌ترین بنای خاکی جهان است؟



(۲) ارگ بم (ارگ بم)



(۱) تخت جمشید (تخت جمشید)

پ) کدام وسیله از خاک درست شده است؟



(۲)



(۱)

۹) جاهای خالی را با انتخاب کلمات مناسب کامل کنید.

«پاکیزه - آلوده - هوا»

الف) بعضی بیماری‌ها از راه منتقل می‌شوند.

ب) دود ماشین‌ها هوا را می‌کند.

پ) هوا باید باشد.

۱۰) هوا در انجام چه مواردی به ما کمک می‌کند؟ (علامت ✓ بزنید).



(ت)



(پ)



(ب)



(الف)



(ح)



(چ)



(ج)



(ث)