

طرح سنجش استعداد: مداد قرمز ۳ - توصیفی
مدت پاسخگویی و انجام فعالیت: ۴۵ دقیقه

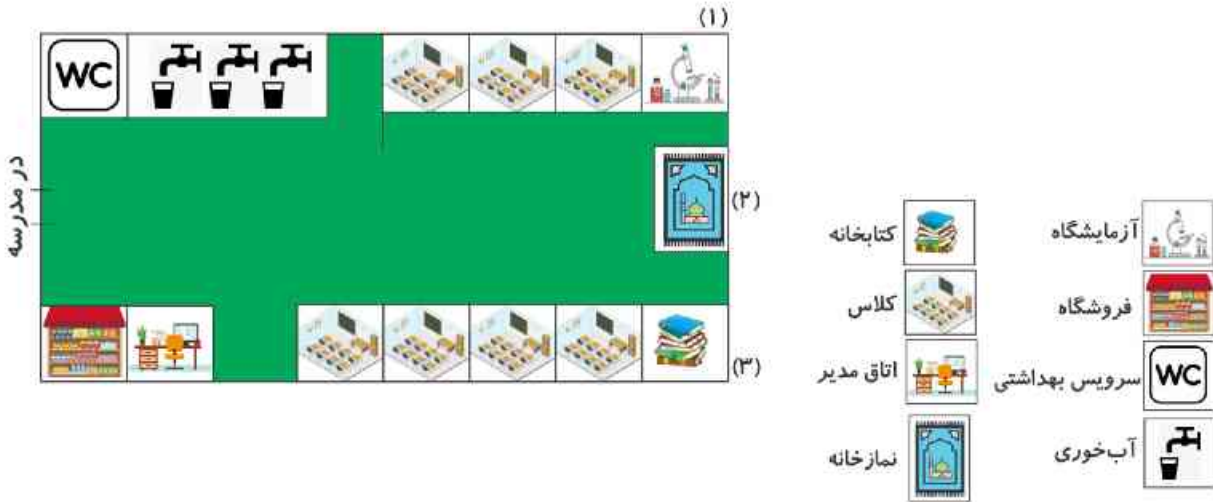
درس: استعداد فضایی دوم دبستان
زمان برگزاری: هفته دوم اسفند

علوی

فعالیت‌های استعداد فضایی پایه‌ی دوم

فعالیت ۱

۱۶- تصویر داده شده، نقشه‌ی یک مدرسه از بالا است. با دقت به آن نگاه کنید و به پرسش‌ها پاسخ دهید.



الف) کدام قسمت فروشگاه قرار دارد؟ دور آن خط قرمز بکشید.

ب) در این مدرسه چند کلاس وجود دارد؟

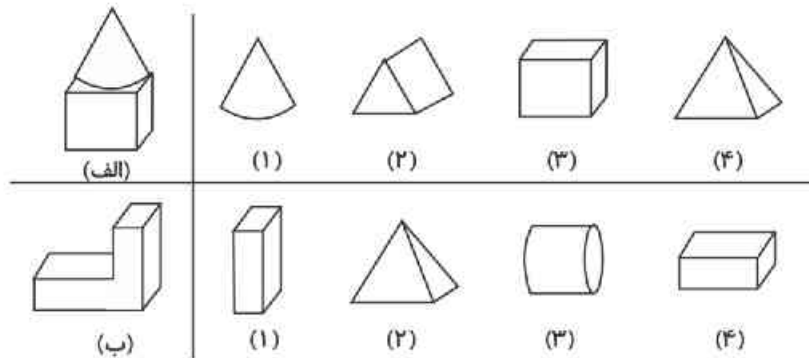
پ) هر یک از مکان‌های (۱)، (۲) و (۳) چه نام دارند؟

۱) ۲) ۳)

ت) شما کدام مکان را در مدرسه بیشتر دوست دارید؟ دور آن خط آبی بکشید.

فعالیت ۲

۱۷- هر یک از تصاویر سمت چپ با کدام یک از تصاویر سمت راست ساخته می‌شود؟ آن‌ها را رنگ کنید.



طرح سنجش استعداد: مداد قرمز ۳ - توصیفی
مدت پاسخگویی و انجام فعالیت: ۴۵ دقیقه

درس: استعداد فضایی دوم دبستان
زمان برگزاری: هفته دوم اسفند

علوی

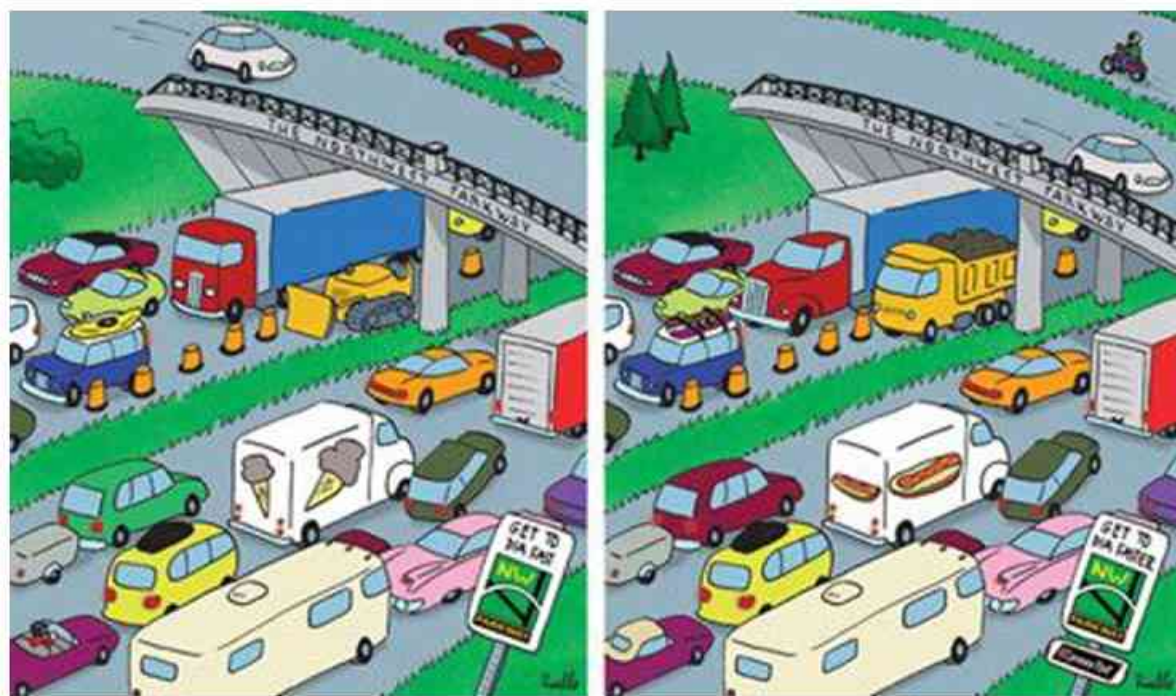
فعالیت ۳

۱۸- آیا می‌توانید موش را راهنمایی کنید تا از مسیر عبور کرده و به پنیر برسد؟



فعالیت ۴

۱۹- در تصاویر زیر ۴ اختلاف پیدا کنید.



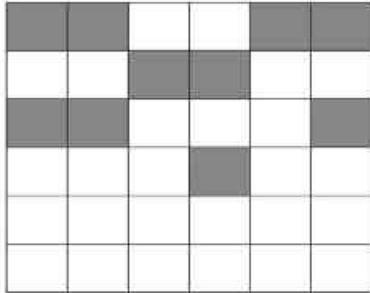
طرح سنجش استعداد: مداد قرمز ۳ - توصیفی
مدت پاسخگویی و انجام فعالیت: ۴۵ دقیقه

درس: استعداد فضایی دوم دبستان
زمان برگزاری: هفته دوم اسفند

علوی

فعالیت ۵

۲۰- به طراح جدول زیر کمک کنید تا خانه‌ها را مانند دو ردیف بالا رنگ کند.



فعالیت ۶

۲۱- به حیوانات داخل جدول دقت کنید و به پرسش‌ها پاسخ دهید.

الف) اگر لاک‌پشت از محل خود، ۲ خانه به سمت راست و یک خانه به سمت بالا بیاید به کدام حیوان می‌رسد؟
ب) اگر خرگوش از خله‌ی خود حرکت کند، ۲ خانه به پایین و ۵ خانه به راست و یک خانه به بالا برود به کدام حیوان می‌رسد؟
پ) کدام حیوان به شیر نزدیک‌تر است؟

۲) خرگوش

۱) خرس