

طرح سنجش استعداد: مدار قرمز ۳- توصیفی
مدت پاسخگویی و انجام فعالیت: ۴۵ دقیقه

درس: استعداد فضایی سوم دبستان
زمان برگزاری: هفته دوم اسفند

علوی

فعالیت‌های استعداد فضایی پایه‌ی سوم

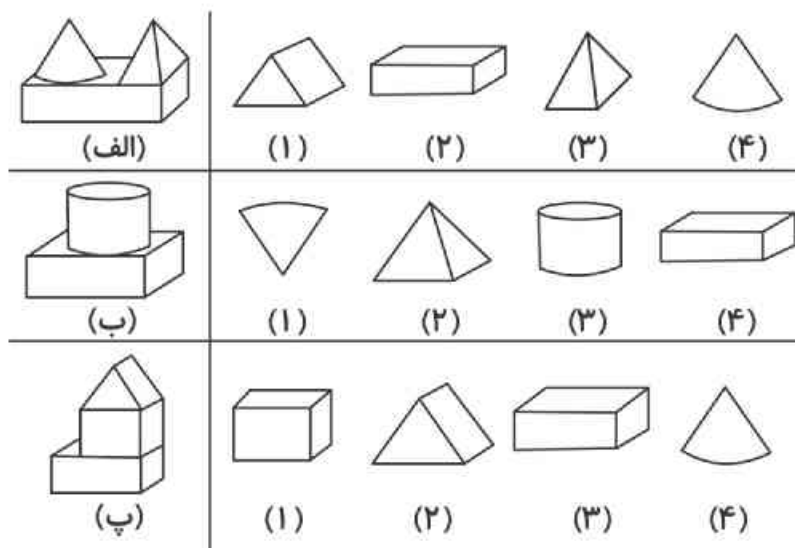
فعالیت ۱

۲۲- به تصویر زیر با دقت نگاه کنید، دور ۲ توپ فوتبال خط آبی، دور ۳ توپ بسکتبال خط قرمز و دور ۳ توپ والیبال خط سبز بکشید.



فعالیت ۲

۲۳- هر یک از تصاویر سمت چپ با کدام یک از تصاویر سمت راست ساخته می‌شود؟ آن‌ها را رنگ کنید.



علوی

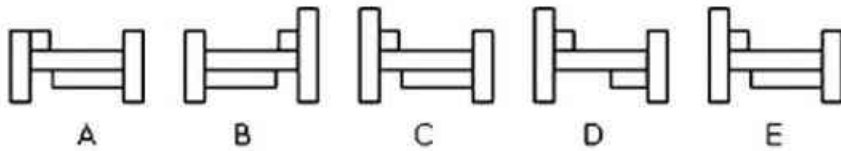
درس: استعداد فضایی سوم دبستان

طرح سنجش استعداد: مداد قرمز ۳-نومبلی
مدت پاسخگویی و انجام فعالیت: ۴۵ دقیقه

زمان برگزاری: هفته دوم اسفند


فعالیت ۳

۲۴- کدام ۲ شکل دقیقاً مشابه هستند؟



فعالیت ۴

۲۵- جدول زیر را مانند دو ردیف بالا کامل کنید.



فعالیت ۵

۲۶- در تصویر مقابل ۴ صورت کامل مشخص کنید. (مانند نمونه)



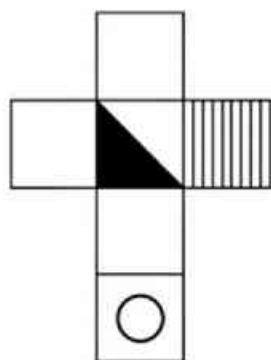
طرح سنجش استعداد: مدارفوز ۳-۲-نومبلی
مدت پاسخگویی و انجام فعالیت: ۴۵ دقیقه

درس: استعداد فضایی سوم دبستان
زمان برگزاری: هفته دوم اسفند

علوی

فعالیت ۶

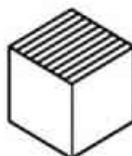
۲۷- گسترده‌ی زیر، کدام یک از مکعب‌ها را می‌تواند بسازد؟



(۴)



(۳)



(۲)



(۱)