

طرح سنجش استعداد مداد قرمز ۳- توصیفی  
مدت پاسخگویی و انجام فعالیت: ۴۵ دقیقه

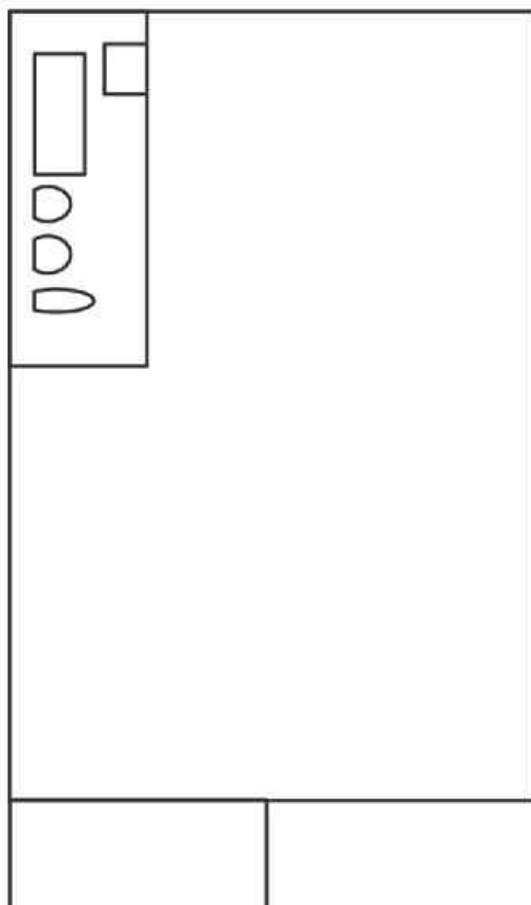
درس: استعداد فضایی ششم دبستان  
زمان برگزاری: هفته دوم اسفند

علوی

### فعالیت‌های استعداد فضایی پایه‌ی ششم

#### فعالیت ۱

۳۶- در تصویر زیر، نقشه‌ی یک خانه از بالا داده شده است، آن را مانند نمونه با خطوط ساده طراحی و کامل کنید.



#### فعالیت ۲

۳۷- در تصویر زیر ۵ اختلاف پیدا کنید.



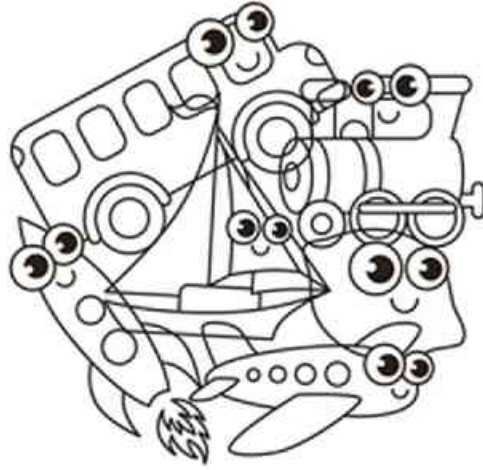
طرح سنجش استعداد مداد قرمز ۳- توصیفی  
مدت پاسخگویی و انجام فعالیت: ۴۵ دقیقه

درس: استعداد فضایی ششم دبستان  
زمان برگزاری: هفته دوم اسفند

علوی

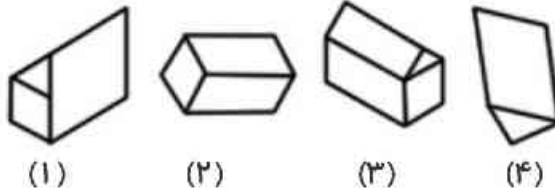
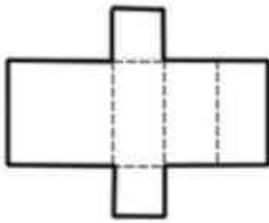
فعالیت ۳

۳۸- نام ۴ وسیله‌ی نقلیه که در تصویر می‌بینید را بنویسید.



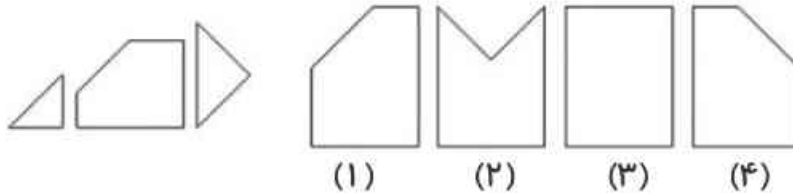
فعالیت ۴

۳۹- اگر شکل داده شده را از روی خطچین‌ها تا بزنیم، شکل کدام گزینه به دست می‌آید؟



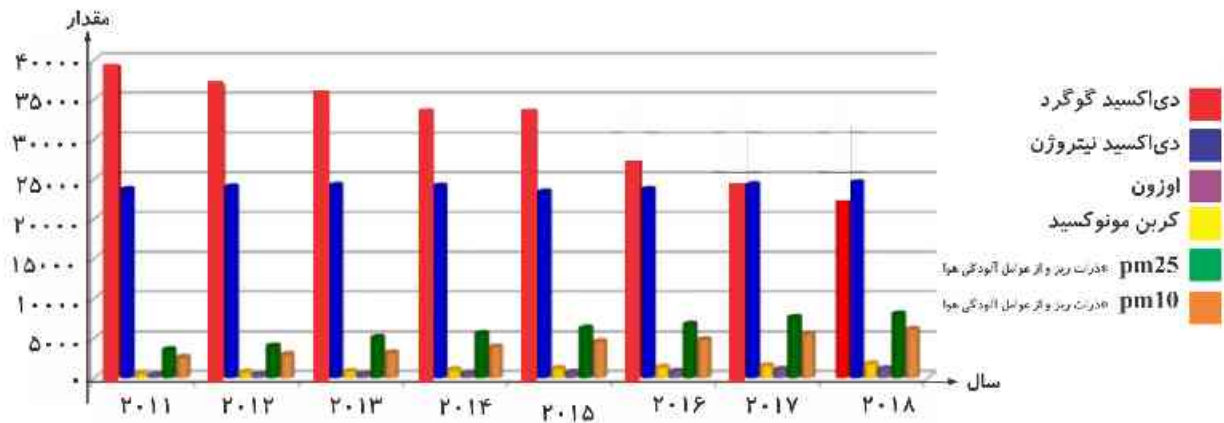
فعالیت ۵

۴۰- کدام گزینه از ترکیب شکل‌های زیر به دست می‌آید؟



۴۱- نمودار زیر روند تغییرات انتشار گازهای زائد در نزدیکی یک کارخانه در یکی از کشورهای اروپایی است. با

توجه به آن به پرسش‌ها پاسخ دهید.



الف) در کدام سال میزان انتشار گاز دی‌اکسید گوگرد و دی‌اکسید نیتروژن یکسان بوده است؟

ب) در کدام سال میزان انتشار گاز دی‌اکسید گوگرد از دی‌اکسید نیتروژن کمتر بوده است؟

پ) در کدام سالها میزان انتشار گاز دی‌اکسید گوگرد بیش‌تر از ۳۵۰۰۰ بوده است؟

ت) در کدام سال میزان انتشار  $pm_{25}$  دقیقاً ۵۰۰۰ بوده است؟

۲۰۱۴ (۴)

۲۰۱۵ (۳)

۲۰۱۷ (۲)

۲۰۱۸ (۱)