

طرح سنجش استعداد: مداد قرمز ۳- توصیفی  
مدت پاسخگویی و انجام فعالیت: ۴۵ دقیقه


درس: استعداد فضایی چهارم دبستان  
زمان برگزاری: هفته دوم اسفند

**علوی**

### فعالیت‌های استعداد فضایی پایه‌ی چهارم

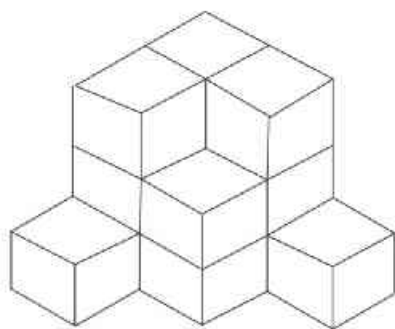
#### فعالیت ۱

۳۶- از ترکیب قسمت‌های هندوانه‌های داده شده، چند هندوانه‌ی کامل حاصل می‌شود؟



#### فعالیت ۲

۳۷- اگر به شکل داده شده از بالا نگاه کنیم، کدام تصویر را می‌بینیم؟



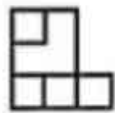
A



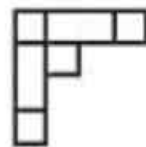
B



C



D



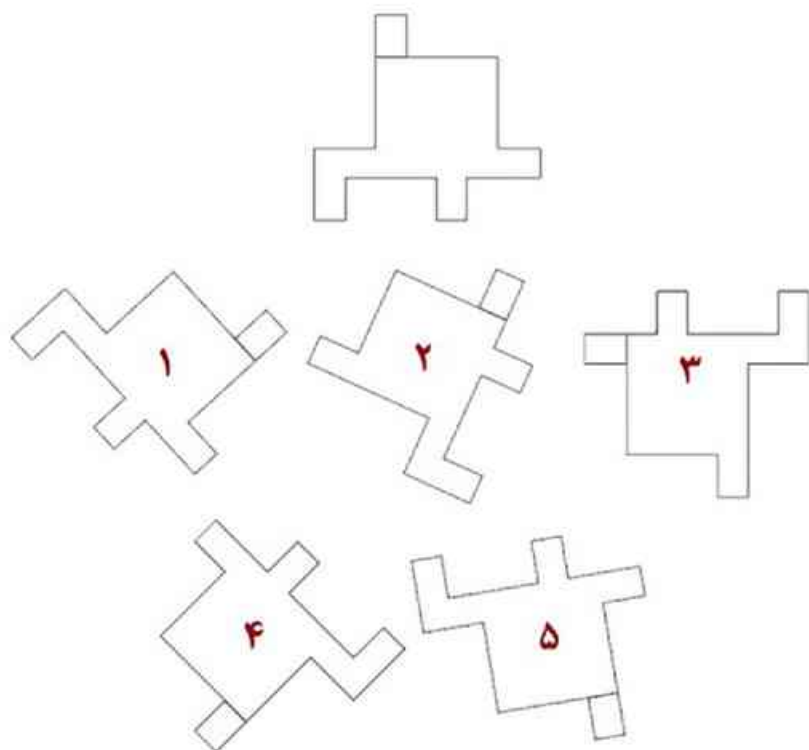
طرح سنجش استعداد: مداد قرمز ۳- توصیفی  
مدت پاسخگویی و انجام فعالیت: ۴۵ دقیقه

درس: استعداد فضایی چهارم دبستان  
زمان برگزاری: هفته دوم اسفند

علوی


فعالیت ۳

۳۸- کدام گزینه دقیقاً مشابه قطعه‌ی اصلی است؟



فعالیت ۴

۳۹- در دو تصویر زیر ۵ اختلاف پیدا کنید.



# علوی

## فعالیت ۵

درس: استعداد فضایی چهارم دبستان

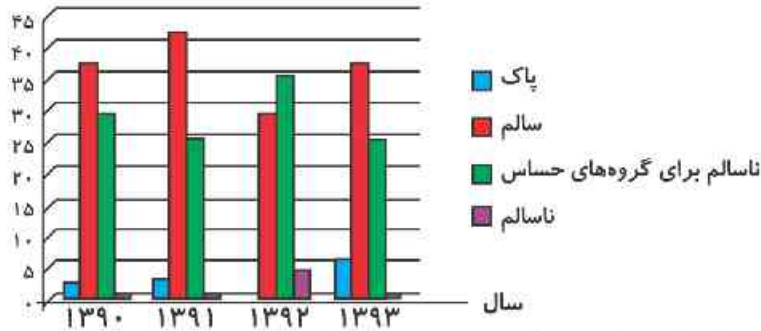
زمان برگزاری: هفته دوم اسفند

طرح سنجش استعداد: مداد قرمز ۳- توصیفی

مدت پاسخگویی و انجام فعالیت: ۴۵ دقیقه

۴۰- نمودار میزان آلودگی هوا در سه ماه مهر، آبان و آذر در ۴ سال داده شده است.

میزان آلودگی هوا در مهر، آبان و آذر در ۴ سال



الف) در کدام سال میزان روزهای ناسالم برای گروه‌های حساس بیشتر بوده است؟ .....

ب) در کدام سال میزان روزهای سالم بیشتر بوده است؟ .....

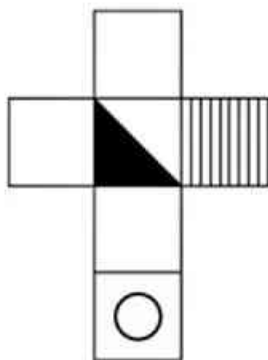
پ) در کدام سال روز پاک نداشته‌ایم؟ .....

ت) در کدام سال اختلاف روزهای سالم و ناسالم در بیشترین حد خود بوده است؟ .....

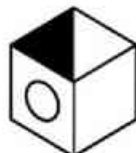
ث) شما برای کاهش آلودگی هوا چه راهکارهایی دارید؟ .....

## فعالیت ۶

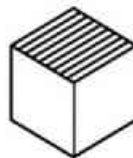
۴۱- گسترده‌ی زیر، کدام یک از مکعب‌ها را می‌تواند بسازد؟



(۴)



(۳)



(۲)



(۱)