

زمان برگزاری: هفته چهارم اردیبهشت

مدت پاسخگویی: ۷۵ دقیقه

۳۱) هر عبارت را به کلمه‌ی مناسب خودش وصل کنید.

- | | |
|---|------------------------|
| • (الف) حکومت ساسانیان را به وجود آورد. | • (۱) خسرو و انوشیروان |
| • (ب) دانشگاه جندی شاپور را ساخت. | • (۲) سورنا |
| • (پ) پادشاه مقدونیه | • (۳) اردشیر |
| • (ت) کراسوس را شکست داد. | • (۴) اسکندر |



۳۲) جملات درست را با علامت ✓ و جملات نادرست را با علامت * مشخص کنید.



(الف) درختانی مانند نخل و درختچه‌های خاردار در ناحیه‌ی خزری بیشتر رشد می‌کنند.



(ب) به محل زندگی موجودات زنده، شبکه‌ی غذایی می‌گویند.



(پ) شتر در ناحیه‌ی گرم و خشک زندگی می‌کند.



(ت) به جانورانی که فقط گیاه می‌خورند، گیاه‌خوار می‌گویند.



۳۳) گزینه‌ی صحیح را مشخص کنید.

- | | | | | |
|--|---------------|--------------|--------------|--------------|
| (الف) کدام یک از آثار باستانی همدان می‌باشد؟ | (۱) تخت جمشید | (۲) چغازنبیل | (۳) پاسارگاد | (۴) گنج‌نامه |
| (ب) کدام یک از ماه‌های سال ۲۹ روز دارد؟ | (۱) فروردین | (۲) آذر | (۳) مرداد | (۴) اسفند |
| (پ) تمدن ایلام امروز در چه ناحیه‌ای قرار دارد؟ | (۱) همدان | (۲) کرمانشاه | (۳) خوزستان | (۴) رم |
| (ت) کدام یک از شهرهای زیر در ناحیه‌ی خزری قرار دارد؟ | (۱) تبریز | (۲) کرمان | (۳) رامسر | (۴) همدان |

۳۴) جاهای خالی را با کلمات مناسب کامل کنید

الف) ایلامی‌ها از خط و استفاده می‌کردند.

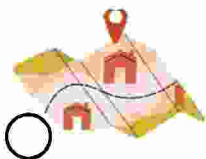
ب) گروهی از آریایی‌ها بودند که حکومت اشکانیان را به وجود آوردند.

پ) بلندترین قله‌ی ایران نام دارد.

ب) سرزمین بین‌النهرین بین دو رود و قرار دارد.



۳۵) از میان ابزارهای زیر، وسایلی را که جغرافی‌دانان در کارهایشان از آن‌ها استفاده می‌کنند را علامت بزنید.



نقشه



کتاب



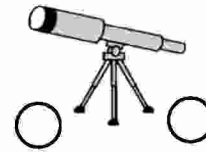
میکروسکوپ



ذره‌بین



کره جغرافیایی



تلسکوپ



رایانه



۳۶) مفاهیم زیر را تعریف کنید.

الف) مورخ:

ب) قطب‌نما:

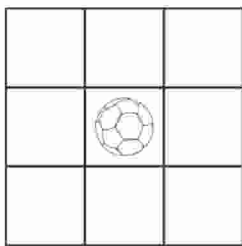
پ) جلگه:

ت) تقویم:



۳۷) الف) آریایی‌ها به چند گروه تقسیم می‌شوند؟ نام ببرید.

ب) چهار مورد از نشانه‌های مشترک ملت ایران را نام ببرید.



۳۸) در تصویر مقابل، موارد خواسته شده را بکشید.

الف) در غرب توپ، تصویر گل

ب) در جنوب غربی توپ، تصویر درخت

پ) در شمال شرقی توپ، تصویر کیف

ت) در جنوب شرقی توپ، تصویر پرچم



۳۹) چرا شتر یکی از شگفتی‌های آفرینش خداوند است؟ (۲ مورد)



۴۰) آیت الله خامنه‌ای درباره‌ی دانش‌آموزان چه می‌فرماید؟

