

اقتصاد

۱- کدام یک از گزینه‌های زیر صحیح است؟

الف) موضوع اصلی علم اقتصاد چیست؟

ب) منحنی عرضه و تقاضا از چپ به راست چگونه است و همچنین بین «تقاضا و قیمت» و «عرضه و قیمت» چه رابطه‌ای برقرار است؟
ج) در صورتی که سازمان تولید باشد، برخی از عوامل تولید صاحب اصلی محصول تولیدی هستند.

۱) الف) انتخاب - ب) صعودی - نزولی - معکوس - مستقیم - ج) غیرمشارکتی

۲) الف) فرصت - ب) صعودی - نزولی - غیرمستقیم - مستقیم - ج) مشارکتی

۳) الف) انتخاب - ب) نزولی - صعودی - معکوس - مستقیم - ج) غیرمشارکتی

۴) الف) فرصت - ب) نزولی - صعودی - مستقیم - معکوس - ج) مشارکتی

۲- کدام گزینه صحیح است؟

الف) مبالغی که تولیدکنندگان برای تولید مصرف می‌کنند را می‌گویند.

ب) در اقتصاد از متخصصان با چه عنوانی یاد می‌شود؟

۱) الف) هزینه‌های غیرمستقیم - ب) نیروی انسانی

۳) الف) هزینه‌های غیرمستقیم - ب) سرمایه انسانی

۴) الف) هزینه‌های مستقیم - ب) نیروی انسانی

۳- گزینه صحیح را انتخاب نمایید.

الف) انسان برای بهره‌برداری از منابع علاوه بر به نیز نیازمند است.

ب) تأکید بر چه مفاهیمی چراغ راه و تکمیل‌کننده فرایندی است که عقلانیت اقتصادی برای رسیدن به اهداف خود به آن‌ها نیازمند است؟
ج) بازار را تعریف کنید.

۱) الف) سرمایه / کار - ب) اخلاق و فرهنگ اقتصادی - ج) مکانی که در آن خرید و فروش انجام می‌شود.

۲) الف) کار / سرمایه - ب) اخلاق و تربیت اقتصادی - ج) مکانی که در آن خرید و فروش انجام می‌شود.

۳) الف) کار / سرمایه - ب) اخلاق و احکام اقتصادی - ج) ارتباط خریدار با فروشنده

۴) الف) سرمایه / کار - ب) اخلاق و احکام اقتصادی - ج) ارتباط خریدار با فروشنده

۴- کدام گزینه پاسخ‌های صحیح را دربر دارد؟

الف) به چه دلایلی شرکت توانیر انحصارگر در فروش کالای خود به شمار می‌رود؟

ب) هرگاه در بازار، قیمت در سطح تعادلی نباشد عواملی آن را به سمت قیمت تعادلی می‌کشاند مشروط بر این‌که عواملی مثل قیمت‌گذاری مانع این تعدیل نشود.

۱) الف) به دلایل قانونی - ب) درونی - تولیدکننده

۳) الف) به دلایل قانونی - ب) بیرونی - دولت

۴) الف) به دلایل طبیعی - ب) بیرونی - دولت

۵- گزینه صحیح را انتخاب نمایید.

الف) در کدام بازار هیچ یک از طرفین به تنهایی در شکل‌گیری قیمت تأثیرگذار و یا به عبارت دیگر قیمت‌گذار نیستند؟

ب) علت حرام بودن ربا در اسلام چیست؟

ج) کدام نوع کالا مورد مصرف قرار نمی‌گیرد بلکه در طول زمان از آن، خدمات گرفته می‌شود؟

۱) الف) رقابتی - ب) صاحب سرمایه مالی نمی‌تواند مانند سرمایه فیزیکی اجاره بگیرد. - ج) کالای بادوام

۲) الف) انحصاری - ب) صاحب سرمایه فیزیکی نمی‌تواند مانند سرمایه مالی اجاره بگیرد. - ج) کالای سرمایه‌ای

۳) الف) انحصاری - ب) صاحب سرمایه مالی نمی‌تواند مانند سرمایه فیزیکی اجاره بگیرد. - ج) کالای بادوام

۴) الف) رقابتی - ب) صاحب سرمایه مالی نمی‌تواند مانند سرمایه فیزیکی اجاره بگیرد. - ج) کالای سرمایه‌ای

۶- کدام گزینه صحیح است؟

الف) کدام یک جزء انگیزه فردی تولیدکنندگان است؟

ب) تولید و فراهم آوردن محصولات مورد نیاز با استفاده از منابع طبیعی نیازمند چه چیزی است؟

ج) دلیل فرستادن پیامبر چیست؟

۱) الف) کسب درآمد - ب) نیازمند کار و تلاش انسان - ج) نشان دادن راه

۲) الف) تأمین منافع شخصی - ب) سرمایه مالی و فیزیکی کافی - ج) ناتوانی عقل در نشان دادن راه موفقیت

۳) الف) خدمت به هم‌نوع - ب) نیازمند کار و تلاش انسان - ج) ناتوانی عقل در نشان دادن راه موفقیت

۴) الف) آبادانی و موفقیت کشور - ب) سرمایه مالی و فیزیکی کافی - ج) راهنمایی انسان

۷- کدام یک از گزینه‌های زیر صحیح است؟

الف) اگر قیمت از سطح تعادلی بالاتر باشد در بازار آن کالا وجود دارد؛ زیرا.....

ب) انحصارگر غیرقانونی چگونه به رفاه جامعه ضرر می‌زند؟

ج) به تفاوت درآمد و هزینه چه می‌گویند؟

۱) الف) کمبود عرضه - گروهی از تولیدکنندگان برای محصولات خود خریدار پیدا نمی‌کنند. - ب) با عرضه کالای بی‌کیفیت - ج) حقوق

۲) الف) مازاد عرضه - گروهی از تولیدکنندگان برای محصولات خود خریدار پیدا نمی‌کنند. - ب) با افزایش قیمت - ج) حقوق

۳) الف) کمبود عرضه - گروهی از تولیدکنندگان برای محصولات خود خریدار پیدا نمی‌کنند. - ب) با عرضه کالای بی‌کیفیت - ج) سود

۴) الف) مازاد عرضه - گروهی از تولیدکنندگان برای محصولات خود خریدار پیدا نمی‌کنند. - ب) با افزایش قیمت - ج) سود

۸- گزینه صحیح را انتخاب نمایید.

الف) چه کسی، همانند کسی که در راه خدا جهاد می‌کند، شایسته تقدیر است؟

ب) مثال «اولین انسانی که گندم کاشت، بذر گندم خود را از گندم‌های خودرو به دست آورده بود»، به چه موضوعی اشاره می‌کند؟

ج) انحصار طبیعی و قانونی مشروط به می‌تواند برای مصرف‌کننده سودمند باشد.

۱) الف) کسی که برای ارتقای سطح زندگی‌اش می‌کوشد. - ب) احیا - ج) جلوگیری از دخالت دولت به عنوان عامل بیرونی

۲) الف) کسی که تلاش برای آبادانی و موفقیت کشور می‌کند و به هم‌نوع خود نیز کمک می‌کند. - ب) حیات - ج) جلوگیری از دخالت دولت به عنوان عامل بیرونی

۳) الف) کسی که برای ارتقای سطح زندگی‌اش می‌کوشد. - ب) حیات - ج) مواظبت و مقررات‌گذاری صحیح دولت

۴) الف) کسی که تلاش برای آبادانی و موفقیت کشور می‌کند و به هم‌نوع خود نیز کمک می‌کند. - ب) احیا - ج) جلوگیری از دخالت دولت به عنوان عامل بیرونی

۹- کدام گزینه صحیح است؟

الف) صاحب کارخانه‌ای قصد دارد به هنگام افزایش قیمت کالای خود، ظرفیت تولید کارخانه‌اش را افزایش دهد اما به دلیل فرسودگی تجهیزات

موفق به انجام این کار نمی‌شود. کدام گزینه در رابطه با تولیدکننده صحیح است؟

ب) اگر بخواهند ساختمانی برای یکی از اداره‌های دولتی بسازند می‌بایست از کدام بازار استفاده کنند؟

ج) عامل هماهنگ‌کننده بین رفتار اقتصادی تولیدکنندگان و مصرف‌کنندگان چیست؟

۱) الف) شیب منحنی عرضه‌اش کم است. - ب) مزایده - ج) قیمت کالا

۲) الف) کشش قیمتی عرضه‌اش بالا است. - ب) مناقصه - ج) کمبود یا مازاد عرضه

۳) الف) کشش قیمتی‌اش پایین است. - ب) مناقصه - ج) کمبود یا مازاد عرضه

۴) الف) منحنی عرضه‌اش با شیب بیشتر است. - ب) مناقصه - ج) قیمت کالا

۱۰- صحیح و غلط بودن عبارات زیر را مشخص کنید.

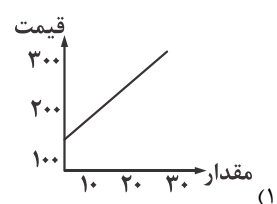
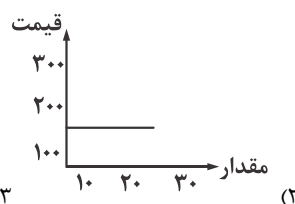
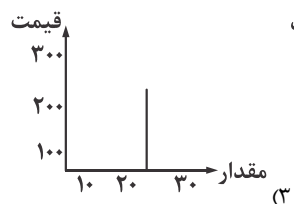
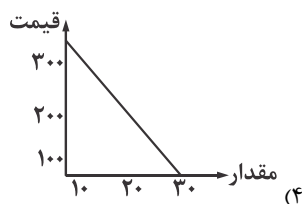
الف) نتیجه تلاش فکری برای پیدا کردن بهترین روش برای استفاده از منابع و امکانات، پیدایش علم اقتصاد بوده است.

ب) ضرر، زمانی ایجاد می‌شود که هزینه‌ها بیشتر از سود باشد.

ج) قانون حیات انسانی این است که هر انتخابی مستلزم از دست دادن انتخاب‌های دیگر است.

۱) درست - نادرست - نادرست (۲) نادرست - نادرست - درست (۳) درست - نادرست - درست (۴) نادرست - درست - نادرست

۱۱- در کدام یک از نمودارهای (تقاضا - قیمت)، مقدار ثابت است و خریداران به هر تعدادی که باشند مجبورند با هر قیمتی کالا را خریداری نمایند؟



۱۲- با توجه به جدول مقابل سود ویژه سالیانه را حساب کنید.

تعداد محصول سالیانه	۵۶۰ دستگاه
قیمت هر محصول	۴,۰۰۰,۰۰۰ ریال
تعداد کارگر	۸ کارگر
هزینه استهلاک	$\frac{1}{5}$ حقوق سالیانه کارگران
حقوق ماهیانه کارگر	۱۵,۰۰۰,۰۰۰ ریال
خرید مواد اولیه سالیانه	۱۱۰,۰۰۰,۰۰۰ ریال
اجاره کارگاه ماهیانه	۸۰,۰۰۰,۰۰۰ ریال
هزینه فرصت	۵۰,۰۰۰,۰۰۰ تومان

۱) ۶۸۰,۰۰۰,۰۰۰ ضرر

۲) ۶۸۰,۰۰۰,۰۰۰ سود

۳) ۶۰۸,۰۰۰,۰۰۰ سود

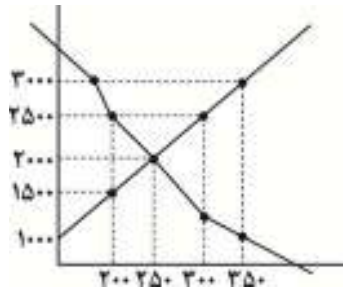
۴) ۶۰۸,۰۰۰,۰۰۰ ضرر

۱۳- یک کارخانه ماشین‌سازی در سال ۹۳ تعداد ۵۳۰ ماشین به ارزش هر کدام ۲۰۰ میلیون تومان تولید می‌کند. او در مجموع می‌تواند یک پنجم محصولات خود را به فروش برساند. در این کارخانه ۵۶ نفر با حقوق ماهیانه هر کدام یک میلیون و پانصد هزار تومان مشغول به کارند. کارخانه در طول این یک سال، برای تهیه مواد اولیه ۶۴۰ میلیون تومان تخصیص داده است و هزینه استهلاک کارخانه معادل ۹۲۰ میلیون تومان بوده است. الف) سود حسابداری سالیانه را حساب کنید.

ب) اگر صاحب کارخانه بخواهد کارخانه را اجاره دهد می‌تواند ۷۰ میلیون تومان اجاره بگیرد، و همچنین می‌تواند برای استفاده از ابزارهای کارخانه در محل کارخانه ماهیانه ۴۵ میلیون تومان اجاره بگیرد. در این صورت هزینه غیرمستقیم چقدر است؟

- (۱) الف) ۱۸,۸۶۰,۰۰۰,۰۰۰ (ب) ۷۰,۰۰۰,۰۰۰
 (۲) الف) ۱۷,۷۵۰,۰۰۰,۰۰۰ (ب) ۴۵,۰۰۰,۰۰۰
 (۳) الف) ۱۸,۸۶۰,۰۰۰,۰۰۰ (ب) ۱۱۵,۰۰۰,۰۰۰
 (۴) الف) ۱۸,۶۳۲,۰۰۰,۰۰۰ (ب) ۷۰,۰۰۰,۰۰۰

۱۴- با توجه به نمودار مقابل:



الف) در قیمت ۲۵۰۰ تومان، بازار در چه وضعیتی قرار دارد و درآمد تولیدکننده چقدر است؟

ب) در کدام قیمت، مازاد و کمبود عرضه وجود ندارد؟

- (۱) الف) کمبود عرضه - ۷۵۰,۰۰۰ تومان - ب) قیمت تعادلی
 (۲) الف) کمبود عرضه - ۵۰۰,۰۰۰ تومان - ب) ۲۰۰۰ تومان
 (۳) الف) مازاد عرضه - ۵۰۰,۰۰۰ تومان - ب) قیمت تعادلی
 (۴) الف) مازاد عرضه - ۷۵۰,۰۰۰ تومان - ب) ۲۰۰۰ تومان

۱۵- با توجه به جدول زیر به پرسش‌ها پاسخ دهید.

الف) در قیمت ۸۰,۰۰۰ تومان درآمد تولیدکننده چقدر است؟

ب) در قیمت ۱۰,۰۰۰ تومان میزان پرداخت مصرف‌کنندگان چقدر است؟

ج) میزان مازاد یا کمبود عرضه در سطح قیمت ۱۶۰,۰۰۰ تومان چقدر است؟

- (۱) الف) ۲,۴۰۰,۰۰۰ (ب) ۲۰۰,۰۰۰ (ج) ۶۰ واحد
 (۲) الف) ۴۰۰,۰۰۰ (ب) ۶۰,۰۰۰ (ج) ۲۰ واحد
 (۳) الف) ۲,۴۰۰,۰۰۰ (ب) ۲۰۰,۰۰۰ (ج) ۴۰ واحد
 (۴) الف) ۴۰۰,۰۰۰ (ب) ۲۰۰,۰۰۰ (ج) ۴۰ واحد

عرضه	تقاضا	قیمت	ردیف
۲۰	۶۰	۱۰,۰۰۰	۱
۳۰	۵۰	۲۰,۰۰۰	۲
۴۰	۴۰	۴۰,۰۰۰	۳
۵۰	۳۰	۸۰,۰۰۰	۴
۶۰	۲۰	۱۶۰,۰۰۰	۵