

- ۱- با توجه به این که علم اقتصاد، علم انتخاب است در تصمیم گیری های اقتصادی کدام گزینه را نباید در نظر قرار داد؟
 (۱) منابع و عوامل کمیاب (۲) هزینه های هدررفته (۳) هزینه فرصت (۴) قید بودجه
- ۲- شخصی سالانه ۳۰,۰۰۰ واحد کالا تولید و عرضه می کند. ایشان هزینه هایی به شرح زیر دارند:

هزینه مواد خام و اولیه در ماه ۱۸ میلیون تومان، حقوق ۱۳ کارگر در ماه میانگین ۲,۵۰۰,۰۰۰ تومان است، هزینه تعمیر و جایگزینی ماشین آلات سالانه ۲۰۰ میلیون و ۶۰۰ هزار تومان و هزینه های جانبی معادل ۴۰٪ هزینه مواد خام در سال است. ایشان اگر بنگاه تولیدی خود را اجاره دهند ماهیانه ۲۰ میلیون تومان اجاره دریافت می کنند، اما انتخاب ایشان این است که خودشان به کار تولیدی مشغول شوند و کالاهای تولیدی خود را به ارزش هر کالا ۶۰ هزار تومان به فروش برسانند؛ در این صورت سود یا زیان سالانه ایشان چقدر است؟

- (۱) ۷۷۳,۰۰۰,۰۰۰ تومان زیان
 (۲) ۶۶۷,۰۰۰,۰۰۰ تومان سود
 (۳) ۶۹۷,۰۰۰,۰۰۰ تومان زیان
 (۴) ۹۰۷,۰۰۰,۰۰۰ تومان سود

- ۳- با توجه به مفهوم هزینه فرصت کدام گزینه صحیح نیست؟

(۱) شخصی در یک زمین زراعی می تواند جو بکارد و در پایان سال ۷۰۰ میلیون تومان سود ببرد، گندم بکارد و ماهانه سودی معادل ۵۰ میلیون تومان داشته باشد و یا ۸۰۰۰ کیلو سیب درجه یک از قرار هر کیلو ۲۱ هزار تومان بکارد. او تصمیم می گیرد در زمین خود جو بکارد و هزینه فرصت او با این انتخاب معادل ۶۰۰ میلیون تومانی است که از کاشت گندم صرف نظر کرده است.

(۲) شخصی می تواند در دفتر وکالت خود روزانه ۵ نفر را بپذیرد و از هر یک حق الوکاله ای معادل ۳۰۰ هزار تومان بگیرد و ۱۰۰ هزار تومان به دستیارش بابت کارهای دفتری دهد یا این که همه کارهای دفتر را خودش انجام دهد، اما ۴ موکل را بپذیرد که در این صورت هزینه فرصت او بیشتر می شود، پس تصمیم می گیرد یک نفر را برای انجام کارهای دفتری استخدام کند.

(۳) شخصی به یک تئاتر می رود و ۱۸۰ هزار تومان پول بلیط می دهد، بعد از گذشت ۳۰ دقیقه از تئاتر، آن جا را ترک می کند، زیرا اصلاً تئاتر مورد علاقه اش نیست و بین رفتن به سینما و یا گیم نت، رفتن به سینما را انتخاب می کند و هزینه فرصت انتخاب او معادل پولی است که بابت رفتن به تئاتر پرداخته است.

(۴) شخصی برای دو سال آینده خود سه انتخاب پیش رو دارد؛ یکی رفتن به سربازی و بعد از دو سال پیدا کردن یک موقعیت شغلی بسیار عالی با دریافت حقوق ماهیانه ۱۰ میلیون تومان، دومی تحصیل در مقطع کارشناسی ارشد و دریافت حقوقی سالیانه معادل ۱۴۰ میلیون تومان و در سال سوم مشغول شدن در محلی برای کار و کسب تجربه در آن حرفه که باعث می شود حقوق ثابتی معادل ماهانه ۷ میلیون تومان به محض شروع کار داشته باشد. ایشان تصمیم می گیرد انتخاب سوم را داشته باشد و در این صورت هزینه فرصت او ۱۴۰ میلیون تومانی است که سالانه از کسب درآمد با مدرک کارشناسی ارشد از آن صرف نظر کرده است.

- ۴- با توجه به سؤالات زیر کدام گزینه صحیح است؟

(الف) در برآورد مقایسه میان هزینه ها و منافع، این که چه چیزی را هزینه و چه چیزی را منفعت به حساب آوریم وابسته به چیست؟

(ب) بهترین تصمیم در مقایسه منافع و هزینه ها به چه چیزی بستگی دارد؟

- (۱) الف) شرایط اقتصادی و ارزش های فرهنگی و اجتماعی، (ب) موقعیت شما
 (۲) الف) موقعیت ها و رویکردهای اقتصادی و اجتماعی، (ب) نوع رویکرد شما
 (۳) الف) شرایط اقتصادی و ارزش های سیاسی و اجتماعی، (ب) موقعیت شما
 (۴) الف) موقعیت ها و ارزش های فرهنگی و اجتماعی، (ب) نوع رویکرد شما

۵- با آب و تاب از سودی که فست فود معروف محله شان دارد صحبت می کند و تصمیم می گیرد او هم چنین کسب و کاری راه اندازی کند، هر چه پدرش می گوید تو در این کار تخصص و اطلاعات کافی نداری و بهتر است در رشته تخصصی که در آن تحصیلات آکادمیک داری مشغول به کار شوی و چنین ریسک بزرگی را روی تمام اندوخته ات نکنی، او قبول نمی کند و رستورانش را افتتاح می کند و بعد از ۶ ماه مجبور می شود به علت عدم سوددهی کسب و کار خود را تعطیل کند. این شخص دچار کدام خطای رایج در تصمیم گیری اش شده است؟

- (۱) چسبیدن به وضعیت فعلی
 (۲) اثرگذاری حقه های فروش بر تصمیم گیری
 (۳) بی صبری زیاد
 (۴) اعتماد به نفس بیش از حد

- ۶- با توجه به موارد «الف و ب»، کدام گزینه صحیح است؟

(الف) مرز امکانات تولید

(ب) زمانی که یک شرکت کارا عمل کند

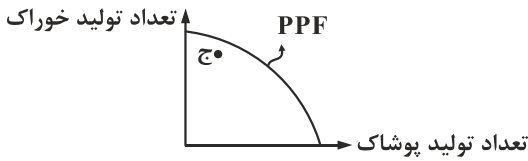
(۱) الف) نشان دهنده حداکثر امکان تولید با منابع موجود است. (ب) هر فرصتی را برای استفاده بهتر از منابع به کار می گیرد و این تغییر باعث می شود وضع دیگران بدتر شود.

(۲) الف) نشان دهنده حداقل و حداکثر امکان تولید در یک شرکت یا کشور است. (ب) با توجه به منابع و امکانات موجود می تواند روی مرز امکانات تولید و فراتر از آن حرکت کند.

(۳) الف) نشان دهنده حداقل و حداکثر امکان تولید با منابع موجود است. (ب) از منابع موجود خود، توانسته بیشترین استفاده را ببرد.


(۴) الف) نشان دهنده حداکثر امکان تولید در یک شرکت یا کشور است. (ب) با استفاده از منابع و امکانات فعلی اش توانسته روی PPF یا زیر آن تولید کند.

۷- با توجه به نقطه «ج» در منحنی مقابل کدام گزینه صحیح نیست؟



- ۱) نقطه «ج» نشان می‌دهد که اقتصاد از بیش‌ترین منابع استفاده نکرده است.
- ۲) در این نقطه حداقل مقدار بیش‌تری از یک کالا می‌توانستیم تولید کنیم بدون این‌که تولید کالای دیگر کاهش یابد.
- ۳) با توجه به منابع موجود فعلی در نقطه «ج» تولید کرده‌ایم، اگر می‌خواهیم تولید افزایش یابد، باید مقدار منابع تولید را افزایش دهیم.
- ۴) از آن‌جا که این نقطه زیر منحنی مرز امکانات تولید قرار دارد، تولید در نقطه «ج» ناکارا است.

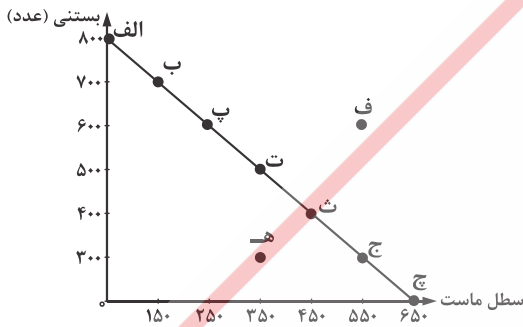
۸- با توجه به نمودار مقابل:



الف) در نقطه «ب» چه تعداد توپ و چه تعداد عروسک تولید شده است؟
ب) کدام نقاط در منحنی مرز امکانات تولید در شرایط کارا قرار دارند؟

- ۱) الف) توپ ۳۰۰، عروسک ۷۰۰ (ب) ه و ج
- ۲) الف) توپ ۳۰۰، عروسک ۷۰۰ (ب) ث و الف
- ۳) الف) توپ ۷۰۰، عروسک ۳۰۰ (ب) ف و ث
- ۴) الف) توپ ۷۰۰، عروسک ۳۰۰ (ب) ج و پ

۹- با توجه به نمودار مقابل:



الف) هزینه فرصت حرکت از نقطه «الف» به «ج» چیست؟

ب) با فرض انتخاب هر دو محصول، جامعه‌ای خواهان ماست بیش‌تر است، در این صورت انتخاب کدام نقطه منطقی‌تر است؟

پ) نقطه «ف» در چه وضعیتی نسبت به مرز امکانات تولید قرار دارد؟

- ۱) الف) ۵۰۰ عدد بستنی، (ب) «ج» (پ) با توجه به منابع موجود غیرقابل دست‌یابی است.
- ۲) الف) ۵۵۰ سطل ماست، (ب) «ج» (پ) تولید در این نقطه ناکارا است.
- ۳) الف) ۵۰۰ عدد بستنی، (ب) «ج» (پ) در هر شرایطی امکان دسترسی به این نقطه وجود ندارد.
- ۴) الف) ۵۵۰ سطل ماست، (ب) «ج» (پ) در صورتی‌که همه عوامل تولید را به کار بگیریم، کارا است.

۱۰- هریک از موارد «الف» و «ب» چه وضعیتی را برای منحنی مرز امکانات تولید به‌وجود می‌آورد؟

الف) دو دستگاه چاپ جدید به خط تولید شماره ۳ اضافه شد.

ب) با توجه به نیاز فعلی جامعه، تصمیم بر این شد که کالای «ب» بیش‌تر از کالای «الف» تولید شود.

- ۱) الف) جابه‌جا شدن در طول مرز امکانات تولید، (ب) انتقال مرز امکانات تولید
- ۲) الف) انتقال مرز امکانات تولید، (ب) جابه‌جا شدن در طول مرز امکانات تولید
- ۳) الف) جابه‌جا شدن در طول مرز امکانات تولید، (ب) بدون تغییر
- ۴) الف) انتقال مرز امکانات تولید، (ب) بدون تغییر