

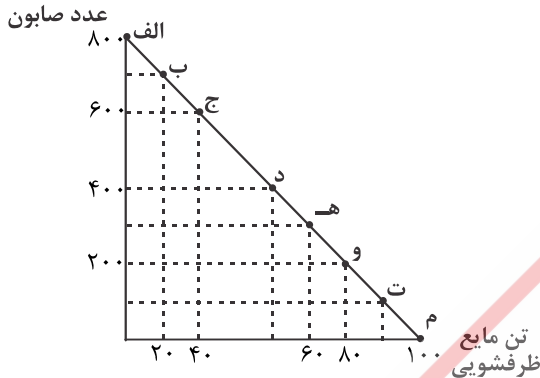
۱- برای کدام یک از موارد زیر نمی‌توانیم هزینه فرصت در نظر بگیریم؟

- (۱) تحصیل در دانشگاه (۲) پیاده‌روی در اوقات فراغت (۳) غذا خوردن (۴) انجام کارهای اداره

۲- براساس اصولی که قبل از هر تصمیمی در انتخاب کسب و کار باید رعایت کرد به‌طور مشخص بعد از محاسبه هزینه فرصت هر انتخاب چه اصلی مطرح می‌شود و اصل نهایی در بین این اصول کدام است؟

- (۱) شناسایی منابع کمیاب خود - مقایسه بین هزینه‌ها و منافع خود (۲) ترسیم قید بودجه خود - فراموش کردن هزینه‌های در رفته  
(۳) شناسایی منابع کمیاب خود - فراموش کردن هزینه‌های در رفته (۴) ترسیم قید بودجه خود - فراموش کردن هزینه‌های در رفته

۳- براساس خط بودجه ارائه شده مشخص کنید: در نقطه «ج» قید بودجه از تولید صابون و مایع ظرفشویی چقدر می‌باشد؟ و در کدام نقطه تولید صابون به حداقل تولید می‌رسد؟ با فرض تولید ماهانه: (قیمت هر عدد صابون ۲۰ هزار تومان و هر تن مایع ظرفشویی ۴ میلیون تومان)



(۱) ۶۰ میلیون؛ ۴۰ میلیون - ت

(۲) ۱۲ میلیون؛ ۱۶۰ میلیون - م

(۳) ۱۲ میلیون؛ ۱۶۰ میلیون - ت

(۴) ۶۰ میلیون؛ ۴۰ میلیون - م

۴- پاسخ هر یک از موارد زیر در کدام گزینه آمده است؟ (طبق اصول انتخاب کسب و کار)

- براساس کدام اصل شما مجبورید بین گزینه‌های خود بده - بستان کنید؟

- بخش مهم تصمیم‌گیری منطقی کدام است؟

- برای اینکه یک تصمیم خوب بگیریم چه امری بسیار مهم است؟

(۱) محاسبه هزینه فرصت - تشخیص تفاوت هزینه‌های تاثیرگذار - مقایسه بین هزینه‌ها و منافع خود

(۲) ترسیم قید بودجه - مقایسه بین هزینه‌ها و منافع خود - تشخیص تفاوت هزینه‌های تاثیرگذار

(۳) محاسبه هزینه فرصت - مقایسه بین هزینه‌ها و منافع خود - تشخیص تفاوت هزینه‌های تاثیرگذار

(۴) ترسیم قید بودجه - تشخیص تفاوت هزینه‌های تاثیرگذار - مقایسه بین هزینه‌ها و منافع خود

۵- اولین امکانات ما برای تولید کالا و خدمات را در اصطلاح چه می‌نامند و وقتی انسان در جریان انتخاب کسب و کار بود چه اش محدود است،

مجبور است چه اقدامی کند؟

(۱) منابع تولید - بده - بستان

(۲) نهاده‌های تولید - فراموش کردن هزینه‌های در رفته

(۳) منابع تولید - محاسبه هزینه فرصت هر انتخاب

۶- پاسخ هر یک از موارد زیر در کدام گزینه به درستی مطرح شده است؟

- الگوی مرز امکانات تولید به ما اجازه می‌دهد تا درک درستی از چه امری ایجاد شود؟

- الگوی مرز امکانات تولید کاربرد اصول اقتصادی را در چه امری مورد بررسی قرار می‌دهد؟

(۱) بده - بستان - کمیابی منابع تولید

(۲) انتخاب بهینه - انتخاب بهینه

(۳) بده - بستان - انتخاب بهینه

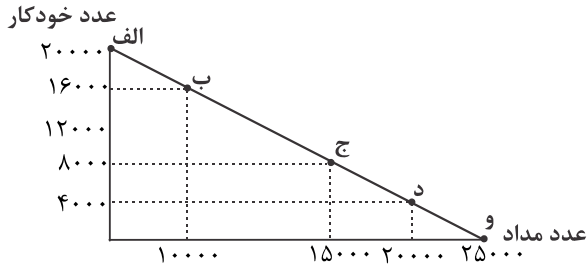
۷- الگوی مرز امکانات تولید نشان دهنده چیست و عبارت «چیزی به نام ناهار مجانی وجود ندارد» تداعی کننده چیست؟

- (۱) حداقل امکان تولید و شرایط موجود - هزینه فرصت اجتماع  
 (۲) حداکثر امکات تولید یا منابع موجود - تخصیص بهینه  
 (۳) حداقل امکان تولید و شرایط موجود - تخصیص بهینه  
 (۴) حداکثر امکات تولید یا منابع موجود - هزینه فرصت اجتماع

۸- کدام یک از مفاهیم و اصطلاحات علمی، اقتصادی ذکر شده رابطه مستقیم معنا داری با مدل مرز امکانات تولید ندارد؟

- (۱) تخصیص بهینه (۲) قید بودجه (۳) کارایی (۴) هزینه فرصت

۹- براساس منحنی الگوی مرز امکانات تولید ارائه شده مطلوبست:



الف) تفسیر نقطه «د»؟

ب) در چه نقطه‌ای تولید خودکار به صفر می‌رسد؟

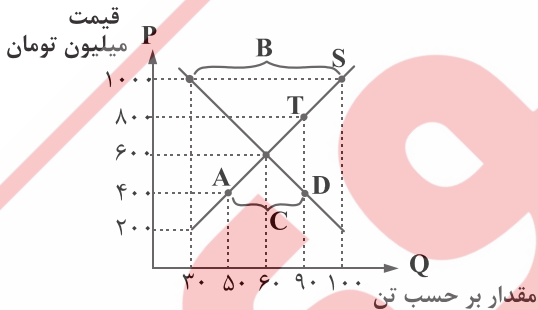
ج) میزان تولید مداد در بالاترین سطح در کنار حداقل تولید خودکار چقدر است؟

- (۱) الف) پایین‌ترین سطح تولید خودکار و بالاترین سطح تولید مداد ب) «و» ج) ۲۰۰۰۰  
 (۲) الف) بالاترین سطح تولید مداد در کنار حفظ حداقل تولید خودکار ب) «الف» ج) ۲۵۰۰۰  
 (۳) الف) پایین‌ترین سطح تولید خودکار و بالاترین سطح تولید مداد ب) «الف» ج) ۲۵۰۰۰  
 (۴) الف) بالاترین سطح تولید مداد در کنار حفظ حداقل تولید خودکار ب) «و» ج) ۲۰۰۰۰

۱۰- الگوی مرز امکانات تولید در جریان بده - بستان تولید چه امری را مشخص می‌کند؟ و مرز امکانات تولید برای یک کشور تجسم کننده چیست؟

- (۱) کارایی و ناکارایی - هزینه فرصت  
 (۲) انتخاب بهینه - هزینه فرصت  
 (۳) هزینه فرصت - انتخاب بهینه  
 (۴) انتخاب بهینه - کارایی و ناکارایی

۱۱- براساس نمودار بازار ارائه شده مطلوبست:



الف) مقدار و قیمت تعادل؟

ب) مازاد عرضه؟

ج) مازاد تقاضا؟

د) در نقطه «T» چقدر مازاد تولید داریم؟

- (۱) الف) ۶۰، ۶۰۰ ب) ۴۰ ج) ۷۰ د) ۹۰  
 (۲) الف) ۶۰، ۶۰۰ ب) ۷۰ ج) ۴۰ د) ۹۰  
 (۳) الف) ۶۰، ۶۰۰ ب) ۷۰ ج) ۴۰ د) ۳۰  
 (۴) الف) ۶۰، ۶۰۰ ب) ۴۰ ج) ۷۰ د) ۳۰

۱۲- براساس نمودار بازار ارائه شده مطلوبست:

الف) نقطه فاصله مازاد تقاضا؟

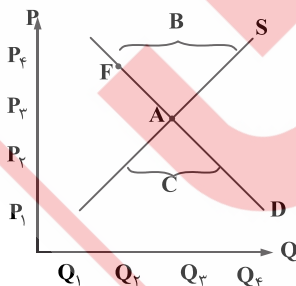
ب) نقطه فاصله مازاد عرضه؟

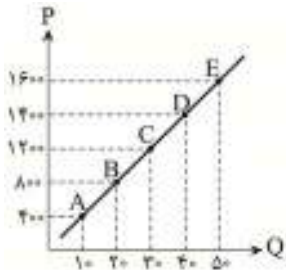
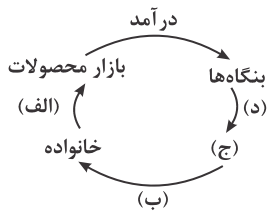
ج) حرف اختصاری نمودار تقاضا؟

د) حرف اختصاری نمودار عرضه؟

ن) در نقطه f با چه شرایطی مواجه هستیم؟

- (۱) الف) C ب) D ج) B د) S ن) مازاد عرضه  
 (۲) الف) B ب) S ج) C د) D ن) مازاد عرضه  
 (۳) الف) B ب) D ج) C د) S ن) کمبود تقاضا  
 (۴) الف) C ب) D ج) B د) S ن) کمبود تقاضا





۱۳- بر اساس نمودار چرخشی ساده ارائه شده مصادیق (الف، ب، ج، د) کدام است؟

(۱) الف) خرید ب) درآمد خانوار ج) بازار عوامل تولید د) پرداخت‌های عوامل تولید

(۲) الف) پرداخت‌های عوامل تولید ب) خرید ج) دولت د) درآمد دولت

(۳) الف) خرید ب) درآمد خانوارها ج) بازار عوامل تولید د) هزینه‌های خانوار

(۴) الف) فروش ب) هزینه‌های خانوار ج) دولت د) درآمدهای دولت

۱۴- براساس نمودار ارائه شده مطلوبست:

- دلیل حرکت از نقطه B به نقطه C؟

- در نقطه D درآمد چقدر است؟

- بالاترین میزان تولید چه درآمدی را نشان می‌دهد؟

(۱) کاهش میزان تقاضا - ۵۶,۰۰۰ - ۸۰,۰۰۰

(۲) افزایش تولید - ۵۶,۰۰۰ - ۸۰,۰۰۰

(۳) کاهش میزان تولید - ۱,۴۰۰ - ۱,۶۰۰

(۴) افزایش میزان تقاضا - ۱,۴۰۰ - ۱,۶۰۰

۱۵- پاسخ دهید:

- فروشندگان آثار هنری معمولاً آثار خود را به چه صورتی در بازار ارائه می‌کنند؟

- اکثر خریداران عمده کالا و خدمات در بازار به چه صورتی شرکت می‌کنند؟

- بازارهای فوق را با چه عنوانی می‌شناسیم؟

(۴) مزایده - مناقصه - انحصار

(۳) مناقصه - مزایده - حراجی

(۲) مزایده - مناقصه - حراجی

(۱) مناقصه - مزایده - انحصار

روسی