

ریاضی ۲

۱- گزینه «۲» -

$$S = \alpha + \beta = \frac{1 + \sqrt{5}}{3} + \frac{1 - \sqrt{5}}{3} = \frac{2}{3}$$

$$P = \alpha \cdot \beta = \left(\frac{1 + \sqrt{5}}{3}\right)\left(\frac{1 - \sqrt{5}}{3}\right) = \frac{1 - 5}{9} = \frac{-4}{9}$$

$$x^2 - Sx + P = 0 \Rightarrow x^2 - \frac{2}{3}x - \frac{4}{9} = 0$$

$$9x^2 - 6x - 4 = 0$$

(میرزایی) (معادله درجه دوم - طریقه نوشتن معادله درجه دوم) (آسان)

۲- گزینه «۴» -

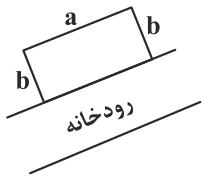
$$x^2 = t : 2t^2 - 7t - 4 = 0 \Rightarrow \begin{cases} t = -\frac{1}{2} \\ t = 4 \end{cases}$$

$$x^2 = -\frac{1}{2} \text{ غرق } , x^2 = 4 \Rightarrow x = \pm 2$$

$$P = (-2)(2) = -4 \Rightarrow P^2 + P = (-4)^2 + (-4) = 12$$

(میرزایی) (معادله درجه دوم - حل معادله به روش تفسیر متغیر) (متوسط)

۳- گزینه «۲» -



$$P = a + 2b \Rightarrow a + 2b = 100 \Rightarrow a = 100 - 2b$$

$$S = a \cdot b \Rightarrow S = (100 - 2b) \times b \Rightarrow S = -2b^2 + 100b$$

بنا به نمودار درجه دوم:

$$S_{\max} = \frac{-\Delta}{4a} = \frac{-(100^2 - 0)}{4(-2)} = \frac{10000}{8} = 1250 \text{ m}^2$$

(میرزایی) (نمودار درجه دوم - مقدار ماکزیمم تابع درجه دوم) (متوسط)

۴- گزینه «۲» -

$a < 0 \rightarrow$ نمودار max دارد.

$$\frac{-b}{2a} > 0 \rightarrow b > 0$$

$c > 0 \rightarrow$ محل تلاقی f با محور yها

$\Delta > 0 \Rightarrow$ معادله دو ریشه حقیقی دارد. \Rightarrow چون صفهای تابع f دو تا می باشد.

$$a \cdot b \cdot c - b \cdot c \cdot \Delta = (-) - (+) = (-)$$

$$(-) (+) (+) - (+) (+) (+) (+)$$

(میرزایی) (نمودار درجه دوم - علامت ضرایب درجه دوم) (متوسط)

۵- گزینه «۲» -

$$S = \alpha + \beta = \frac{-b}{a} = \frac{1}{3}, P = \alpha \cdot \beta = \frac{c}{a} = -\frac{1}{3}$$

$$\text{عبارت} = \alpha^2 \beta + \alpha \beta^2 = \alpha \beta (\alpha + \beta) = P \cdot S = \frac{1}{3} \times \frac{-1}{3} = \frac{-1}{9}$$

(میرزایی) (معادله درجه دوم - رابطه بین ضرایب و ریشهها) (آسان)

۶- گزینه «۴» -

$$2x^2 - 4x - 1 = 0 \quad \{\alpha, \beta\} \quad \{\alpha+2, \beta+2\}$$

$$S = \alpha + \beta = 2, P = \alpha \cdot \beta = \frac{-1}{2}$$

$$\text{معادله جدید} = S_1 = x_1 + x_2 = (\alpha+2) + (\beta+2) = (\alpha+\beta) + 4 = 2 + 4 = 6$$

$$\text{معادله جدید} = P_1 = x_1 \times x_2 = (\alpha+2)(\beta+2) = \alpha\beta + 2\alpha + 2\beta + 4 = \alpha\beta + 2(\alpha+\beta) + 4 = P + 2S + 4 = -\frac{1}{2} + 2(2) + 4 = \frac{15}{2}$$

$$x^2 - S_1x + P_1 = 0 \Rightarrow x^2 - 6x + \frac{15}{2} = 0 \Rightarrow 2x^2 - 12x + 15 = 0$$

(میرزایی) (معادله درجه دوم - طریقه نوشتن معادله درجه دوم) (متوسط)

۷- گزینه «۱» -

$$\text{رأس سهمی: A} \begin{cases} x = \frac{-6}{2(-1)} = 3 \\ y = -9 + 18 - 5 = 4 \end{cases}$$

$$f(x) = 0: -x^2 + 6x - 5 = 0 \Rightarrow \begin{cases} x = 1 & \text{B} \\ x = 5 & \text{C} \end{cases}$$

$$S_{ABC} = \frac{BC \times h}{2} \Rightarrow \text{ارتفاع مثلث} = h = \frac{(4)(4)}{2} = 8$$

(میرزایی) (نمودار درجه دوم - صفرهای تابع و رأس سهمی) (متوسط)

۸- گزینه «۳» -

$$\text{مخرجها} = x(x+5) = x(x+5)$$

طرفین معادله را در ک.م.م.مخرجها ضرب کنید:

$$x(x+4) + (3x+5) = (x+1)(x+5) \Rightarrow x^2 + 4x + 3x + 5 = x^2 + 6x + 5$$

$$7x + 5 = 6x + 5 \Rightarrow x = 0 \text{ غ ق ق (چون ریشه مخرج است.)}$$

(میرزایی) (معادلات گویا و گنگ - حل معادلات گویا) (آسان)

۹- گزینه «۲» -

$$\text{صدق ریشه در معادله} : x = -1: \frac{-2}{-1-3} + \frac{-1+A}{-1+4} = \frac{-1-A}{-1-3}$$

$$\frac{1}{2} + \frac{-1+A}{3} = \frac{1+A}{4} \Rightarrow A = 1$$

$$\frac{2x}{x-3} + \frac{x+1}{x+4} = \frac{x-1}{x-3} \Rightarrow 2x(x+4) + (x+1)(x-3) = (x-1)(x+4)$$

$$2x^2 + 6x - 3 = 3x - 4 \Rightarrow 2x^2 + 3x + 1 = 0 \Rightarrow \begin{cases} \text{ق ق } x = -1 \\ \text{ق ق } x = -\frac{1}{2} \end{cases}$$

(میرزایی) (معادلات گویا و گنگ - حل معادلات گویا) (متوسط)

۱۰- گزینه «۴» -

$$\frac{1}{t_1} + \frac{1}{t_2} = \frac{1}{4}$$

$$t_2 = t_1 + 15: \frac{1}{t_1} + \frac{1}{t_1 + 15} = \frac{1}{4} \Rightarrow 4t_1(t_1 + 15) \left(\frac{1}{t_1} + \frac{1}{t_1 + 15} \right) = \frac{1}{4}$$

$$4(t_1 + 15) + 4t_1 = t_1(t_1 + 15) \Rightarrow 4t_1 + 60 + 4t_1 = t_1^2 + 15t_1 \Rightarrow t_1^2 + 7t_1 - 60 = 0$$

$$(t_1 + 12)(t_1 - 5) = 0 \Rightarrow \begin{cases} \text{غ ق ق } t_1 = -12 \\ \text{ق ق } t_1 = 5 \end{cases}$$

(کتاب همراه علوی) (معادلات گویا و گنگ - کاربرد معادلات گویا) (متوسط)

۱۱- گزینه «۴» -

$$\sqrt{x-3} + \sqrt{2x+3} = -2$$

سمت چپ معادله همواره مثبت و سمت راست آن همواره منفی است، پس بدون ریشه حقیقی می‌باشد.

(میرزایی) (معادلات گنگ و گویا - حل معادله گنگ) (آسان)

۱۲- گزینه «۳» -

$$\sqrt{2x-5} = \sqrt{x+1} - 1$$

به توان ۲ برسانید:

$$2x-5 = x+1+1-2\sqrt{x+1} \Rightarrow 2\sqrt{x+1} = 7-x$$

به توان ۲ برسانید:

$$4(x+1) = 49 - 14x + x^2 \Rightarrow x^2 - 18x + 45 = 0$$

بررسی جواب‌ها:

$$(x-15)(x-3) = 0 \Rightarrow \begin{cases} x = 15: \sqrt{15+1} - \sqrt{30-5} = 1 \Rightarrow -1 \neq 1 \\ x = 3: \sqrt{3+1} - \sqrt{6-5} = 1 \Rightarrow 1 = 1 \checkmark \end{cases}$$

پس $a = 3$ می‌باشد:

$$\frac{2a+1}{a} = \frac{2(3)+1}{3} = \frac{7}{3}$$

(میرزایی) (معادلات گویا و گنگ - حل معادلات گنگ) (متوسط)

۱۳- گزینه «۳» -

$$\sqrt{2x^2 - 5x + 2} = x - 2$$

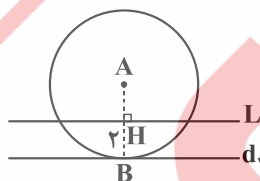
به توان ۲ برسانید:

$$2x^2 - 5x + 2 = x^2 - 4x + 4$$

$$x^2 - x - 2 = 0 \Rightarrow \begin{cases} x = -1 \text{ (در معادله اولیه صدق نمی‌کند)} \\ x = 2 \text{ ق ق} \end{cases}$$

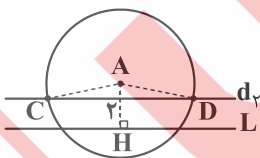
(میرزایی) (معادلات گویا و گنگ - حل معادلات گنگ) (متوسط)

۱۴- گزینه «۴» - A مرکز دایره‌ای به شعاع ۵ سانتی‌متر است.



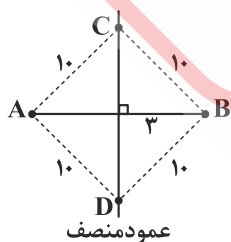
$$AH = 3$$

خط d_1 مماس بر دایره و شرایط مسئله را دارا است، پس نقطه B یکی از نقاط می‌باشد.
خط d_2 با خط L، ۲ cm فاصله دارد و شرایط مسئله را دارا است و نقاط C و D دیگر نقاط مورد نظر مسئله می‌باشد.



(میرزایی) (هندسه - ترسیم‌های هندسی) (متوسط)

۱۵- گزینه «۲» - با توجه به تعریف عمودمنصف، ۲ نقطه C و D می‌توان یافت:



(میرزایی) (هندسه - ترسیم‌های هندسی) (آسان)

۱۶- گزینه «۳» - B روی نیمساز است، پس داریم:

$$BH = BH'$$

$$x^2 = \Delta x + 6 \Rightarrow x^2 - \Delta x - 6 = 0 \Rightarrow \begin{cases} \text{غ ق ق } x = -1 \\ \text{ق ق } x = 6 \end{cases}$$

$$BH = x^2 = 6^2 = 36, AH = 3(6) = 18$$

$$\Delta ABH : AB^2 = BH^2 + AH^2 \Rightarrow AB^2 = (36)^2 + (18)^2 \Rightarrow AB^2 = 18^2 \times 4 + 18^2 = 18^2(4+1) = 18^2 \times 5 \Rightarrow AB = 18\sqrt{5}$$

(کتاب همراه علوی) (هندسه - ترسیم‌های هندسی) (دشوار)

۱۷- گزینه «۱» -

$$\frac{a-b}{2a+b} = \frac{2}{3} \Rightarrow 3(a-b) = 2(2a+b) \Rightarrow 3a - 3b = 4a + 2b \Rightarrow a = -5b$$

$$\frac{3a-b}{a-2b} = \frac{3(-5b)-b}{-5b-2b} = \frac{-16b}{-7b} = \frac{16}{7}$$

(میرزایی) (هندسه - نسبت و تناسب) (متوسط)

۱۸- گزینه «۴» - بنا به قضیه تالس داریم:

$$\frac{AM}{AB} = \frac{AN}{AC} = \frac{MN}{BC}$$

$$\frac{8}{12} = \frac{2b+3}{2b+9} = \frac{6}{4a+1} \Rightarrow \begin{cases} \frac{2b+3}{2b+9} = \frac{8}{12} \Rightarrow \frac{b+1}{b+3} = \frac{2}{3} \\ \frac{6}{4a+1} = \frac{8}{12} \Rightarrow \frac{6}{4a+1} = \frac{2}{3} \Rightarrow 8a+2=18 \Rightarrow a=2 \end{cases} \Rightarrow a+b = 2+3 = 5$$

(میرزایی) (هندسه - قضیه تالس) (متوسط)

۱۹- گزینه «۲» - بنا به قضیه تالس داریم:

$$\left. \begin{array}{l} BE \parallel CF \Rightarrow \frac{AB}{BC} = \frac{AE}{EF} \\ CE \parallel DF \Rightarrow \frac{AC}{CD} = \frac{AE}{EF} \end{array} \right\} \Rightarrow \frac{AB}{BC} = \frac{AC}{CD}$$

$$\frac{5}{3} = \frac{8}{CD} \Rightarrow CD = \frac{24}{5} = 4\frac{4}{5}$$

(میرزایی) (هندسه - قضیه تالس) (متوسط)

۲۰- گزینه «۴» - چون اگر یک چهارضلعی قطرهاش برابر باشند، الزاماً آن چهارضلعی مستطیل نیست، مثال نقض: دوزنقه متساوی‌الساقین که

قطرهاش با هم برابر هستند. (میرزایی) (هندسه - استدلال در هندسه) (متوسط)