

نام خانوادگی:

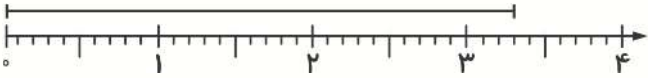
نام:

شماره ملی:

شعبه: کلاس:

۴) جاهای خالی را کامل کنید.

الف) اندازه‌ی خط واحد و قسمت از ۱۰ قسمت مساوی است.



ب) قسمت از قسمت مساوی رنگ نشده است.



پ) دسته‌ی تایی می‌شود تا



۵) با کامل کردن جاهای خالی، جمع و تفریق‌های زیر را حل کنید.

الف) ۶۰۰

ب) ۴۳۵

$$\begin{array}{r} 600 \\ - 128 \\ \hline \square\square\square \end{array}$$

$$\begin{array}{r} 435 \\ + 151 \\ \hline \square\square\square \\ + \square\square \\ \hline \square\square\square \\ + \square \\ \hline \square\square\square \end{array}$$



۱) هر عبارت را به پاسخ صحیح وصل کنید.

الف) ۳۰ میلی‌متر • ۸۰ میلی‌متر (۱)

ب) ۴۸ میلی‌متر • ۶۵ میلی‌متر (۲)

پ) ۸ سانتی‌متر • ۴ سانتی‌متر و ۸ میلی‌متر (۳)

ت) ۶ سانتی‌متر و ۵ میلی‌متر • ۳ سانتی‌متر (۴)


۵ میلی‌متر

۶) الف) عددهای زیر را با حذف رقم یکان و دهگان به صورت تقریبی بنویسید.

۱) $874 =$

۲) $403 =$

ب) با توجه به صفحه‌ی چرخنده، به سوالات پاسخ دهید.



۱) شانس کدام عدد از همه کمتر است؟

۲) شانس کدام دو عدد با هم برابر است؟

۲) جملات درست را با علامت ✓ و جملات نادرست را با علامت ✗ مشخص کنید.

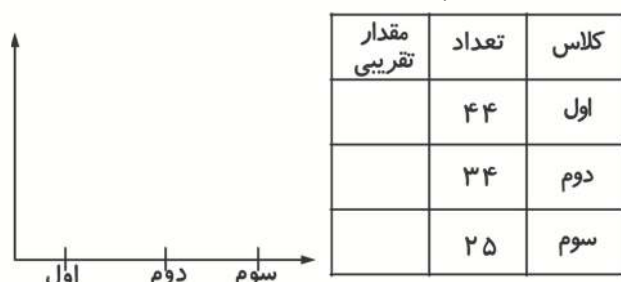
الف) با کارت اعداد ۴ و ۵ می‌توان ۴ عدد دو رقمی نوشت.

ب) ۶۰ سکه‌ی ۱۰ ریالی می‌شود ۶۰۰ ریال.

پ) مربع، مثلث و مستطیل هر کدام ۴ ضلع و ۴ گوشه دارند.

ت) در الگوی ۱, ۳, ۷, ۱۳, ... بعد از ۷، عدد ۱۳ می‌باشد.

۷) با توجه به اطلاعات، مقدار تقریبی دانش‌آموزان هر کلاس را در جدول بنویسید. سپس نمودار تصویری داده شده را کامل کنید.



به‌ازای هر ۵ دانش‌آموز یک ستاره (*) بکشید.

۳) گزینه‌ی صحیح را مشخص کنید.

الف) اگر ساعت ۸:۲۵ دقیقه باشد، ۳۰ دقیقه‌ی بعد عقربه‌ی بزرگ روی چه عددی قرار می‌گیرد؟

۹ (۱) ۱۰ (۲) ۱۱ (۳)

ب) رقم دهگان کدام‌یک از عددهای داده شده فرد است؟

۳۵۰ (۱) ۳۶۷ (۲) ۶۶ (۳)

پ) کدام شکل هندسی، دو خط تقارن دارد؟

دایره (۱) مثلث (۲) مستطیل (۳)