

علوم سوم دبستان

طرح ستجش استعداد: گوتیا - تشخیصی

هفته دوم مهر

زمان: ۴۵ دقیقه

نام خانوادگی:

نام:

شماره ملی:

شعبه: کلاس:

۱۱) با استفاده از کلمات داده شده جملات را کامل کنید. (یک

واژه اضافی است.)


«برق - بنزین - دود - گازوئیل - خاک»

الف) به موادی مانند و سوخت می گویند.

ب) از نور و گرمای خورشید تولید می کنند.

پ) بوی آزاردهنده است و باعث آلودگی هوا می شود.

۸) هر میوه را به دانه‌ی مخصوص خود وصل کنید.

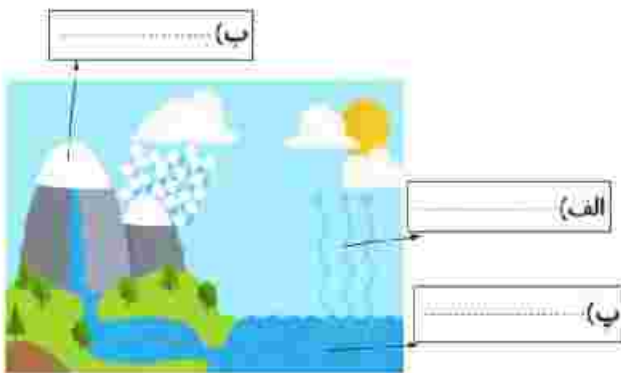


• (۱) دانه‌ی خوراکی

• (۲) دانه‌ی غیر خوراکی

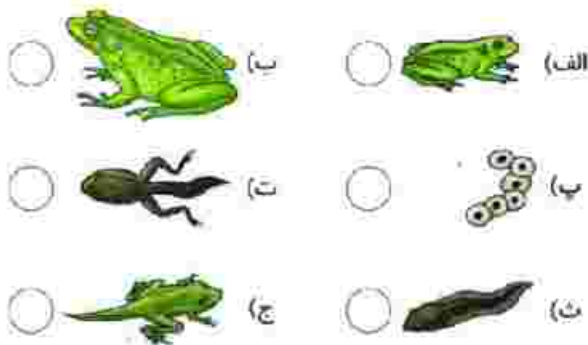
۱۲) در هر یک از قسمت‌های خواسته شده حالت آب «مایع - جامد - گاز»

را بنویسید.



۱۳) با توجه به شکل‌های داده شده مراحل رشد قورباغه را به

ترتیب شماره گذاری کنید.



۹) جملات درست را با علامت ✓ و جملات نادرست را با علامت ✗

مشخص کنید.

الف) از قرار گرفتن جسم کدر در مقابل نور، سایه تشکیل می شود. □

ب) کرم شب تاب و خورشید از چشمه‌های نور هستند. □

پ) پلیس در خیابان‌های شلوغ برای راهنمایی راننده‌ها از سوت

استفاده می کند. □

ت) در زمان‌های گذشته با استفاده از ساعت آفتابی زمان را

تعیین می کردند. □

۱۴) چگونه بیدایش روز و شب را بصورت کامل توضیح دهید.

ب) با توجه به تصویر داده شده مشخص کنید کدام قسمت از کره‌ی

زمین، روز است؟ (روی شکل نشان دهید.)



۱۰) گزینه‌ی صحیح را مشخص کنید.

الف) برای داشتن و بیان یک مشاهده‌ی دقیق لازم است از کدام

گزینه استفاده کنیم؟

۱) تمام مطالب را در ذهن خود نگاه داریم.

۲) از حس بینایی خود استفاده کنیم.

۳) به اطراف خود دقت کنیم.

۴) از حواس پنجگانه استفاده و مطالب را یادداشت کنیم.

ب) مادر سارا با استفاده از کدام حس می تواند میزان نمک غذا را

تشخیص دهد؟

۲) حس شنوایی

۴) هیچکدام

۱) حس بویایی

۳) حس چشایی