

طرح سنجش استعداد: گونیا - توصیفی
مدت پاسخگویی و انجام فعالیت: ۴۵ دقیقه

درس: استعداد فضایی ششم دبستان
زمان برگزاری: هفته دوم مهر

علوی

فعالیت‌های استعداد فضایی پایه ششم

فعالیت ۱

۳۶- با توجه به شبکه پروازی داخلی شرکت هواپیمایی ماهان:



الف) از کدام شهر پروازهای بیشتری انجام می‌شود؟

- | | | | |
|-------------------|------------------|------------------|---------------------|
| اهواز (۱) | ساری (۲) | مشهد (۳) | قشم (۴) |
| تهران - ایلام (۱) | عسلویه - کیش (۲) | مشهد - شیراز (۳) | رفسنجان - تهران (۴) |
- ب) کدام مسیر پروازی کوتاه‌تر است؟
پ) از شهر ساری به کدام شهرها پرواز انجام می‌شود؟

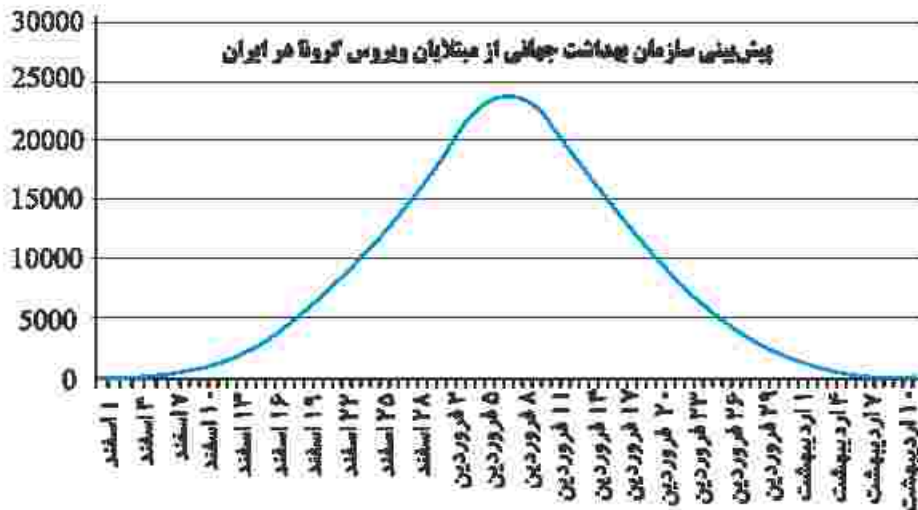
ت) کدام پرواز کل مسیر خود را از روی آب طی می‌کند؟

- | | | | |
|------------------|--------------------|-----------------|------------------|
| اهواز - خارک (۱) | شیراز - عسلویه (۲) | کرمان - قشم (۳) | عسلویه - کیش (۴) |
|------------------|--------------------|-----------------|------------------|

علوی

فعالیت ۲

۳۷- باتوجه به نمودار فرضی داده شده، در کدام تاریخها تعداد مبتلایان به ویروس کرونا برابر بوده است؟



(۲) ۲۶ فروردین و ۱۶ اسفند

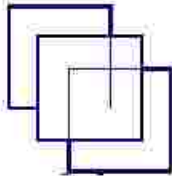
(۴) ۵ فروردین و ۲۰ فروردین

(۱) ۱۰ اردیبهشت و ۵ فروردین

(۳) ۱ اسفند و ۱۳ اسفند

فعالیت ۳

۳۸- در شکل داده شده چند مربع وجود دارد؟



فعالیت ۴

۳۹- اگر به شکل داده شده از بالا نگاه کنیم کدام تصویر را می‌بینیم؟



طرح سنجش استعداد: گونیا - توصیفی
مدت پاسخگویی و انجام فعالیت: ۴۵ دقیقه

درس: استعداد فضایی ششم دبستان
زمان برگزاری: هفته دوم مهر

علوی

فعالیت ۴

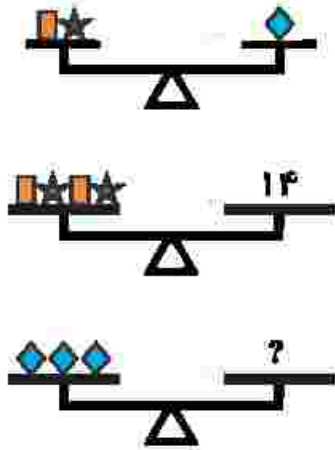
۴۰- با توجه به شکل داده شده، علامت سؤال چه عددی را نشان می‌دهد؟


۳ (۱)

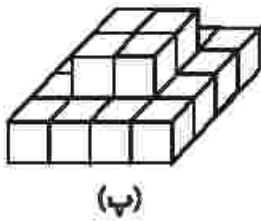
۷ (۲)

۱۴ (۳)

۲۱ (۴)



۴۱- هر یک از اشکال داده شده از چند  تشکیل شده‌اند؟



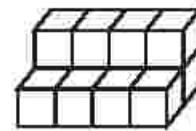
(پ)

.....



(ب)

.....



(الف)

.....