

طرح سنجش استعداد: گونیا - توصیفی
مدت پاسخگویی و انجام فعالیت: ۴۵ دقیقه

درس: استعداد فضایی پنجم دبستان

زمان برگزاری: هفته دوم مهر

علوی

فعالیت‌های استعداد فضایی پایه پنجم

فعالیت ۱

۳۶- الف) به نقشه‌ی ایران و همسایگانش توجه کرده و سپس به سؤالات زیر پاسخ دهید.



الف) محل قرارگیری کدام کشور نسبت به ایران صحیح است؟

- ۱) عراق ← شرق ایران
۲) پاکستان ← جنوب شرقی ایران
۳) ترکیه ← شمال شرقی ایران
۴) ارمنستان ← جنوب غربی ایران

ب) کدام کشورها در جنوب خلیج فارس قرار دارند؟

- ۱) کویت، عراق
۲) ارمنستان، بحرین
۳) قطر، بحرین
۴) عربستان، پاکستان

پ) هر یک از کشورهای زیر به کدام یک از دریاها داده شده راه دارند؟

«خلیج فارس، دریای خزر»

- ترکمنستان ← ایران ←
بحرین ← جمهوری آذربایجان ←
کویت ←

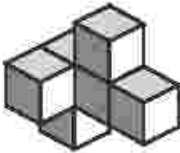
طرح سنجش استعداد: گونیا - توصیفی
مدت پاسخگویی و انجام فعالیت: ۴۵ دقیقه

درس: استعداد فضایی پنجم دبستان
زمان برگزاری: هفته دوم مهر

علوی

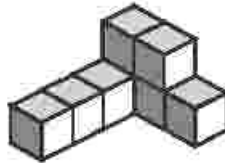
فعالیت ۲

۳۷- هر یک از اشکال داده شده از چند مکعب تشکیل شده است؟



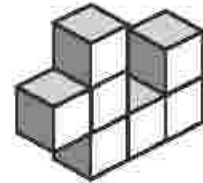
(پ)

..... مکعب



(ب)

..... مکعب

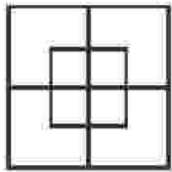


(الف)

..... مکعب

فعالیت ۳

۳۸- در تصویر داده شده چند مربع وجود دارد؟



۸ (۱)

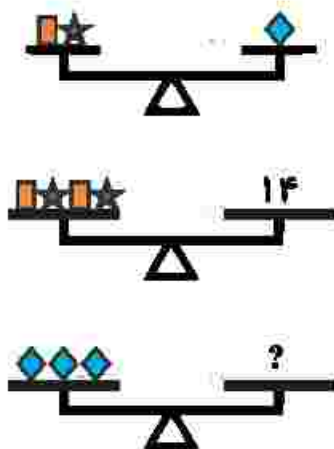
۹ (۲)

۱۰ (۳)

۱۱ (۴)

فعالیت ۴

۳۹- با توجه به شکل داده شده، علامت سؤال چه عددی را نشان می‌دهد؟



۳ (۱)

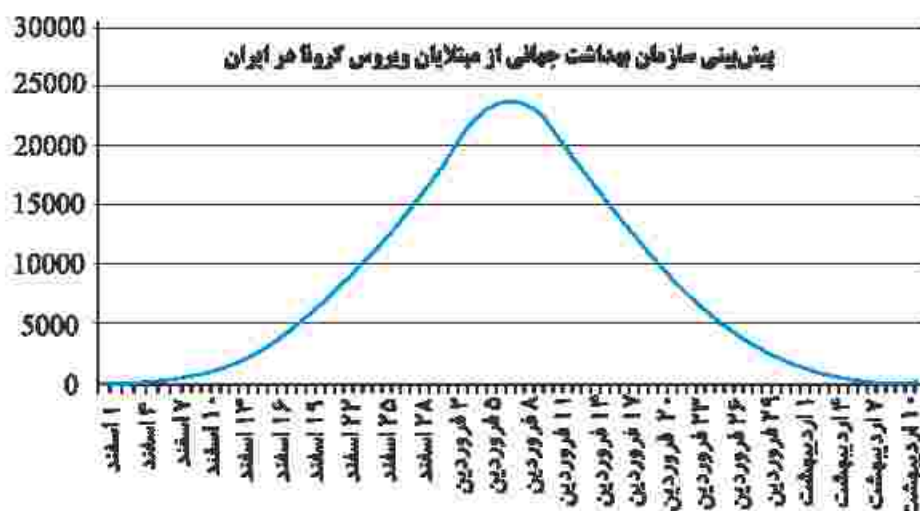
۷ (۲)

۱۴ (۳)

۲۱ (۴)

فعالیت ۵

۴۰- باتوجه به نمودار فرضی داده شده در کدام تاریخها تعداد مبتلایان به ویروس کرونا برابر بوده است؟



(۲) ۲۶ فروردین و ۱۶ اسفند

(۱) ۱۰ اردیبهشت و ۵ فروردین

(۴) ۵ فروردین و ۲۰ فروردین

(۳) ۱ اسفند و ۱۴ اسفند

فعالیت ۶

۴۱- در شکل داده شده، به جای علامت سؤال کدام تصویر قرار می‌گیرد؟

