

۱۱) گزینه ی صحیح را مشخص کنید.

الف) برای نگه‌داری طولانی مدت میوه‌ها کدام روش مناسب

نیست؟

۱) خشک کردن      ۲) کمپوت کردن

۳) دودی کردن

ب) دانشمندان پس از جمع‌آوری اطلاعات چه کاری انجام می‌دهند؟

۱) مشاهده      ۲) یادداشت برداری

۳) نتیجه‌گیری

۸) هر تغییر حالت را به نام خودش وصل کنید.

- تبدیل شدن جامد به مایع بر اثر گرما      • • میعان
- تبدیل شدن گاز به مایع بر اثر سرما      • • ذوب
- تبدیل شدن مایع به جامد بر اثر سرما      • • تبخیر
- تبدیل شدن مایع به گاز بر اثر گرما      • • انجماد

۱۲) مثالی بزنید که در آن نیرو باعث تغییر شکل جسم شود.

\_\_\_\_\_

۹) جملات درست را با علامت ✓ و نادرست را با \* مشخص کنید.

- الف) اجسام صاف و صیقلی بازتابش منظم دارند.
- ب) آینه‌ی فرورفته در پیچ جاده استفاده می‌شود.
- پ) آتش منبع نور است.
- ت) تصویر در آینه‌ی تخت وارون جانبی است.

۱۳) اگر گیاهی دارای ریشه‌ی راست باشد، اجزای دیگر آن از چه

نوعی هستند؟

برگ: \_\_\_\_\_

ساقه: .....

دانه: .....

تعداد گلبرگ: .....

۱۰) جاهای خالی را با انتخاب واژه‌ی مناسب پر کنید.

جری‌ها - تاریخ مصرف - پروتئین‌ها - پرتقال




الف) حبوبات و لبنیات جزو گروه ..... هستند.

ب) ..... مثالی برای گروه ویتامین‌ها است.

پ) هنگام خرید مواد غذایی باید به ..... توجه کنیم.

ت) خوردن بیش از حد غذاهایی که در گروه ..... هستند توصیه نمی‌شود.

۱۴) جدول زیر را کامل کنید.

			
			تنفس
			پوشش