

به نام خداوند زیبایی ها

درس ریاضی

تم 2

تهیه و تنظیم: مولایی







تهیه و تنظیم: مولایی



بشمار و رنگ کن



به تعداد شکل های سمت چپ ، از شکل های سمت راست رنگ کن .



تهیه و تنظیم: مولایی



عزیزم

جدول های زیر را با رنگ مناسب کامل کن .

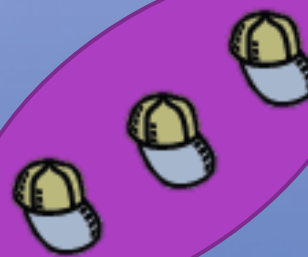


تهیه و تنظیم: مولایی



بشمار و بگو



تعداد شکل های هر دسته را سریع بگو.



فرزندم



الگو را ادامه بده و دو شکل بعد هر الگو را بکش.




تهیه و تنظیم: مولایی






بشمار
و بگو





تعداد شکل های دسته ی سمت راست را با انگشتان دست راست و تعداد شکل های دسته ی سمت چپ را با انگشتان دست چپ خود نشان بده .





تعداد شکل های هر دسته را بگو.
حالا اگر یک شکل به شکل های هر دسته اضافه کنیم چه عددی را نشان می دهد؟
با انگشتان دست نشان بده.



دلبندم



الگو را ادامه بده و شکل بعد هر الگو را بکش .



زنده باشی و سلامت

پایان

تهیه و تنظیم: مولایی

