

به نام خداوند زیبایی ها

درس ریاضی

تم 2







# بشمار و رنگ کن





به تعداد شکل های سمت چپ ، از شکل های سمت راست رنگ کن .



عزیزم



جدول های زیر را با رنگ مناسب کامل کن .



بشمار  
و بگو



# تعداد شکل های هر دسته را سریع بگو.



فرزندم




الگو را ادامه بده و دو شکل بعد هر الگو را بکش.







بشمار  
و بگو





تعداد شکل های دسته ی سمت راست را با انگشتان دست راست و تعداد شکل های دسته ی سمت چپ را با انگشتان دست چپ خود نشان بده .





تعداد شکل های هر دسته را بگو.  
حالا اگر یک شکل به شکل های هر دسته اضافه کنیم چه عددی را نشان می دهد؟  
با انگشتان دست نشان بده.



دلبندم

الگو را ادامه بده و شکل بعد هر الگو را بکش .



# زنده باشی و سلامت پایان

