

به نام خداوند خورشید و ماه

تم 5

تهیه و تنظیم: هانیه میرجهان

درس ریاضی





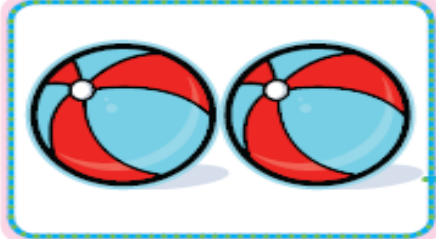
پکی نیکی

تهیه و تنظیم :





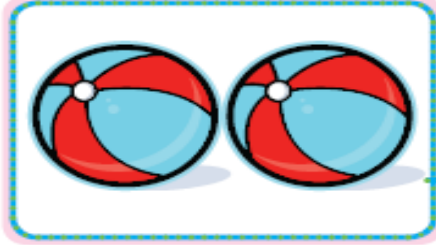

///



با کشیدن چوب خط بگو
شکل های سمت چپ و
راست با هم چند تا است ؟

تهیه و تنظیم :



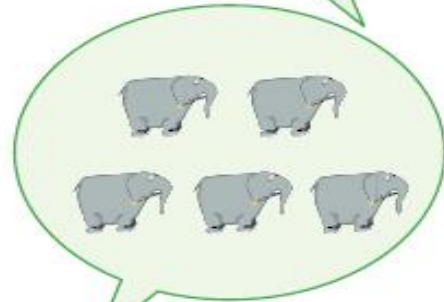

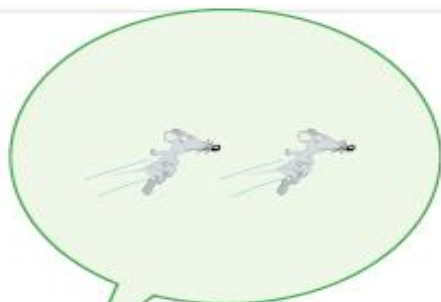
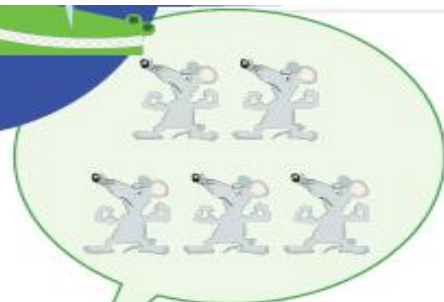




با کشیدن چوب خط بگو
شکل های سمت چپ و
راست با هم چند تا است؟

تهیه و تنظیم :




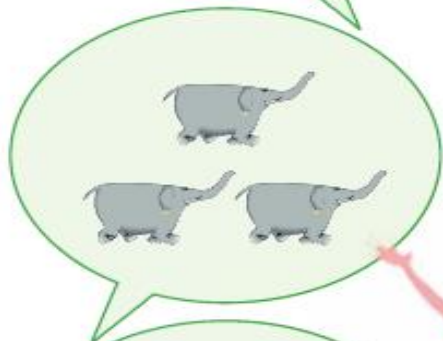



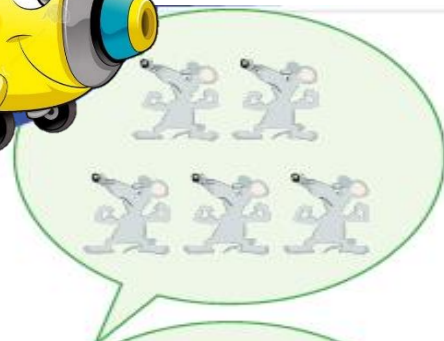


تعداد شکل های سمت چپ را بگو و
با انگشتان یک دست نشان بده . به
تعداد شکل های سمت راست
انگشتان خود را ببند و توضیح بده
چند تا مانده است .



تهیه و تنظیم :





تعداد شکل های سمت چپ را بگو و با انگشتان یک دست نشان بده . به تعداد شکل های سمت راست انگشتان خود را ببند و توضیح بده چند تا مانده است .

تهیه و تنظیم :



شاد و سلامت باشی عزیزم

تهیه و تنظیم :

