


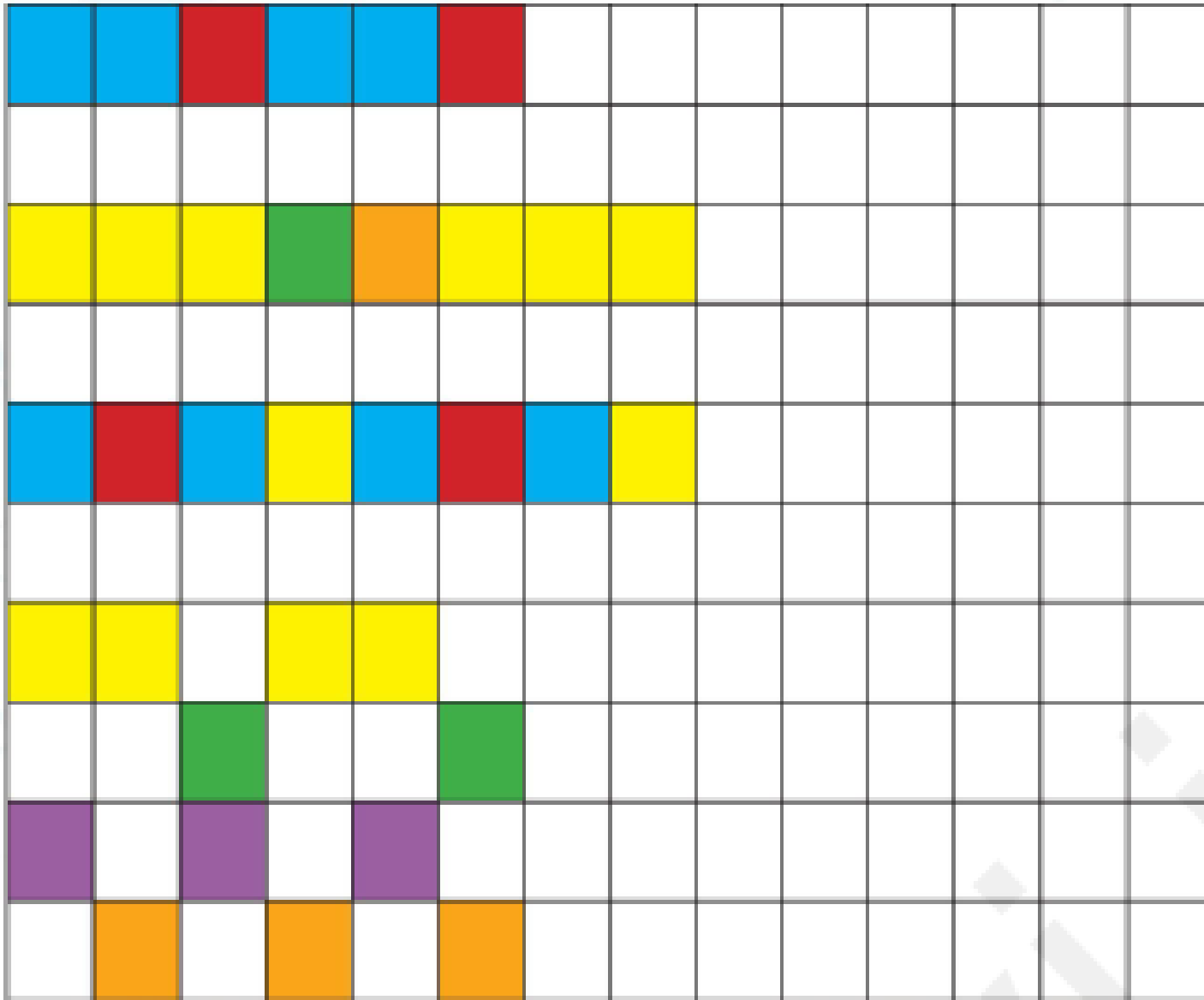
کتاب کار ریاضی علوی

تهیه و تنظیم: هانیہ میرجہان


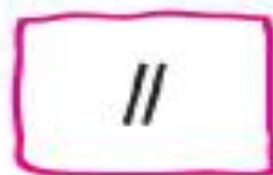
صفحات 40 تا 47



۶. در هر ردیف الگوها را ادامه بده و سپس الگوی تکرارشونده را در سمت راست بکش.




۷. در هر ردیف مانند نمونه به تعداد چوب خطها از شکلها رنگ کن و به تعداد شکلهای رنگ نشده باقی مانده چوب خط بکش.



- دانش آموز بتواند الگو را ادامه داده و الگوی تکرارشونده را درک کند.
- دانش آموز بتواند با رنگ کردن شکلها به مفهوم تفریق و باقی مانده پی ببرد.



۷. در هر ردیف مانند نمونه به تعداد چوب‌خط‌ها از شکل‌ها رنگ کن و به تعداد شکل‌های رنگ نشده باقی مانده چوب‌خط بکش.




- دانش‌آموز بتواند الگو را ادامه داده و الگوی تکرارشونده را درک کند.
- دانش‌آموز بتواند با رنگ کردن شکل‌ها به مفهوم تفریق و باقی‌مانده پی ببرد.



ارزشیابی



۱. شکل‌های سمت راست و چپ روی هم چند تا می‌شوند؟ با چوب‌خط نشان بده.



۲. به تعداد دایره‌های سمت چپ انگشتان خود را باز کن، سپس به تعداد چشمانت از انگشتانت ببند. حالا چند


انگشت باقی ماند؟ با چوب‌خط نشان بده.



ارزشیابی



۱. شکل‌های سمت راست و چپ روی هم چند تا می‌شوند؟ با چوب‌خط نشان بده.




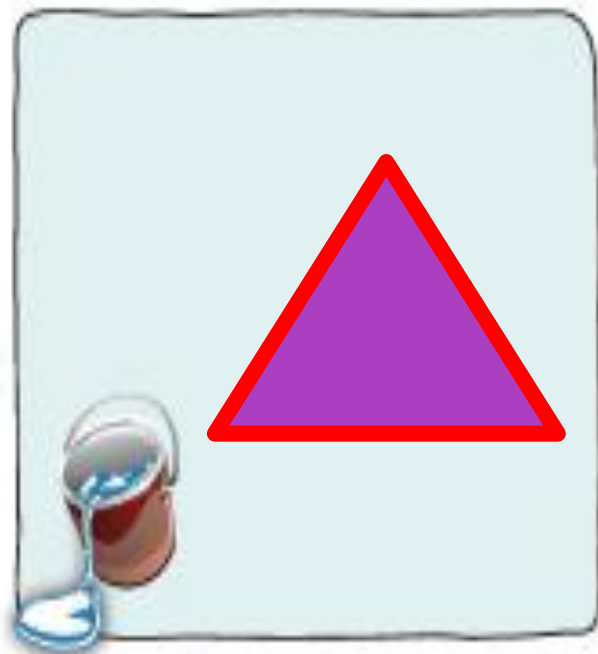
۲. به تعداد دایره‌های سمت چپ انگشتان خود را باز کن، سپس به تعداد چشمانت از انگشتانت ببند. حالا چند انگشت باقی ماند؟ با چوب‌خط نشان بده.



۳. شابلونت را بردار و یک شکل ۳ گوشه و یک شکل ۴ گوشه رسم کن. با مداد قرمزت لبه‌های شکل را رنگ کن.



۳. شابلونت را بردار و یک شکل ۳ گوشه و یک شکل ۴ گوشه رسم کن. با مداد قرمز لبه‌های شکل را رنگ کن.



۴. به تعداد سنجاقک‌ها از انگشتان دست را رنگ بزن و به تعداد انگشت‌های باقی‌مانده چهار گوش رسم کن.



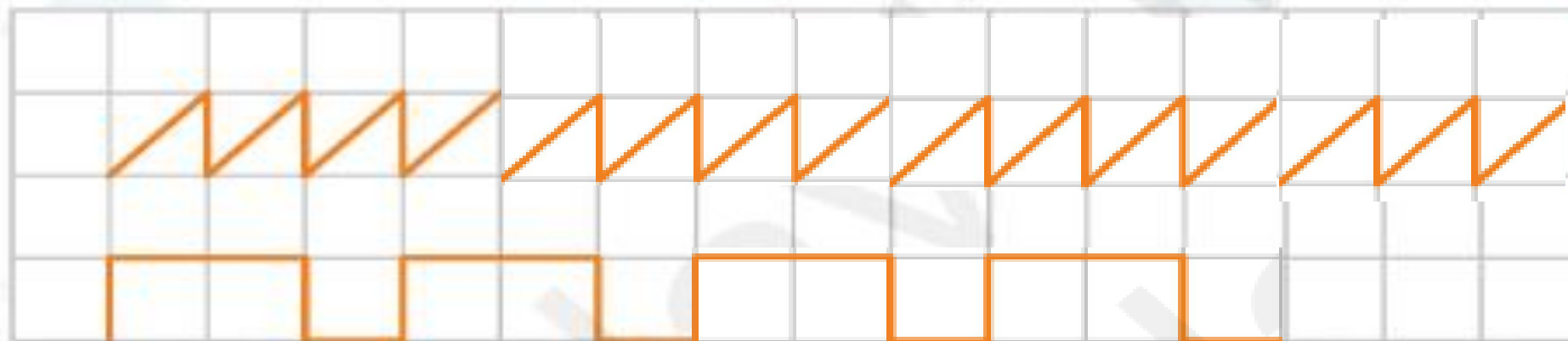
۵. در هر ردیف الگوها را ادامه بده.



۴. به تعداد سنجاقک‌ها از انگشتان دست را رنگ بزن و به تعداد انگشت‌های باقی‌مانده چهار گوش رسم کن.



۵. در هر ردیف الگوها را ادامه بده.



از میان نقطه چین‌های زیر اشکال زیر را پیدا کن. سپس اشکال را از انتهای کتاب ببر و در جای مخصوص خود بچسبان.

۱۲۷



فرشته بهشتی
خیلی عالی هستی

