


به نام خداوند جان و خرد

تم ۶ ریاضی

تهیه و تنظیم: هانیه میرجهان









از چینه های سبز از بالا به تعداد چوب خط ها خط بزن. به تعداد باقی مانده از چینه های سمت راست رنگ کن



از چین‌های سبز از بالا به تعداد چوب‌ها خط بزن. به تعداد باقی مانده از چین‌های سمت راست رنگ کن

علوی

مدارس هزاره سوم





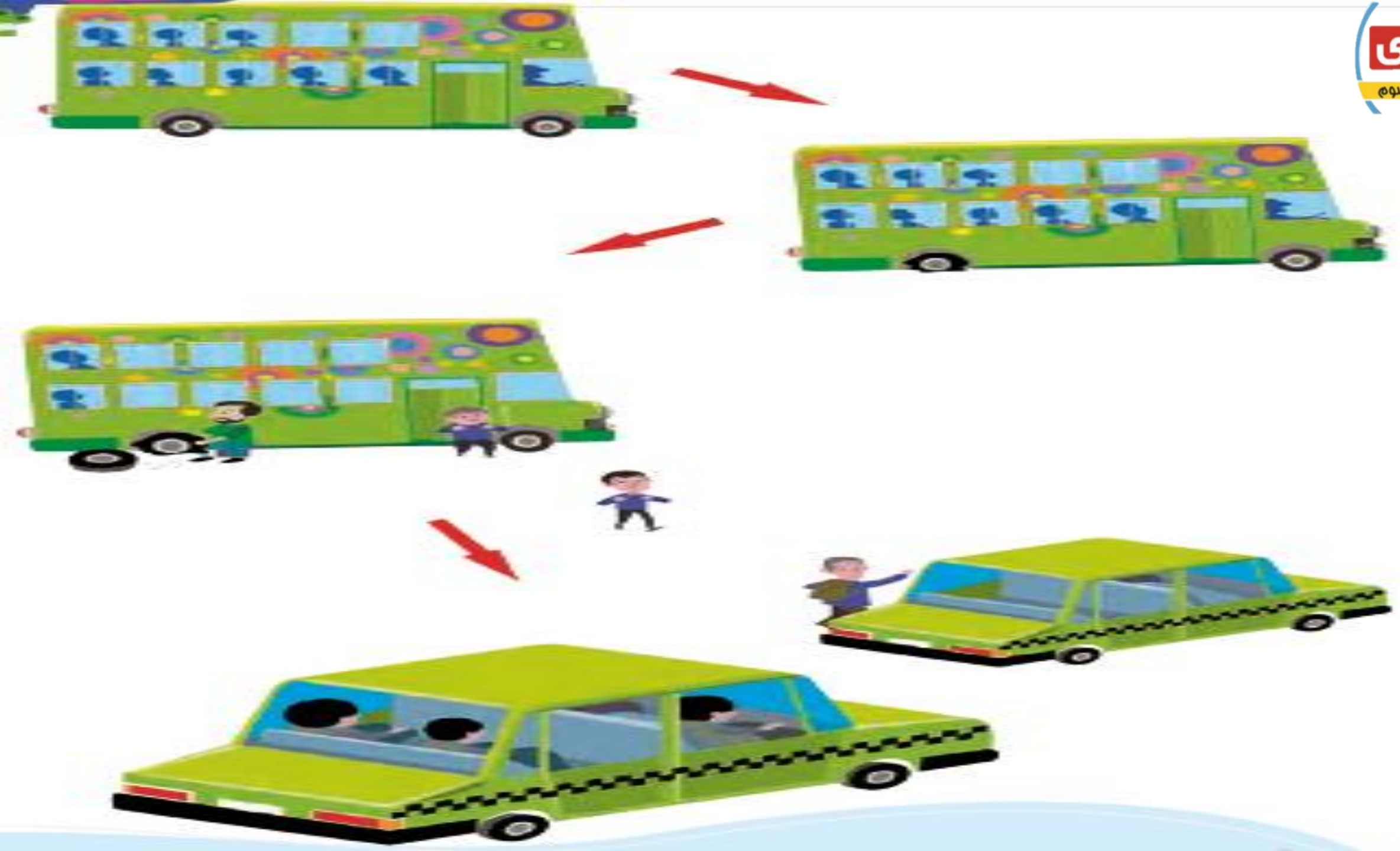
This illustration shows a subtraction problem. On the left, a vertical stack of 5 yellow blocks has 2 blue 'X' marks on the top two blocks, representing the number 3. In the center, a pink-bordered box contains two parallel black lines, representing the number 2. On the right, a vertical stack of 5 white blocks has a yellow block at the bottom, representing the number 3. This visualizes the calculation $5 - 2 = 3$.

This illustration shows a subtraction problem. On the left, a vertical stack of 5 yellow blocks has 1 blue 'X' mark on the top block, representing the number 4. In the center, a pink-bordered box contains one black line, representing the number 1. On the right, a vertical stack of 5 yellow blocks has 4 blocks at the bottom, representing the number 4. This visualizes the calculation $5 - 1 = 4$.






به تصویر های زیر دقت کن و
برای آن یک داستان بساز و بگو.









با ابزار
کار کن

به تصاویر با دقت نگاه کن. تو هم همین طوری شکل درست کن.





هزار آفرین بر شما ریاضیدان کوچک

