

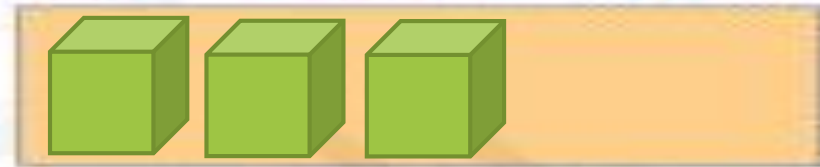
بِه نام خدا

کتاب کار علوی صفحه 52 تا 54

۸ درنا تعدادی شکل را دسته‌بندی کرد و به برنا گفت: هر دسته را بشمار و به تعداد هر دسته چوب‌خط بکش. سپس به تعداد شکل‌های سمت چپ از شکل‌های سمت راست رنگ کن و به تعداد شکل‌های رنگ نشده چینه رسم کن.



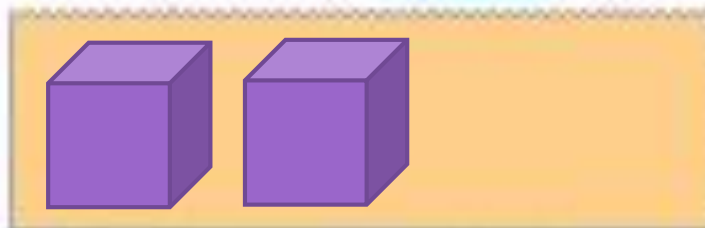
۸ درنا تعدادی شکل را دسته‌بندی کرد و به برنا گفت: هر دسته را بشمار و به تعداد هر دسته چوب‌خط بکش. سپس به تعداد شکل‌های سمت چپ از شکل‌های سمت راست رنگ کن و به تعداد شکل‌های رنگ شده چینه رسم کن.





- دانش آموز بتواند به تعداد اشکال خوب خط رسم کند.
- دانش آموز بتواند با رنگ کردن اشکال به مفهوم نظریه دست یابد.





- دانش آموز بتواند به تعداد اشکال خوب خط رسم کند.
- دانش آموز بتواند با رنگ کردن اشکال به مفهوم نظریه دست یابد.



ارزشیابی

۱. دسته‌هایی که تعداد آن‌ها با هم برابر است را با خط‌کش به هم وصل کن.

ساز

○○	○○○○	☹️	○	☹️
○○ ○ ○	☹️	○○○	○○	☹️
○○ ○ ○ ○ ○	☹️	○○○○	○	☹️
○○○	○	☹️	○	○

ارزشیابی

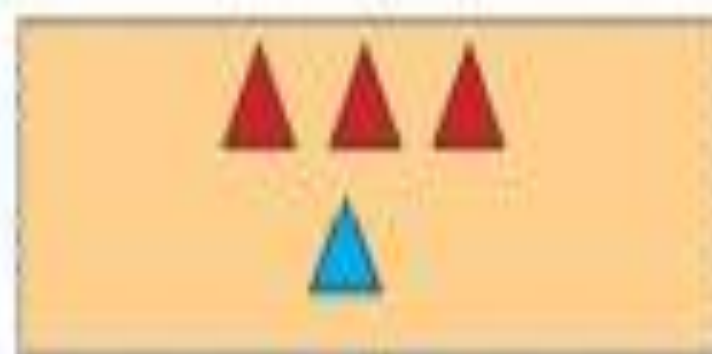
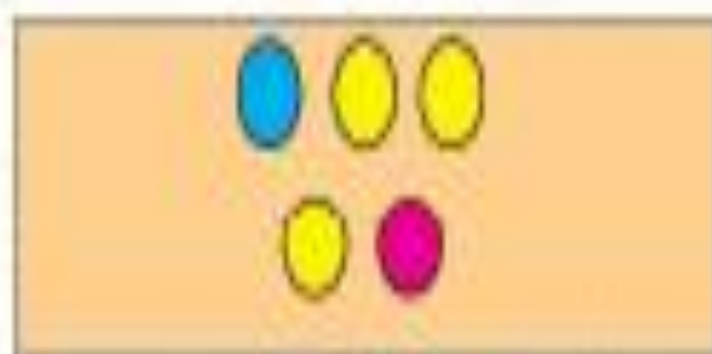
۱. دسته‌هایی که تعداد آن‌ها با هم برابر است را با خط‌کش به هم وصل کن.



○○	○○○	●	●	○	
○○ ○ ○		●	●	○○○	○○
○○ ○ ○ ○ ○		●	●	○○○○	
○○○	○	●	●	○	○

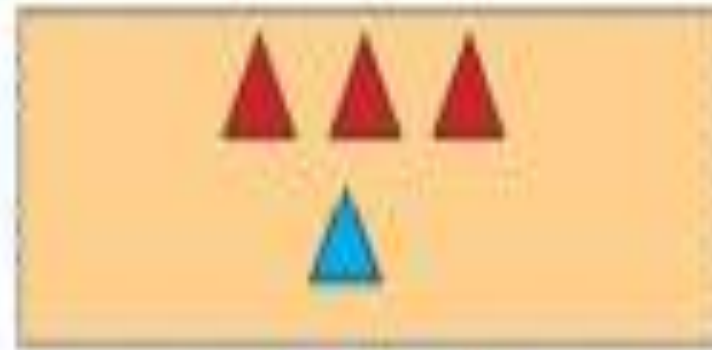
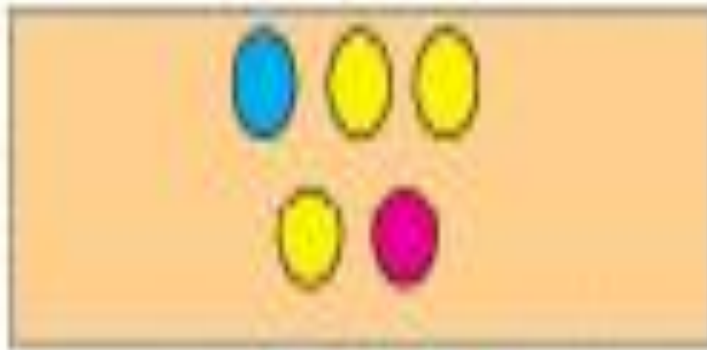
۲. با انگشتان یک دست نشان بده چند شکل وجود دارد. به تعداد شکل های هم رنگ از انگشتان دست را

بیند، حالا با چوب خط نشان بده چند شکل باقی مانده است؟



۲. با انگشتان یک دست نشان بده چند شکل وجود دارد. به تعداد شکل های هم رنگ از انگشتان دست را

بیند، حالا با چوب خط نشان بده چند شکل باقی مانده است؟



۳. در هر ردیف الگو را ادامه بده و الگوی تکرارشونده را در سمت راست رسم کن.



۳. در هر ردیف الگو را ادامه بده و الگوی تکرارشونده را در سمت راست رسم کن.



۴. شکل‌های سمت راست و چپ روی هم چند تا می‌شوند؟ با چوب‌خط نشان بده.



۴. شکل‌های سمت راست و چپ روی هم چند تا می‌شوند؟ با چوب‌خط نشان بده.



پایان