

به نام خدا

تمرینات ریاضی علوی

صفحات 60 تا 63





۸. هر کلمه را بخوان و سپس به تعداد نقطه‌های هر کلمه عدد آن را نوشته و چوب‌خط بکش. (مانند نمونه)

علا

۱

/

بابا

آباد

باب

بادام



۸. هر کلمه را بخوان و سپس به تعداد نقطه‌های هر کلمه عدد آن را نوشته و چوب‌خط بکش. (مانند نمونه)

بَد

۱

/

بَابَا

۲

//

آبَاد

۱

/

بَاب

۲

//

بَادَام

۱

/

۹. در هر ردیف آنقدر از شکل‌ها خط بزن که فقط ۳ شکل باقی بماند، چند تا شکل خط زده‌ای؟ عدد آن را بنویس.



دانش آموز بتواند هر کلمه را بخواند و به تعداد نقطه‌ها عدد مورد نیاز را بنویسد.

دانش آموز بتواند با خط زدن شکل‌ها به مفهوم عدد ۳ پی ببرد.



۹. در هر ردیف آن قدر از شکل‌ها خط بزن که فقط ۲ شکل باقی بماند، چند تا شکل خط زده‌ای؟ عدد آن را بنویس.




دانش آموز بتواند هر کلمه را بخواند و به تعداد نقطه‌ها عدد مورد نظر را بنویسد.

دانش آموز بتواند با خط زدن شکل‌ها به مفهوم عدد ۲ پی ببرد.




۱. هر دسته را به عدد مناسب خود وصل کن.




۱. هر دسته را به عدد مناسب خود وصل کن.





۲. از شابلون استفاده کن و در هر خانه ۲ شکل دیگر اضافه کن.



۳. الگو را ادامه بده.



۲. از شابلون استفاده کن و در هر خانه ۲ شکل دیگر اضافه کن.



۳. الگو را ادامه بده.



۴. عدد هر دسته را بنویس و چوب‌خط آن را رسم کن.






۴. عدد هر دسته را بنویس و چوب‌خط آن را رسم کن.





ریاضی اول دبستان

۵. در هر ردیف ابتدا مثلث‌های سبز را بشمار و چوب‌خط آن را در سمت چپ و سپس مثلث‌های قرمز را بشمار و چوب‌خط آن را در سمت راست بکش.




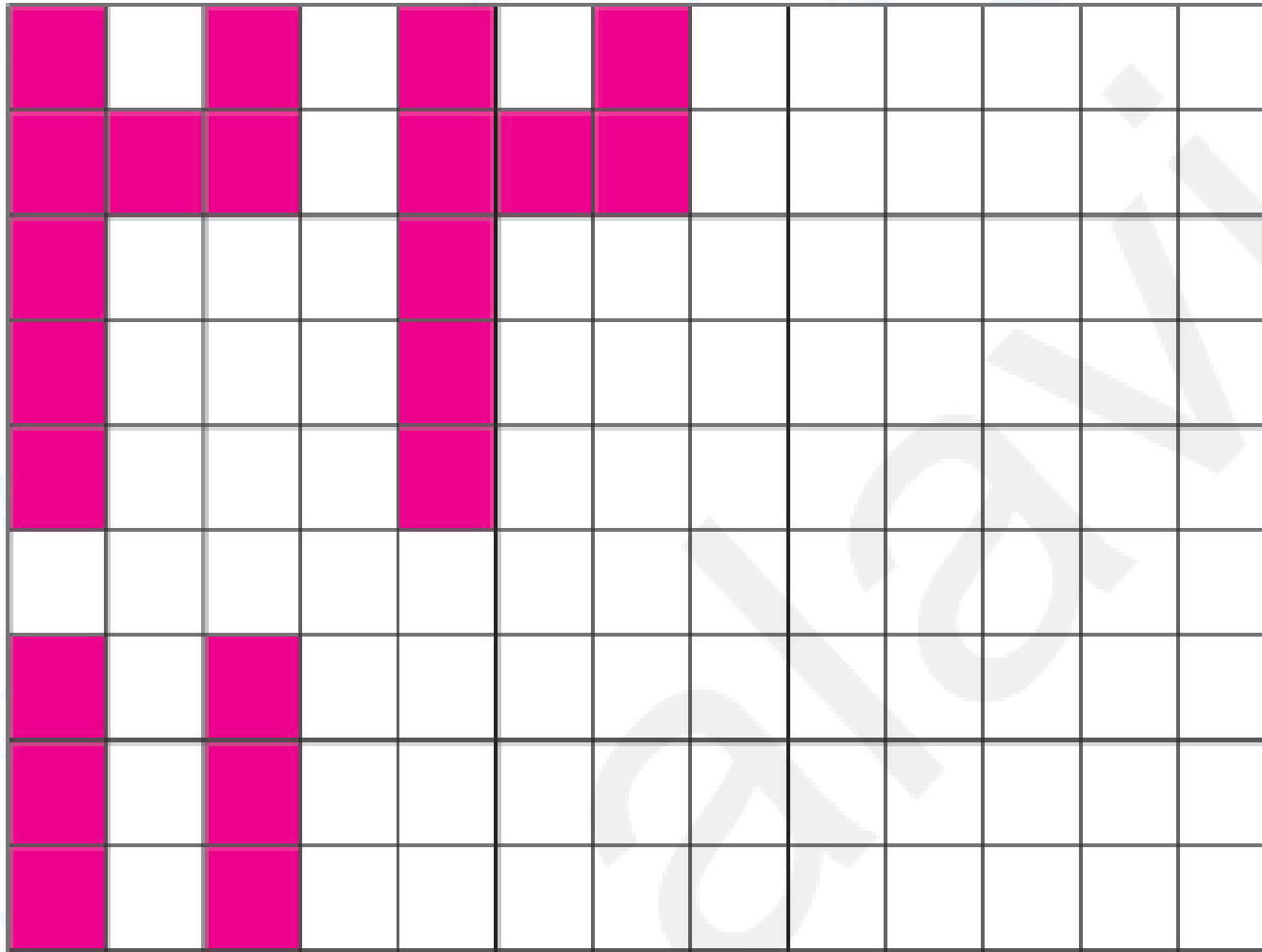


ریاضی اول دبستان

۵. در هر ردیف ابتدا مثلث‌های سبز را بشمار و چوب‌خط آن را در سمت چپ و سپس مثلث‌های قرمز را بشمار و چوب‌خط آن را در سمت راست بکش.




۶. الگوها را ادامه بده و سپس الگوی تکرارشونده را رسم کن.



هر کدام از اعضای بدن ما چند تا است؟ آن را در خانه‌ی عدد مناسبش بچسبان. (با استفاده از تصاویر آخر کتاب)

بسم ۶



دانشمند کوچک دوست دارم

