



به نام آنکه هستی، نام از او یافت

درس ریاضی

تهیه و تنظیم: هانیه میرجهان

۸








نماز و عبادت




برای هر کدام یک داستان بگو.
دور هر میز چند نفر جا می شوند؟ چند نفر نشسته اند؟
چند تا جای خالی است؟



بشمعار و
بشویب








الگویابی
کن

الگوها را ادامه بده و شکلی را که تکرار می شود در ستون سمت راست بکش.
 الگوها را ادامه بده و در جاهای خالی یک الگو بساز.





کن الگویابی




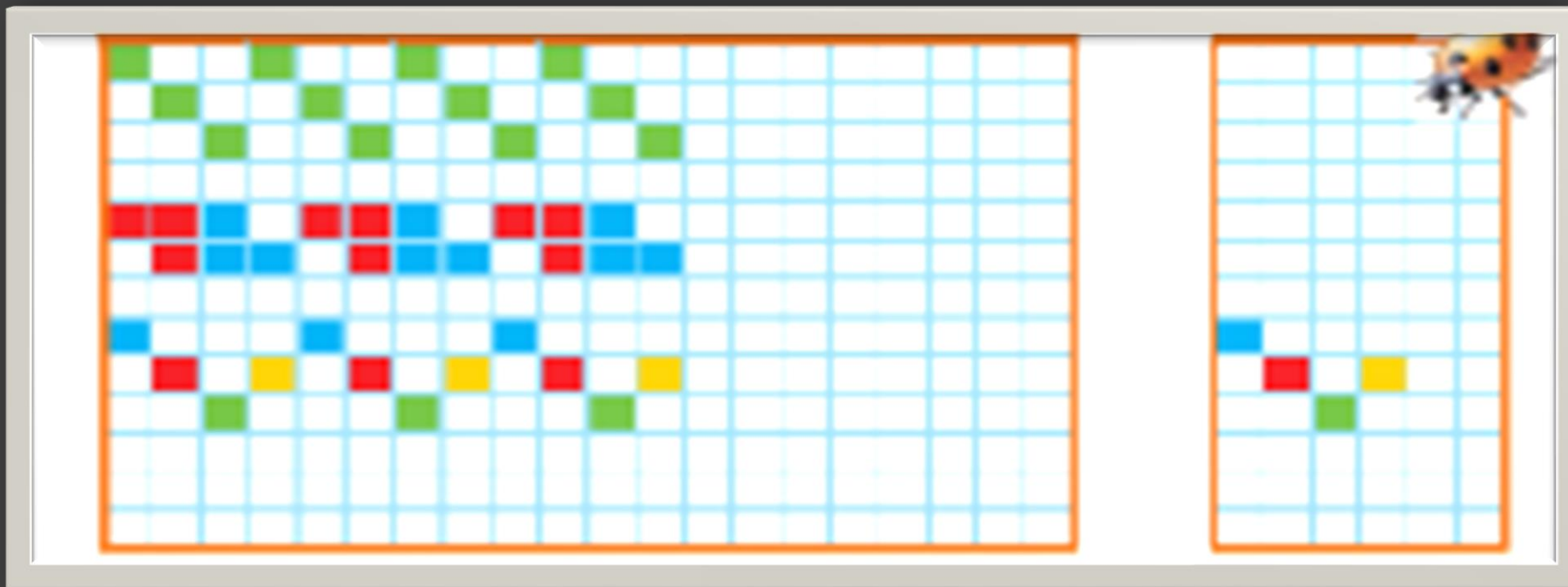
الگوها را ادامه بده و شکلی را که تکرار می شود در ستون سمت راست بکش.

الگوها را ادامه بده و در جاهای خالی یک الگو بساز.





الگو را ادامه بده و در جاهای خالی یک الگو بساز .



الگو را ادامه بده و در جاهای خالی یک الگو بساز .

