



به نام آنکه هستی، نام از او یافت

درس ریاضی

۸



هر شکل چه عددی را نشان می دهد؟

بشمار و بنویس

بشمار و بنویس

هر شکل چه عددی را نشان می دهد؟

۴ ۴ ۴

هر شکل چه عددی را نشان می دهد .



هر شکل چه عددی را نشان می دهد؟

بشمار و بنویس

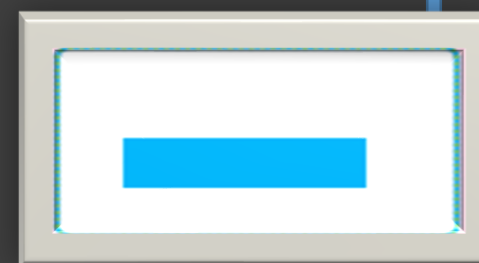




۴ ۴ ۴ ۴ ۴ ۴ ۴

هر شکل چه عددی را نشان می دهد .



عدد مناسب هر شکل را بنویس.



عدد مناسب هر شکل را بنویس.




۳



۲



۳



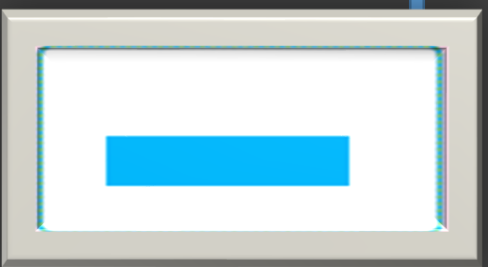
۴




۲




۱



اندازه ی هر شکل چند تا گیره است؟ کنار آن بنویس .











اندازه ی هر شکل چند تا گیره است؟ کنار آن بنویس .



۴



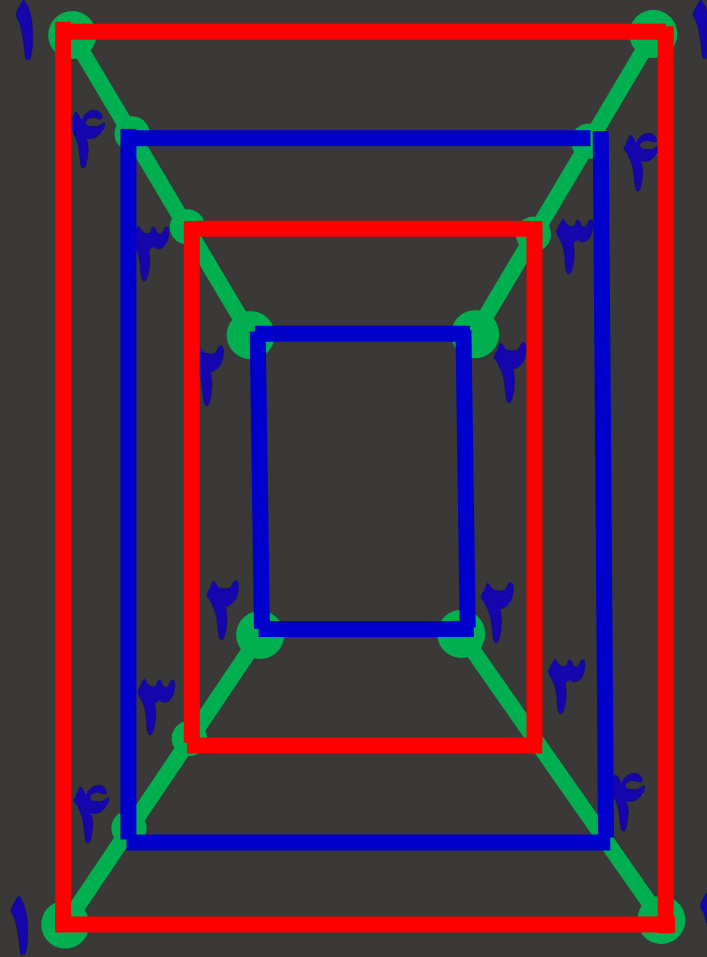
۳



۴



عددهای مثل هم را با خط کش به هم وصل کن
تا شکل سمت چپ به دست آید .



مربع های شگفت انگیز را با عددهای مناسب کامل کن .



۲	۱	۴	۳
۳			۲
۱			۴
۴	۳	۲	۱



۱	۲		
۴			۱
۲	۱		۳
۳	۴	۱	۲



مربع های شگفت انگیز را با عددهای مناسب کامل کن .



۲	۱	۴	۳
۳	۴	۱	۲
۱	۲	۳	۴
۴	۳	۲	۱



۱	۲	۳	۴
۴	۳	۲	۱
۲	۱	۴	۳
۳	۴	۱	۲



