

صفحات
68 تا 71

کتاب کار
ریاضی علوی

به نام خدا

علوی

مدارس هزاره سوم



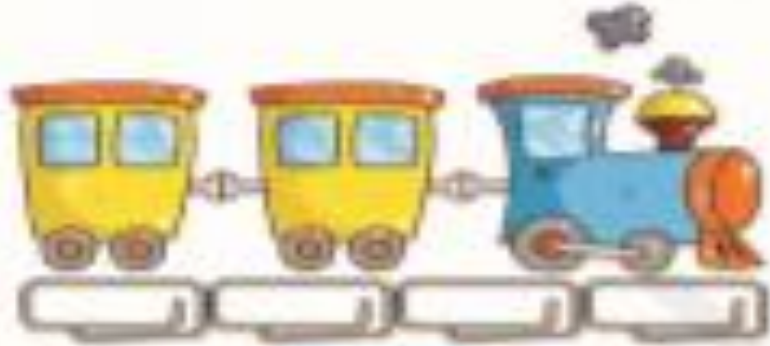
۷. درنا به برنا یک مداد داد و از او خواست که مداد را اندازه بگیرد. درنا پرسید چگونه می‌خواهی مداد را اندازه گیری کنی؟

فکری به ذهن برنا رسید و گفت: من به روش‌های مختلفی می‌توانم اندازه بگیرم. به نظر شما با چه چیزهای دیگری می‌توانیم اندازه گیری کنیم؟




۸. برنا رو به درنا کرد و گفت مدادم از ۳ گیره بزرگ‌تر و از ۱ چوب بستنی کوچک‌تر است.

هر شکل از چند گیره درست شده است؟ عدد درست را زیر آن بنویس.

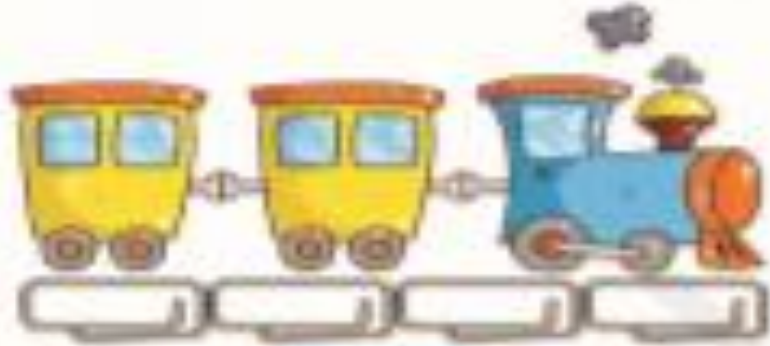








هر شکل از چند گیره درست شده است؟ عدد درست را زیر آن بنویس.




۴



۲



۲



۳

ارزشیایی



۱. عدد درست هر دسته را به آن وصل کن.



- ۱
- ۲
- ۳
- ۴



- ۱
- ۲
- ۳
- ۴



- ۱
- ۲
- ۳
- ۴



- ۱
- ۲
- ۳
- ۴

ارزشیایی



۱. عدد درست هر دسته را به آن وصل کن



- ۱
- ۲
- ۳
- ۴



- ۱
- ۲
- ۳
- ۴



- ۱
- ۲
- ۳
- ۴



- ۱
- ۲
- ۳
- ۴



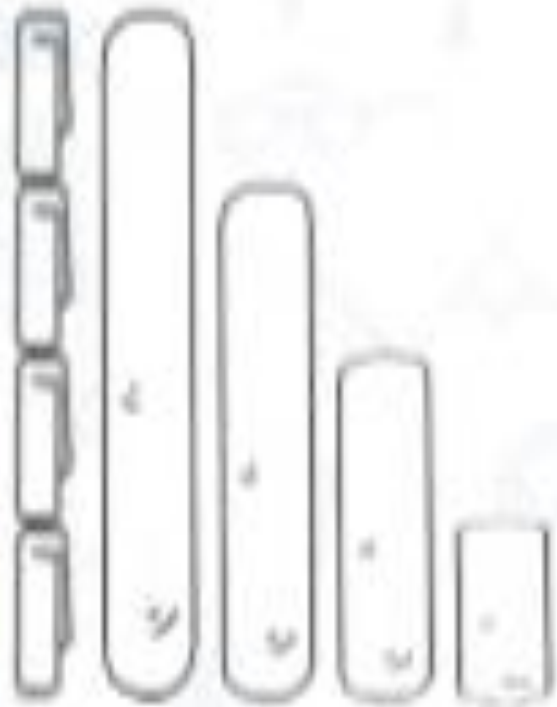
۴. با توجه به اندازه‌ی چوب بستنی‌ها آن‌ها را رنگ بزن.

اندازه ۳  است.

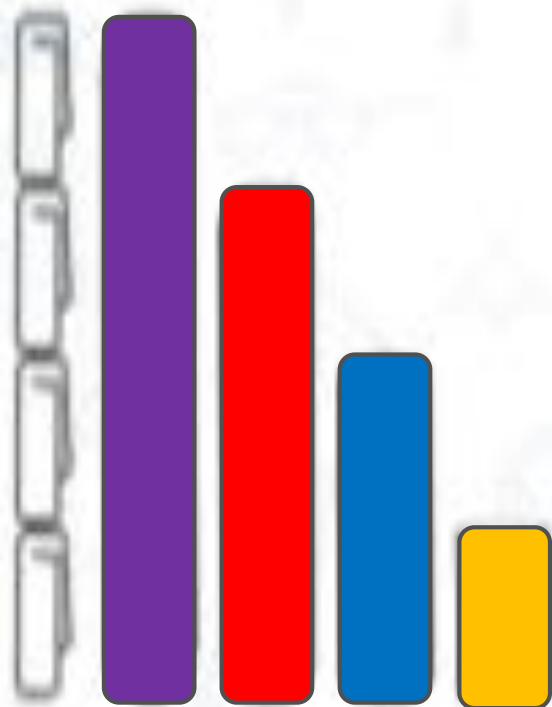
اندازه ۲  است.

اندازه ۱  است.

اندازه ۴  است.



۲. با توجه به اندازه‌ی چوب بستنی‌ها آن‌ها را رنگ بزن.



اندازه ۲ است.

اندازه ۲ است.

اندازه ۱ است.

اندازه ۴ است.



۳. در هر دسته آن قدر شکل رسم کن تا تعداد آن با عدد نوشته شده پایین هر دسته برابر شود.



۳



۴


۴. با استفاده از ۴ مداد رنگی و با توجه به عدد نوشته شده در سمت راست مربعها را رنگ بزن.



۳. در هر دسته آن قدر شکل رسم کن تا تعداد آن با عدد نوشته شده پایین هر دسته برابر شود.





۳



۴

۴. با استفاده از ۴ مداد رنگی و با توجه به عدد نوشته شده در سمت راست مربعها را رنگ بزن.



۵ جدول شگفت‌انگیز را حل کن

۳		۱	۲
	۱		۳
۱	۲		۴

۵ جدول شگفت‌انگیز را حل کن

۳	۴	۱	۲
۲	۱	۴	۳
۴	۳	۲	۱
۱	۲	۳	۴

درنا اعداد را روی کاغذ نوشت و به برنا گفت: نقطه‌های کنار هر عدد که مثل هم است را با خط کش به هم وصل کن.



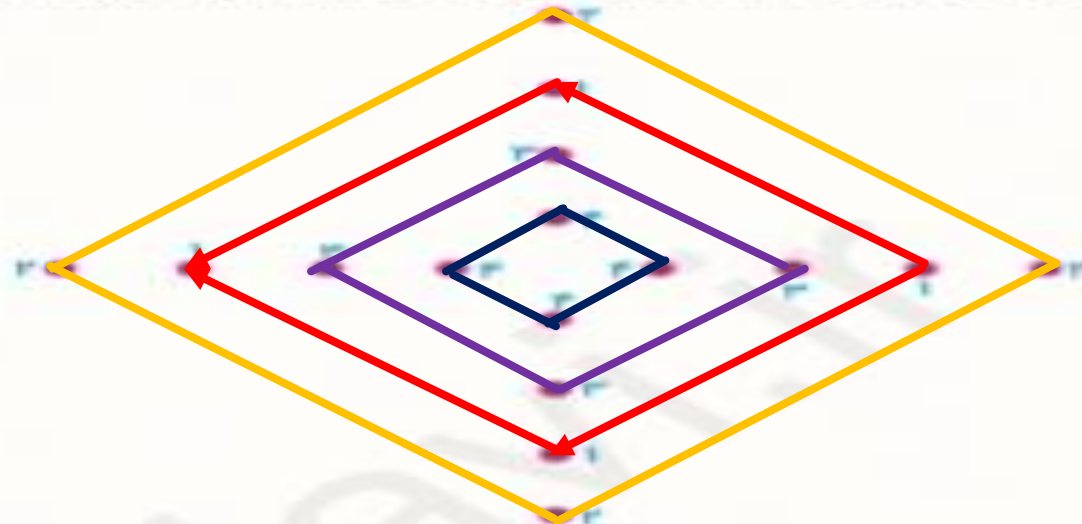
۷۱

درنا به برنا یک آیینه و چینه‌های رنگی داد و به او گفت: این چینه‌ها را کنار هم بچین و آیینه را به چینه‌ها بچسبان. چه شکلی می‌آید؟ شکل آن را بکش.



درتا اعداد را روی کاغذ نوشت و به برتا گفت: نقطه‌های کنار هر عدد که مثل هم است را با خط کش به هم وصل کن.

۷۱



درتا به برتا یک آینه و چینه‌های رنگی داد و به او گفت: این چینه‌ها را کنار هم بچین و آینه را به چینه‌ها بچسبان. چه شکلی می‌آید؟ شکل آن را بکش.

دوبرابر نشان داده می شوند.





عالی انجام دادی عزیزم