

کتاب کار علوی صفحہ
83 تا 85




۵ با استفاده از انگشتان خود عدد ۷ را نشان بده.

حالا عدد هفت را بنویس.

۷ - ۷ - ۷ -

برای نشان دادن عدد ۷ با انگشتان دست از چند دست و از چند مدل استفاده می‌کنی؟

۶ تعداد قطه‌های سمت راست و چپ دومینو را بشمار و در شکل زیر آن بنویس.




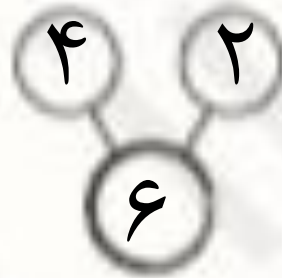
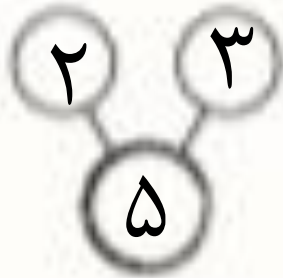
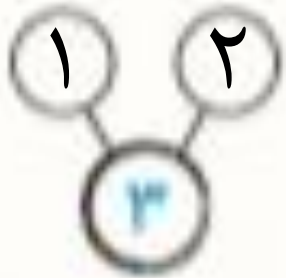
با استفاده از انگشتان خود عدد ۷ را نشان بده.

حالا عدد هفت را بنویس.

۷-۷-۷-۷-۷-۷-۷-۷-۷-۷-۷-۷-۷-۷-۷

برای نشان دادن عدد ۷ با انگشتان دست از چند دست و از چند مدل استفاده می‌کنی؟ **دو دست**

تعداد قطعاتی سمت راست و چپ دومینو را بشمار و در شکل زیر آن بنویس.



۷. جدول‌های شگفت‌انگیز را کامل کن.

۵	۱	۴	۳	۲	
۶	۳			۴	۵
۴	۶				۳
	۲	۵	۴	۶	۳
				۳	۴
۳	۴	۶	۲		۱

۲	۵		۶	۳	۴
	۴	۶	۲	۵	
۱	۲	۵		۶	۳
۴		۳	۵	۱	
۵	۱	۴		۲	۶
۶	۳		۱		۵



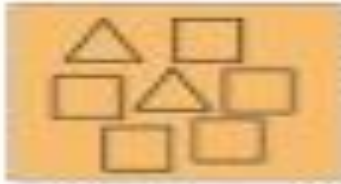



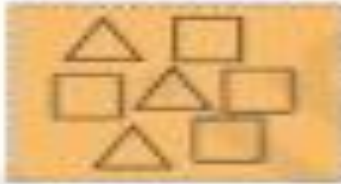



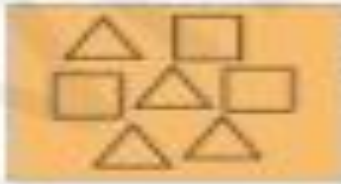

۷. جدول‌های شگفت‌انگیز را کامل کن.

۵	۱	۴	۳	۲	۶
۶	۳	۲	۱	۴	۵
۴	۶	۳	۵	۱	۲
۱	۲	۵	۳	۶	۴
۲	۵	۱	۶	۳	۴
۳	۴	۶	۲	۵	۱

۲	۵	۱	۶	۳	۴
۳	۴	۶	۲	۵	۱
۱	۲	۵	۴	۶	۳
۴	۶	۳	۵	۱	۲
۵	۱	۴	۳	۲	۶
۶	۳	۲	۱	۴	۵

۸. در سمت چپ تعداد مثلث‌ها و در سمت راست تعداد مربع‌ها را بنویس.

تعداد کل هر دسته چند تا است؟ بنویس.

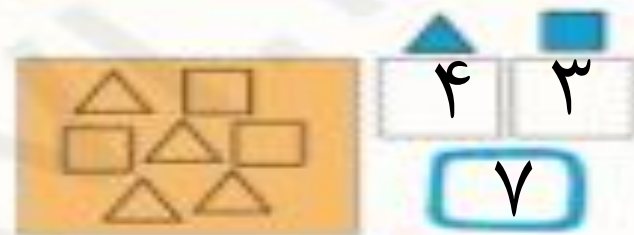
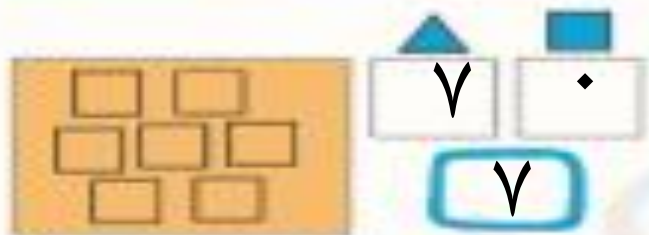
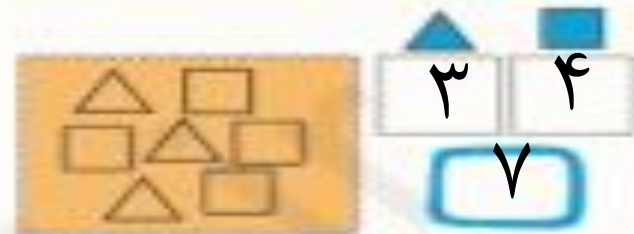
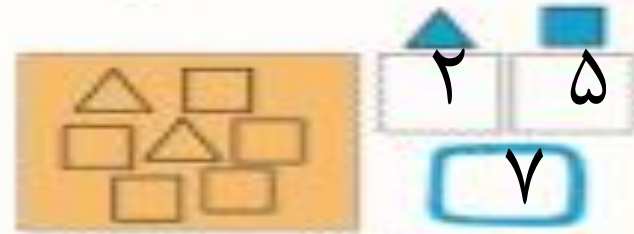
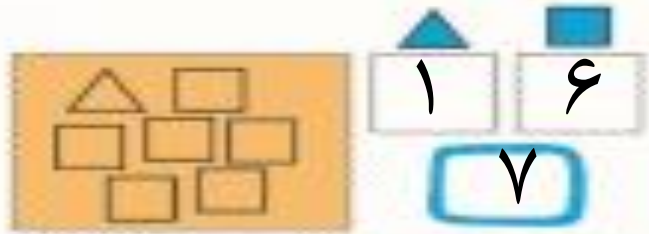
		<input type="text"/>	<input type="text"/>			<input type="text"/>	<input type="text"/>
		<input type="text"/>	<input type="text"/>			<input type="text"/>	<input type="text"/>
		<input type="text"/>	<input type="text"/>			<input type="text"/>	<input type="text"/>

۹. تیمی سمت راست شکل را در سمت چپ آن کامل کن و رنگ بزن.



۸. در سمت چپ تعداد مثلث‌ها و در سمت راست تعداد مربع‌ها را بنویس.

تعداد کل هر دسته چند است؟ بنویس.



۹. تیمی سمت راست شکل را در سمت چپ آن کامل کن و رنگ بزن.



۱۰- درنا و برنا هر کدام تعدادی تخم‌مرغ دارند. تعداد هر دسته را زیر آن بنویس.

تعداد تخم‌مرغ‌های درنا بیشتر است یا برنا؟ هر کدام بیشتر است رنگ بزن.



تخم مرغ‌های برنا



تخم مرغ‌های درنا


درنا و برنا بازی جدیدی را شروع کردند. آن‌ها تعدادی مقوا برداشته‌اند و شکل تخم‌مرغ روی آن کشیدند و دو قسمت کردند. روی قسمت بالا عدد و روی قسمت پایین شکل کشیدند.

۱۱- هر جا عدد است باید به همان تعداد شکل بکشند و هر جا هر تعداد شکل هست باید عدد آن را بنویسند. تمرینات زیر را کامل کن.



۱- درنا و برنا هر کدام تعدادی تخم مرغ دارند. تعداد هر دسته را زیر آن بنویس.

تعداد تخم مرغ های درنا بیشتر است یا برنا؟ هر کدام بیشتر است رنگ بزن.

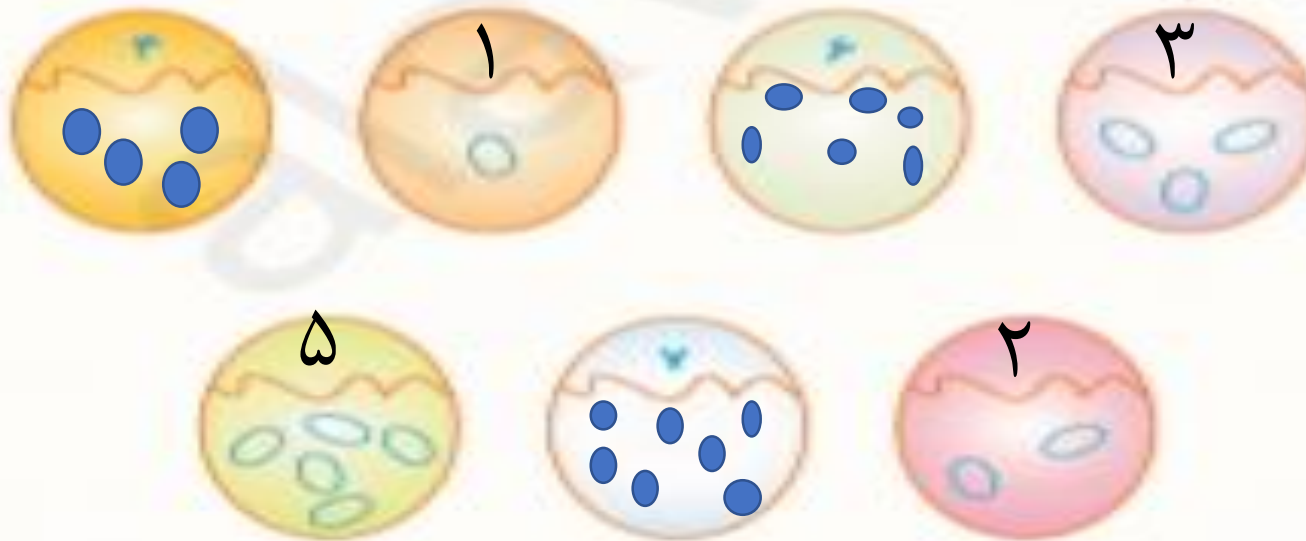


تخم مرغ های برنا

تخم مرغ های درنا

درنا و برنا بازی جدیدی را شروع کردند. آنها تعدادی مقوا برداشته اند و شکل تخم مرغ روی آن کشیدند و دو قسمت کردند. روی قسمت بالا عدد و روی قسمت پایین شکل کشیدند.

۱۱ هر جا عدد است باید به همان تعداد شکل بکشند و هر جا هر تعداد شکل هست باید عدد آن را بنویسند. تمرینات زیر را کامل کن.



شاد و موفق باشيد

