

# کتاب کار ریاضی علوی

صفحات 94 تا 97



۶. درنا به برنا گفت: برای این که سریع تر بشماری بهتر است شکل‌ها را به دسته‌های ۵ تایی تقسیم کنی و بعد شمارش را انجام دهی.

دسته‌های ۵ تایی درست کن و شمارش را انجام بده. عدد هر دسته را در کنار آن نوشته و چوب‌خط رسم کن.






۶. درنا به برنا گفت: برای این که سریع تر بشماری بهتر است شکل‌ها را به دسته‌های ۵ تایی تقسیم کنی و بعد شمارش را انجام دهی.


دسته‌های ۵ تایی درست کن و شمارش را انجام بده. عدد هر دسته را در کنار آن نوشته و چوب‌خط رسم کن.

۷



// ###

۶



/ ###

۷



// ###

۸



/// ###

۷. تعداد چوب‌خط‌ها را بشمار. اگر تعداد دو طرف مساوی است علامت مساوی (=) بگذار.

### |||



||| ||||



|||| ||||



### |



دانش‌آموز بتواند تعداد هر دسته را به درستی بنویسد.

دانش‌آموز بتواند نماد مساوی را در جای مخصوص خود قرار دهد.





۷. تعداد چوب‌خط‌ها را بشمار. اگر تعداد دو طرف مساوی است علامت مساوی (=) بگذار.



دانش‌آموز بتواند تعداد هر دسته را به درستی بنویسد.


دانش‌آموز بتواند نماد مساوی را در جای مخصوص خود قرار دهد.





## ارزشیابی

۱. در هر قسمت، در سمت راست آن قدر شکل بکش که تعداد آن با دسته‌ی سمت چپ برابر شود.








## ارزشیابی

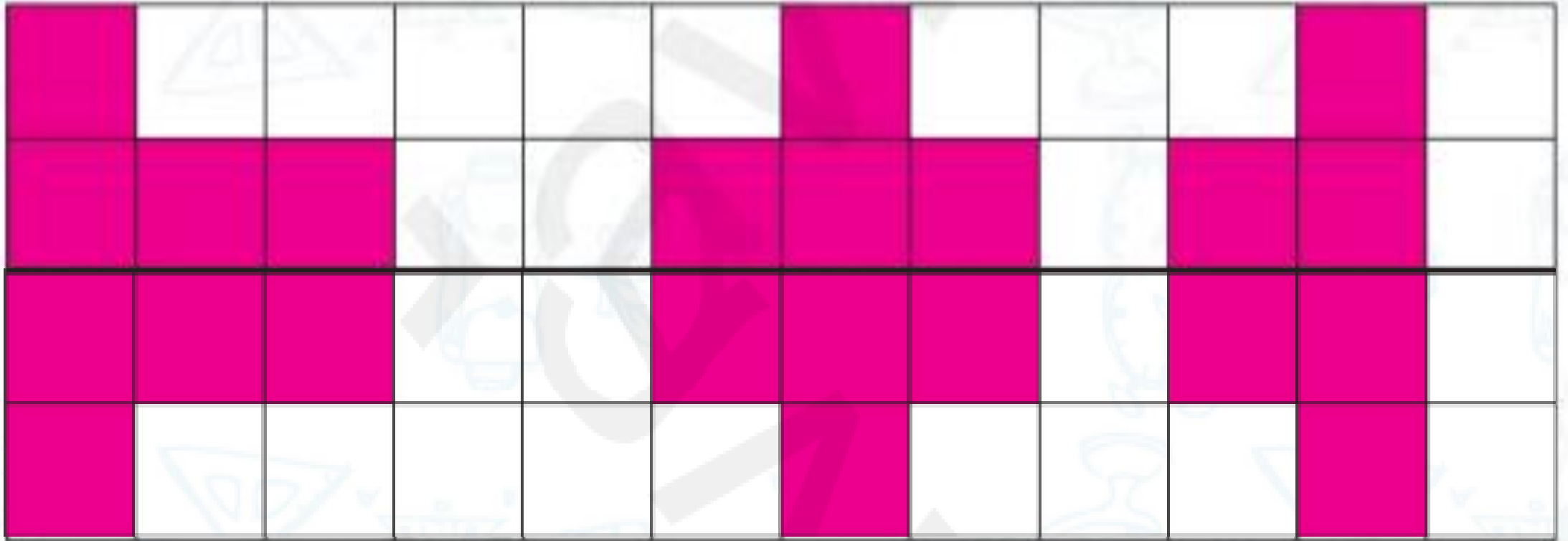
۱- در هر قسمت، در سمت راست آن قدر شکل بکش که تعداد آن با دسته‌ی سمت چپ برابر شود.







۲. شکل را طوری کامل کن که دو نیمه مثل هم شود.



۳. از عدد ۰ تا ۸ را به ترتیب بنویس.

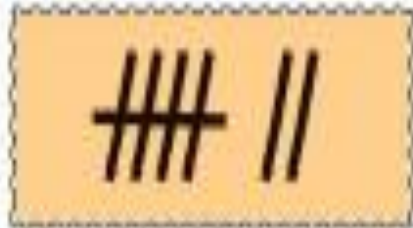
۰	۱	۲	۳	۴	۵	۶	۷	۸
---	---	---	---	---	---	---	---	---

۴. چوب‌خطها را به تعداد مساوی آنها وصل کن.

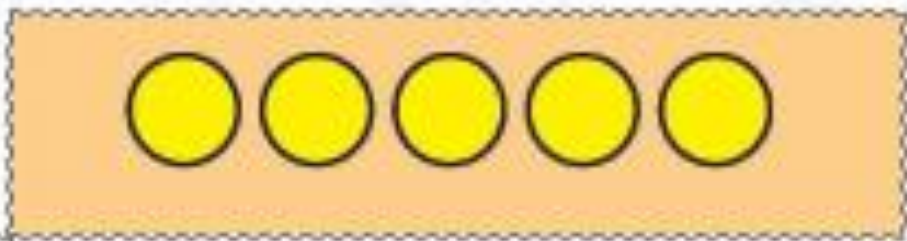




۴. چوب خطها را به تعداد مساوی آنها وصل کن.




۵. در هر قسمت با توجه به عدد داده شده شکل را کامل کن و در جای خالی عدد و علامت مناسب بگذار.



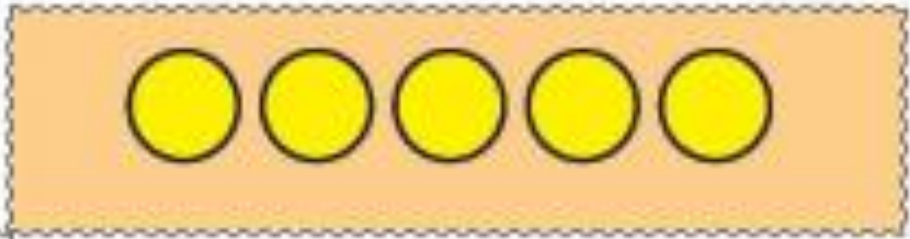
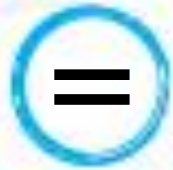
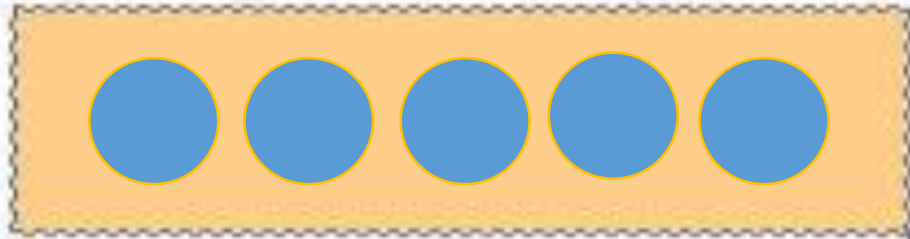


۵. در هر قسمت با توجه به عدد داده شده شکل را کامل کن و در جای خالی عدد و علامت مناسب بگذار.



۸

۸



۵

۵





در خانه‌ی شطرنجی زیر با استفاده از خط‌کش  
چند کوه، خانه، درخت و آدم طراحی کرده،  
سپس نقاشی‌ات را رنگ بزن.





موفق باشيد

