

کتاب کار ریاضی علوی



۵. درنا به برنا گفت: با استفاده از انگشتان خود به چند مدل می‌توانی عدد ۹ را نشان دهی؟

حالا عدد ۹ را بنویس.




۶. برای نشان دادن عدد ۹ با انگشتان دست از چند دست و چند مدل استفاده می‌کنی؟

۹ چوب کبریت یا چینه یا هر چیز دیگری که داری بردار و شکل‌های مختلف بساز. با چه ابزار دیگری می‌توانی شکل‌های متنوع و جدیدی بسازی؟ چند تا از شکل‌هایی که ساختی را در کادر پایین بکش.




۷. به هر دسته آن قدر شکل اضافه کن تا تعداد آن برابر عدد ۹ شود.



□ دانش آموز بتواند مفهوم عدد ۹ را درک کرده و چگونگی نوشتن عدد ۹ و حتی حرکت قلم را رعایت کند. در این فعالیت مفهوم ترکیب ۲ تا ۹ نیز مورد نظر است.



۷. به هر دسته آن قدر شکل اضافه کن تا تعداد آن برابر عدد ۹ شود.

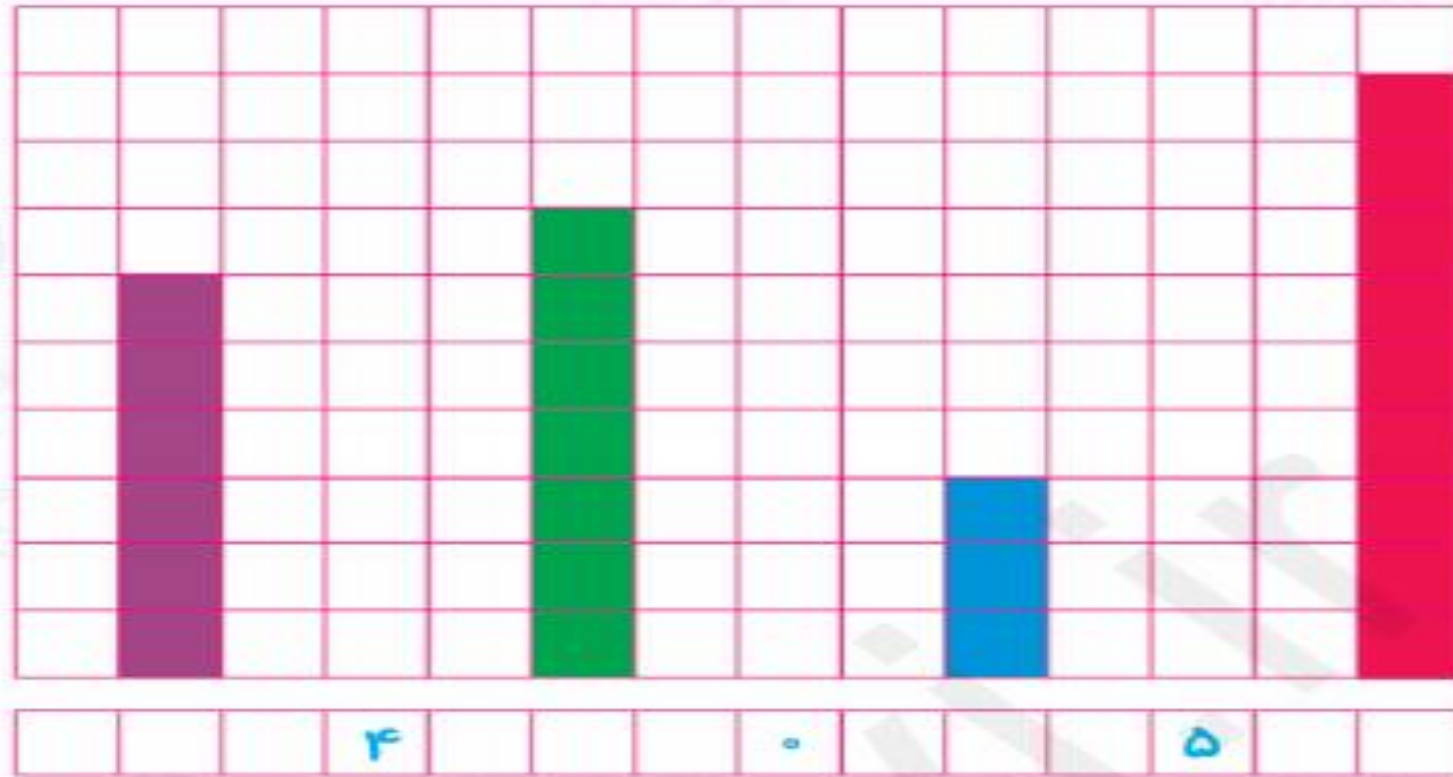


□ دانش آموز بتواند مفهوم عدد ۹ را درک کرده و چگونگی نوشتن عدد ۹ و حتی حرکت قلم را رعایت کند. در این فعالیت مفهوم ترکیب ۲ تایی عدد ۹ نیز مورد نظر است.





۸. عدد مربوط به تعداد چین‌های رنگ شده در جدول را در نوار پایین جدول بنویس و به تعداد عددهای خواسته شده از خانه‌های جدول رنگ بزن.





۸. عدد مربوط به تعداد چین‌های رنگ شده در جدول را در نوار پایین جدول بنویس و به تعداد عددهای خواسته شده از خانه‌های جدول رنگ بزن.



۹. جدول شگفت‌انگیز را کامل کن.

۳		۲	۸	۹	۵	۴	۷	
۵	۶		۱	۴	۷	۳	۸	۲
۴	۸	۷	۲	۶		۵	۱	۹
۹	۵	۱	۷		۶		۴	۸
۷	۲	۸	۵	۱	۴	۶	۹	۳
۶	۳	۴		۸	۲	۱	۵	۷
۲	۴	۵	۶	۷	۹	۸		۱
۱		۶	۳	۵	۸	۹	۲	۴
۸	۹		۴	۲		۷	۶	۵

- دانش‌آموز بتواند مقایسه ارتفاع ستون‌های رنگ شده در عددهای مختلف را از هم تشخیص دهد.
- دانش‌آموز توانایی انجام جدول شگفت‌انگیز ۹ تایی را داشته باشد.



۹. جدول شگفت‌انگیز را کامل کن.

۳	۱	۲	۸	۹	۵	۴	۷	۶
۵	۶	۹	۱	۴	۷	۳	۸	۲
۴	۸	۷	۲	۶	۳	۵	۱	۹
۹	۵	۱	۷	۳	۶	۲	۴	۸
۷	۲	۸	۵	۱	۴	۶	۹	۳
۶	۳	۴	۹	۸	۲	۱	۵	۷
۲	۴	۵	۶	۷	۹	۸	۳	۱
۱	۷	۶	۳	۵	۸	۹	۲	۴
۸	۹	۳	۴	۲	۱	۷	۶	۵


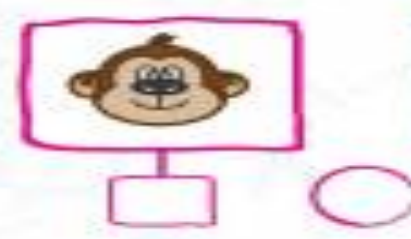
- دانش‌آموز بتواند مقایسه ارتفاع ستون‌های رنگ شده در عددهای مختلف را از هم تشخیص دهد.
- دانش‌آموز توانایی انجام جدول شگفت‌انگیز ۹ تایی را داشته باشد.



۱- درتا و برتا در جنگل با استفاده از یک چوب قد درختان را اندازه گیری کردند.

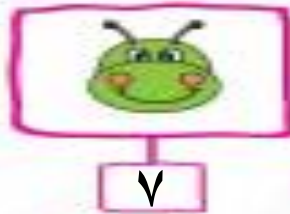
حالا با توجه به تصویر اندازه قد هر درخت را به تعداد مربع در زیر شکل آن بنویس و قد درختان را با هم مقایسه کن و علامت مناسب < = > را در دایره بگذار.

103



۱- درخت و برتا در جنگل با استفاده از یک چوب قد درختان را اندازه گیری کردند.

حالا با توجه به تصویر اندازه قد هر درخت را به تعداد مربع در زیر شکل آن بنویس و قد درختان را با هم مقایسه کن و علامت مناسب < = > را در دایره بگذار.



۸



۹




۴

۸



۶



۸

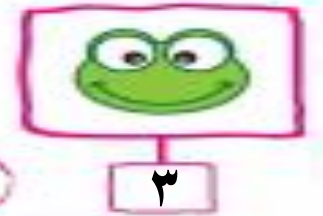


۶



۳

۱۱



۳





تَعْلَم