




به نام خدا
درس ریاضی تم 13











رفتن به رستوران

عدد مربوط به انگشتان هر دسته را بنویس . انگشتان دست چپ را تا جایی که می شود به دست راست منتقل کن و حاصل را بنویس .




				
<input type="text"/>	+	<input type="text"/>	=	<input type="text"/>




				
<input type="text"/>	+	<input type="text"/>	=	<input type="text"/>




				
<input type="text"/>	+	<input type="text"/>	=	<input type="text"/>




				
<input type="text"/>	+	<input type="text"/>	=	<input type="text"/>

عدد مربوط به انگشتان هر دسته را بنویس . انگشتان دست چپ را تا جایی که می شود به دست راست منتقل کن و حاصل را بنویس .


$$۳ + ۱ = ۴$$




$$۳ + ۳ = ۶$$





$$۴ + ۳ = ۷$$




$$۴ + ۴ = ۸$$

ابتدا به تعداد شکل های هر دسته در سمت راست چوب خط بکش
 و سپس عبارت جمع را کامل کن .



+



=



$$\text{---} + \text{---} = \text{---}$$




+




=



$$\text{---} + \text{---} = \text{---}$$



+




=




$$\text{---} + \text{---} = \text{---}$$

ابتدا به تعداد شکل های هر دسته در سمت راست چوب خط بکش
 و سپس عبارت جمع را کامل کن .



+



-




$$4 + 3 = 7$$




+




-




$$5 + 3 = 8$$



+



-



$$5 + 2 = 7$$

دو عدد را پیدا کن که جمع آن ها برابر با عددی باشد که بالای ستون نوشته شده است.



۳	۳	۴	۴	۵	۶
۰	۳	۰	۴	۰	۵
۱	۱	۱	۳	۱	۴
۲	۰	۲	۲	۲	۴
		۳	۱	۳	۳
		۴	۰	۴	۲
				۵	۱
					۰
					۶
					۰



سربلند و سرافراز باشی

