

# کتاب کار ریاضی علوی



۷. درنا تعدادی گردی کشید و به برنا گفت: هر دسته ده گردی دارد. با این گردی‌ها دسته‌های مختلف درست کن و یک جمع برای شکل‌ها بنویس به طوری که جواب همه‌ی جمع‌ها ۱۰ شود.



$$\dots + \dots = \dots$$



$$\dots + \dots = \dots$$



$$\dots + \dots = \dots$$



$$\dots + \dots = \dots$$



$$\dots + \dots = \dots$$



$$\dots + \dots = \dots$$





۷. درنا تعدادی گردی کشید و به برنا گفت: هر دسته ده گردی دارد. با این گردی‌ها دسته‌های مختلف درست کن و یک جمع برای شکل‌ها بنویس به طوری که جواب همه‌ی جمع‌ها ۱۰ شود.



$$10 + 0 = 10$$




$$7 + 3 = 10$$




$$9 + 1 = 10$$



$$6 + 4 = 10$$



$$8 + 2 = 10$$



$$5 + 5 = 10$$



$$\dots + \dots = \dots$$



$$\dots + \dots = \dots$$



$$\dots + \dots = \dots$$



$$\dots + \dots = \dots$$



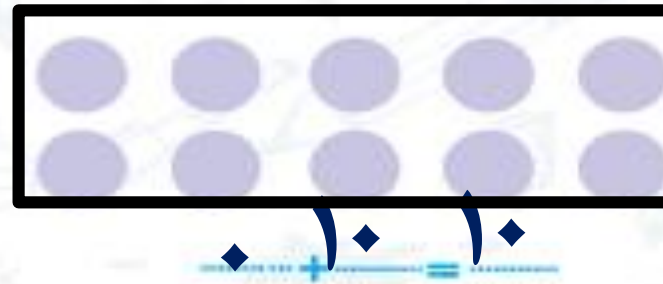
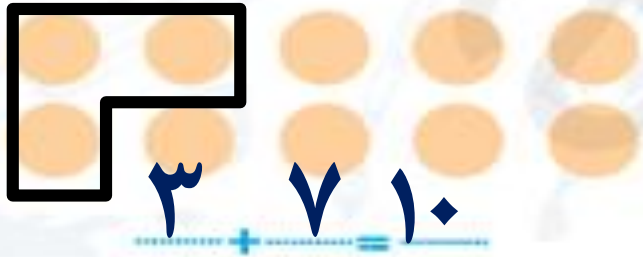
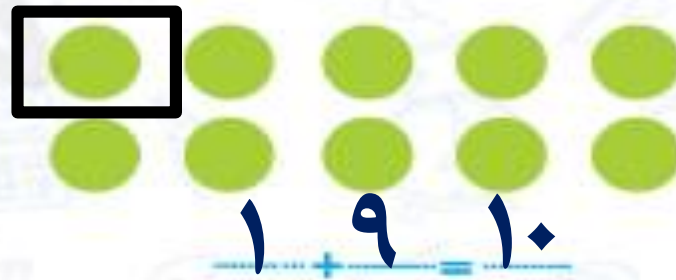
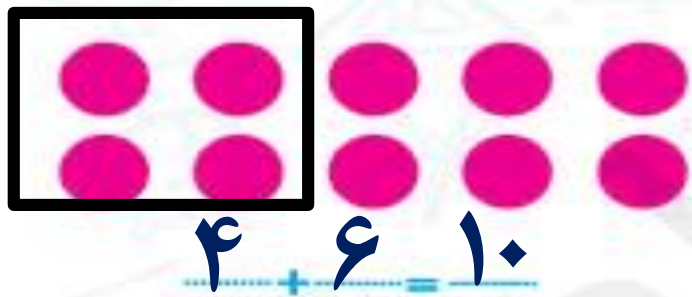
$$\dots + \dots = \dots$$



□ دانش آموز باید بتواند با توجه به شکل و درست کردن دسته‌های مختلف جمع‌های ترکیبی عدد ۱۰ را به دست بیاورد.





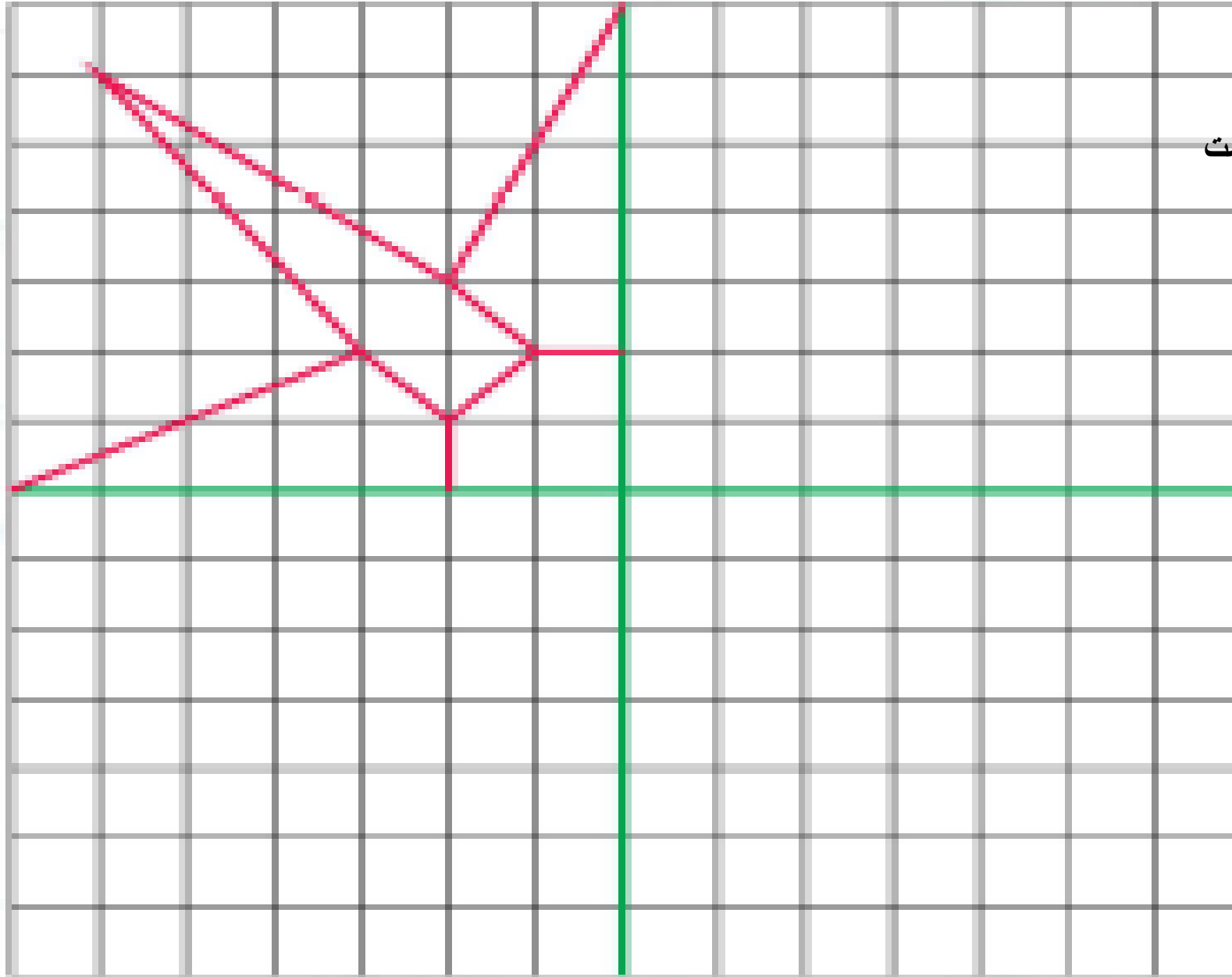


☐ دانش آموز باید بتواند با توجه به شکل و درست کردن دسته‌های مختلف جمع‌های ترکیبی عدد ۱۰ را به دست

بیاورد.

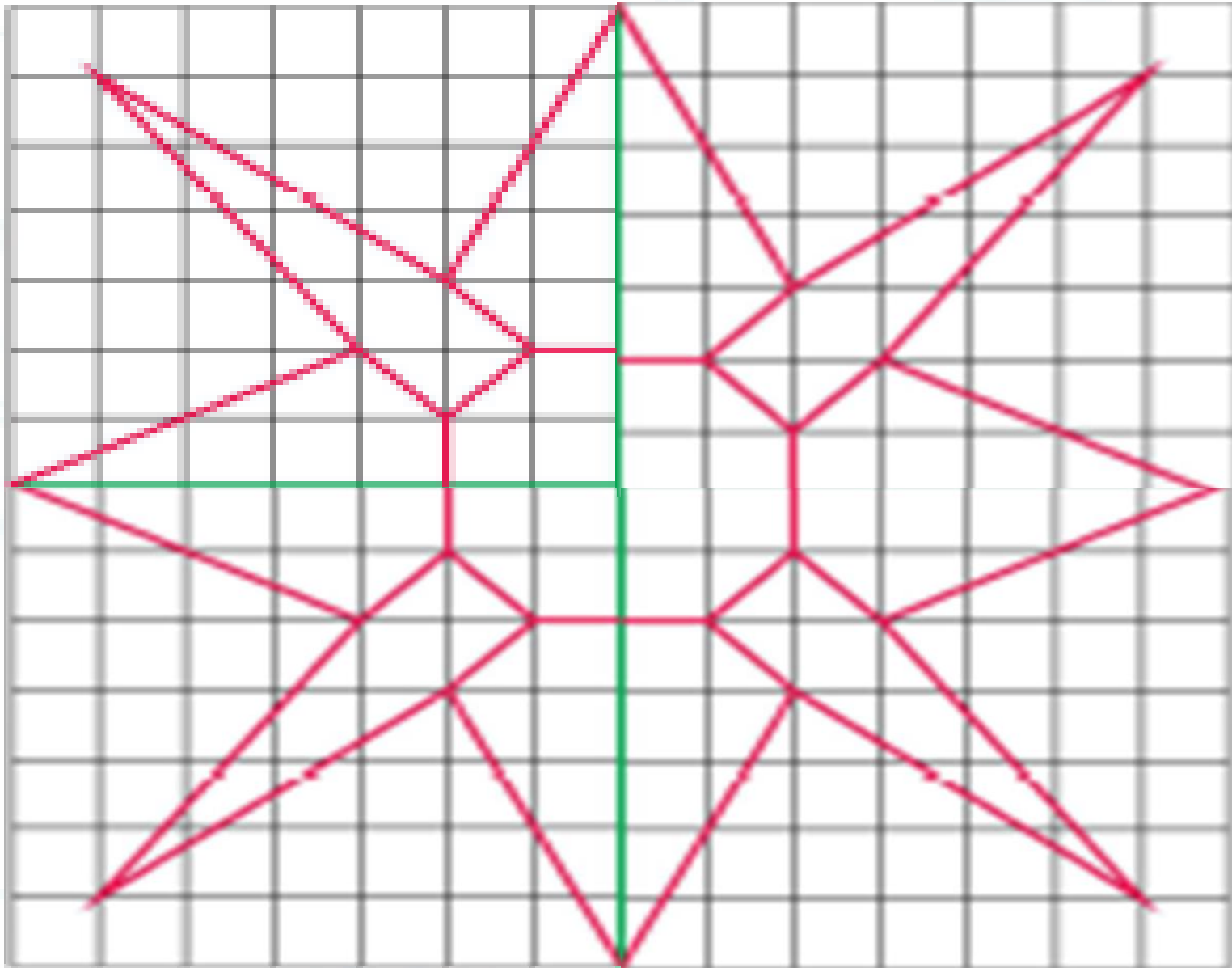


۸. شکل زیر را در قسمت‌های دیگر بکشی و رنگ بزن.



شکل با کتاب کار ریاضی علوی متفاوت است

۱. شکل زیر را در قسمت‌های دیگر بکش و رنگ بزن.



۹. جدول شگفتانگیز زیر را کامل کن

		۱	۴	۹	۸	۶	۴	۲
۹	۶	۴	۷	۱	۴	۵		
۴	۸	۴	۴			۹	۱	۷
۸	۴	۹	۵	۴	۱		۴	
۱	۷	۵		۶		۴	۹	۸
	۴		۹	۸	۷	۱	۵	۴
۶	۱	۷			۵	۴	۴	۹
		۴	۱	۷	۴	۸	۶	۵
۵	۴	۸	۶		۹	۴		



۹. جدول شگفتانگیز زیر را کامل کن

۷	۵	۱	۴	۹	۸	۶	۴	۲
۹	۶	۴	۷	۱	۴	۵	۸	۳
۴	۸	۴	۴	۵	۶	۹	۱	۷
۸	۴	۹	۵	۴	۱	۷	۴	۶
۱	۷	۵	۴	۶	۳	۴	۹	۸
۲	۴	۶	۹	۸	۷	۱	۵	۴
۶	۱	۷	۸	۴	۵	۴	۴	۹
۴	۹	۴	۱	۷	۴	۸	۶	۵
۵	۴	۸	۶	۳	۹	۴	۷	۱



۱. با توجه به شکل دور عدد مناسب خط بکش.



۷ ۹ ۸



۹ ۵ ۶



۵ ۹ ۱۰



۷ ۶ ۸



۱. با توجه به شکل دور عدد مناسب خط بکش.



۷ ۹ ۸



۹ ۵ ۶



۵ ۹ ۱۰



۷ ۶ ۸



# موفقیت با تہذیب