

# ڪتاب ڪار رياضي علوي

صفحات 118 تا 121



۱. درنا و برنا در باغ پرندگان مشغول شمردن پرنده‌های مختلف بودند که با صدای رعد و برق بعضی از آن‌ها پرواز کردند حالا به کمک آن‌ها برو و بگو در هر ردیف چند پرنده بودند؟ چند تا رفتند؟ و چند تا باقی ماندند و عبارت تفریق را برای هر شکل کامل کن.



.....

-

.....

=

.....

۱۱۹



.....

-

.....

=

.....



.....

-

.....

=

.....



☐ دانش‌آموز بتواند مفهوم تفریق را درک کرده و با توجه به شکل عبارت تفریق بنویسد.



۱. درنا و برنا در باغ پرندگان مشغول شمردن پرنده‌های مختلف بودند که با صدای رعد و برق بعضی از آن‌ها پرواز کردند حالا به کمک آن‌ها برو و بگو در هر ردیف چند پرنده بودند؟ چند تا رفتند؟ و چند تا باقی ماندند و عبارت تفریق را برای هر شکل کامل کن.

 ..... ۶	 ..... ۳	 ..... ۴
--	---	---

 ..... ۸	 ..... ۳	 ..... ۵
--	---	---

 ..... ۱۰	 ..... ۴	 ..... ۶
--	--	--





☐ دانش‌آموز بتواند مفهوم تفریق را درک کرده و با توجه به شکل عبارت تفریق بنویسد.



۲. درنا از برنا خواست با توجه به تعداد چینه‌ها و با در نظر گرفتن تعداد چینه‌های حذف شده تعدادی تفریق

بنویسد تفریق‌های زیر را کامل کن و بعد بگو کدام تفریق مربوط به کدام شکل است؟ وصل کن.



😊  $7 - 2 =$

😊  $6 - 3 =$

😊  $4 - 1 =$

😊  $5 - 3 =$



## ریاضی اول دبستان

۲. درنا از برنا خواست با توجه به تعداد چینه‌ها و با در نظر گرفتن تعداد چینه‌های حذف شده تعدادی تفریق بنویسد تفریق‌های زیر را کامل کن و بعد بگو کدام تفریق مربوط به کدام شکل است؟ وصل کن.

			$7 - 2 = 5$
			$6 - 3 = 3$
			$4 - 1 = 3$
			$5 - 3 = 2$

Connections: A blue line connects the first row to the second equation. A yellow line connects the second row to the first equation. A red line connects the third row to the fourth equation. A green line connects the fourth row to the third equation.



۳. درنا و برنا در حین بازی ۱ اردک را با بچه‌هایش کنار رودخانه دیدند.



چند اردک داخل آب هستند؟ ..... تا

چند اردک خارج آب؟ ..... تا

۴. برای هویج‌های زیر یک عبارت تفریق بنویس.

$$\square - \square = \square$$



۳. درنا و برنا در حین بازی ۱ اردک را با بچه‌هایش کنار رودخانه دیدند.



چند اردک داخل آب هستند؟ ..... تا ۷

چند اردک خارج آب؟ ..... تا ۹



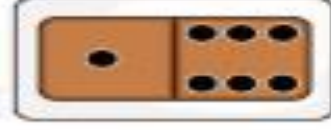

۴. برای هویج‌های زیر یک عبارت تفریق بنویس.

$$\boxed{6} - \boxed{1} = \boxed{5}$$



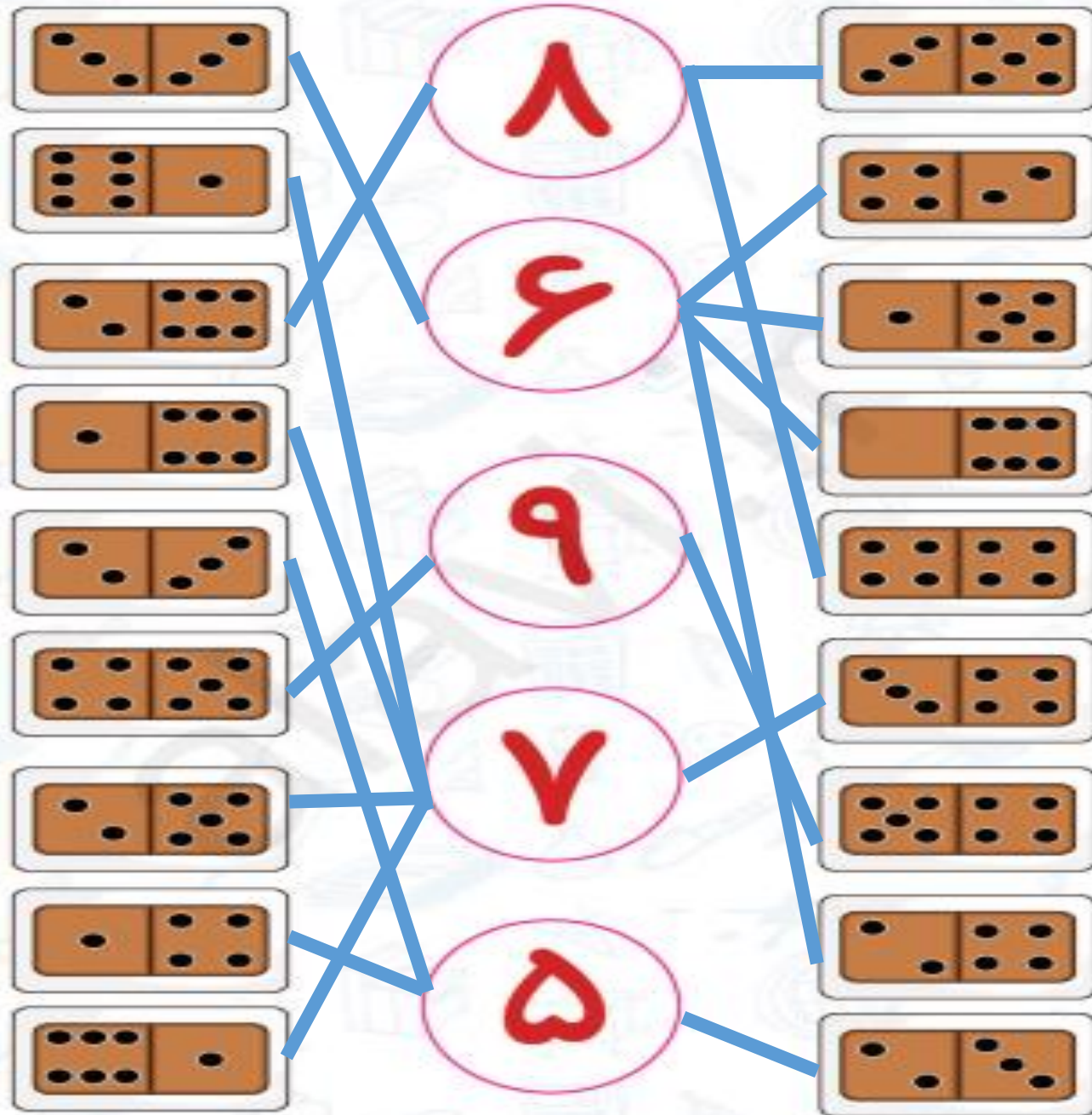


۵. هر دسته را به عدد مناسب وصل کن.






۵. هر دسته را به عدد مناسب وصل کن.



دانش آموز من نظیر نداره

صد گل و صد ستاره



علوی

مدارس هزاره سوم