


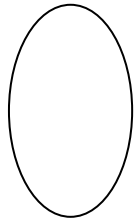


به نام خدا

نام و نام خانوادگی: رزشیایی ریاضی و فارسی



..... >

۱- دسته ی بیش تر را رنگ کن و در جای خالی عدد مناسب بنویس.



۲- عدد هر دسته را بنویس.

۳- جمع عدد ۳ را کامل بنویس.


$$\dots + \dots = 3$$

$$\dots + \dots = 3$$

$$\dots + \dots = 3$$

$$\dots + \dots = 3$$

۴- دست راست دختر و برگ های سمت چپ را رنگ کن.



۴- برای شکل جمع بنویس. + =

۵- اعداد قبل و بعد را بنویس.

___ - ___ - ___ - ۳ - ___ - ___ - ___ - ۷ - ___ - ___ - ___

۶- همان قدر که ستاره می بینی از گردی ها جدا کن.




۷- در جای خالی عدد مناسب بنویس.

$1 + 7 = \dots\dots$


$3 + 3 = \dots\dots$

$4 + 5 = \dots\dots$

۸- دور عدد مناسب خط بکش.



۵ - ۶ - ۷



۷ - ۸ - ۹

۱- کامل کن.

..... از بازار آمدیم.

..... از بازار آمد.

..... از بازار آمدم.

..... از بازار آمدند.

..... از بازار آمدید.

۲- مرتب کن.

باران - آمد - نم نم - دیروز - ساری - در

.....

سه - داد - امید - سیب - درشت - به - امین

.....

۳- هر کلمه چند بخش دارد؟

آش

مردم

ستاره ای

بارانی

۴- صدای هر کلمه را بنویس.

..... / / / / امید

..... / / / / کودک

۵- جمله بنویس.

..... کدو :

..... کار :

..... برمی دارد :


۶- نام هر شکل را بنویس.




.....



.....



.....



.....