

ڪتاب ڪار رياضي علوي

122 تا 124






$$۳ + ۲ = \dots$$



$$۵ + ۱ = \dots$$



$$۳ + ۵ = \dots$$

۶ مانند نمونه با کشیدن شکل یا رنگ کردن، جمع کن.



$$۶ + ۲ = \dots$$



$$۴ + ۴ = \dots$$



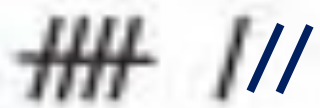
$$۷ + ۳ = \dots$$





 $3 + 2 = 5$


مانند نمونه با کشیدن شکل یا رنگ کردن، جمع کن.




 $3 + 2 = 5$



 $5 + 1 = 6$



 $4 + 4 = 8$



 $3 + 5 = 8$



 $7 + 3 = 10$


۷. با شابلون به دلخواه شکلی در یک طرف نقطه چین بکشی و بعد نیمه‌ی دیگر آن را کامل کن.



۸. برای تعداد سیب‌ها یک عبارت تفریق بنویس.



$$\dots - \dots = \dots$$




$$\dots - \dots = \dots$$



۸. برای تعداد سیب‌ها یک عبارت تفریق بنویس.



$$9 - 4 = 5$$



$$6 - 2 = 4$$

۹. درنا یک مداد و خط کش و تعدادی چینه و چوب کبریت به برنا داد و گفت: هر کدام را با هر ابزاری که دوست داری اندازه بگیر.


برنا مداد را برداشت و با چینه شروع به اندازه گیری کرد، اما تعداد چینه ها با اندازه ی مداد برابر نبود. او فکری کرد و گفت: اندازه ی مداد آبی از ۶ چینه کوتاه تر است.



حالا با نوشتن عدد، جمله ها را کامل کن.



اندازه ی مداد قرمز از چینه بلندتر است.



اندازه ی خط کش از چوب کبریت کوتاه تر است.

۹. درنا یک مداد و خط کش و تعدادی چینه و چوب کبریت به برنا داد و گفت: هر کدام را با هر ابزاری که دوست داری اندازه بگیر.

برنا مداد را برداشت و با چینه شروع به اندازه گیری کرد، اما تعداد چینه ها با اندازه ی مداد برابر نبود. او فکری کرد و گفت: اندازه ی مداد آبی از ۶ چینه کوتاه تر است.




حالا با نوشتن عدد، جمله ها را کامل کن.



اندازه ی مداد قرمز از چینه بلندتر است.

۷



اندازه ی خط کش از چوب کبریت کوتاه تر است.


۴



۱۰. برای شکل‌های زیر عبارت جمع بنویس.



..... + + =



..... + =

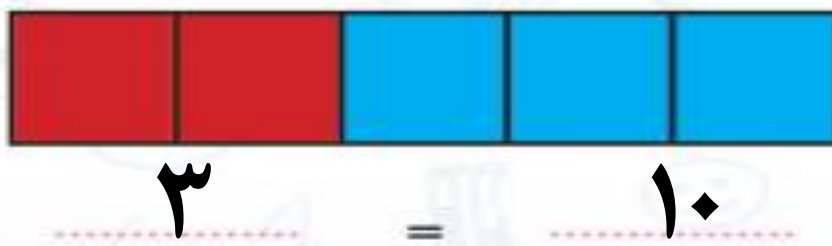
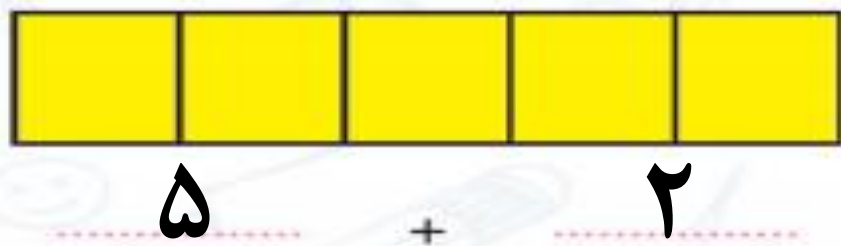
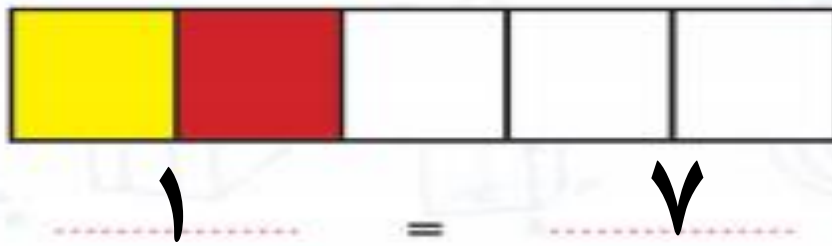
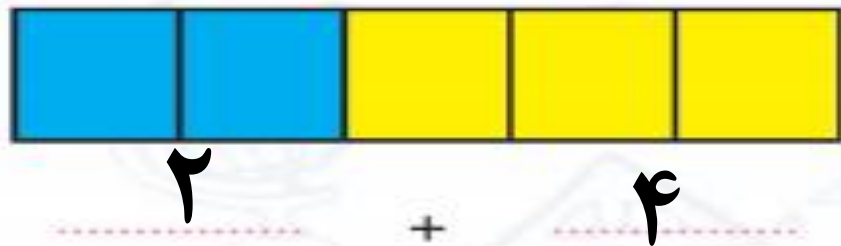


..... + + =



ریاضی اول دبستان

۱۰. برای شکل‌های زیر عبارت جمع بنویس.



۱۱. جمع‌های داده شده را با ۳ رنگ در شکل‌های زیر نشان بده و حاصل را به دست بیاور.

--	--	--	--	--	--	--	--	--	--

$$۲+۲+۲ = \dots\dots\dots$$

--	--	--	--	--	--	--	--	--	--

$$۳+۱+۳ = \dots\dots\dots$$

--	--	--	--	--	--	--	--	--	--

$$۳+۲+۴ = \dots\dots\dots$$



دانش‌آموز بتواند برای جمع‌های سه‌تایی شکل بکشد و برعکس.



۱۱. جمع‌های داده شده را با ۳ رنگ در شکل‌های زیر نشان بده و حاصل را به دست بیاور.



$$2 + 2 + 2 = \dots 6$$



$$3 + 1 + 3 = \dots 7$$



$$3 + 2 + 4 = \dots 9$$




دانش آموز بتواند برای جمع‌های سه تایی شکل بکشد و برعکس.



دانش آموز من نظير نداره

صد گل و صد ستاره



علوی

مدارس هزاره سوم