

ڪتاب ڪار رياضي علوي

صفحات ۱۲۵



۱۲. جدول شگفت‌انگیز زیر را کامل کن.

	۹	۲	۳	۶	۵	۷		۸
	۵	۸	۷		۱	۴	۶	۹
۱	۷	۶	۸		۴	۵		۳
۷	۲			۱	۶		۹	۵
۹	۸	۴	۵	۷	۲	۶	۳	۱
۵	۶		۹	۳			۷	۴
۲		۷	۱		۴	۹	۵	۶
۸	۳	۹	۶		۷	۱	۴	
۶		۵	۲	۴	۹	۳	۸	

۱۲. جدول شگفت‌انگیز زیر را کامل کن.

۶	۹	۲	۳	۶	۵	۷	۱	۸
۲	۵	۸	۷	۲	۱	۴	۶	۹
۱	۷	۶	۸	۹	۴	۵	۲	۳
۷	۲	۳	۴	۱	۶	۸	۹	۵
۹	۸	۴	۵	۷	۲	۶	۳	۱
۵	۶	۱	۹	۳	۸	۲	۷	۴
۲	۴	۷	۱	۸	۳	۹	۵	۶
۸	۳	۹	۶	۵	۷	۱	۴	۲
۶	۱	۵	۲	۴	۹	۳	۸	۷

۱۳. درنا تعدادی شکل کشید و تعدادی از آنها را خط زد. برای شکل‌های زیر یک عبارت تفریق بنویس.



$$\dots = \dots$$



$$\dots = \dots$$



$$\dots = \dots$$

۱۴. تفریق‌های زیر را روی شکل نشان بده و جواب آنها را بنویس.



$$9 - 5 = \dots$$



$$4 - 3 = \dots$$



$$6 - 4 = \dots$$

۱۳. درنا تعدادی شکل کشید و تعدادی از آنها را خط زد. برای شکل‌های زیر یک عبارت تفریق بنویس.



$$8 - 2 = 6$$




$$9 - 4 = 5$$



$$5 - 1 = 4$$

۱۴. تفریق‌های زیر را روی شکل نشان بده و جواب آنها را بنویس.



$$9 - 6 = \dots$$



$$4 - 3 = \dots$$



$$6 - 4 = \dots$$

۱۵. درنا و برنا تصمیم گرفتند با همدیگر مسابقه‌ی دарт بدهند. درنا سمت راست ایستاد و برنا سمت چپ و

شروع به پرتاب تیر کردند.

هر کدام چند امتیاز گرفتند؟

به تعداد امتیازات چوب خط بکش. برای هر کدام یک جمع بنویس و امتیاز را حساب کن.



$$\dots + \dots + \dots = \dots$$



$$\dots + \dots + \dots = \dots$$



$$\dots + \dots + \dots = \dots$$



$$\dots + \dots + \dots = \dots$$



$$\dots + \dots + \dots = \dots$$



$$\dots + \dots + \dots = \dots$$

۱۵. درنا و برنا تصمیم گرفتند با همدیگر مسابقه‌ی دارت بدهند. درنا سمت راست ایستاد و برنا سمت چپ و

شروع به پرتاب تیر کردند.

هر کدام چند امتیاز گرفتند؟

به تعداد امتیازات چوب خط بکش. برای هر کدام یک جمع بنویس و امتیاز را حساب کن.



$$1 + 1 + 3 = 5$$



$$2 + 1 + 2 + 5 = 10$$



$$2 + 2 + 3 = 7$$



$$1 + 3 + 1 + 5 = 10$$




$$1 + 2 + 3 = 6$$



$$1 + 3 + 3 + 7 = 14$$



۱. جاهای خالی را با عدد مناسب کامل کن.




..... + + =

۲. اگر در هر ردیف ۲ تا ماشین حرکت کنند و بروند چند ماشین میمانند؟ عدد آن را در کادر روبهرو بنویس.



۱. جاهای خالی را با عدد مناسب کامل کن.



۲ + ۲ + ۴ = ۸

۲. اگر در هر ردیف ۲ تا ماشین حرکت کنند و بروند چند ماشین میمانند؟ عدد آن را در کادر روبهرو بنویس.



۵

۷

۳. به تعداد انگشتان دست سمت راست از انگشتان دست سمت چپ کم کن و عبارت تفریق را بنویس.



..... - =



..... - =

۳. به تعداد انگشتان دست سمت راست از انگشتان دست سمت چپ کم کن و عبارت تفریق را بنویس.



۵

۲

۳

..... - =



۴

۳

۱


..... - =

۴. با توجه به عبارت جمع شکل بکش و حاصل را بنویس.

$$۵+۴=$$



$$۴+۴=$$



۴. با توجه به عبارت جمع شکل بکش و حاصل را بنویس.

$$5 + 4 = 9$$



$$4 + 4 = 8$$



دانش آموز من نظیر نداره

صد گل و صد ستاره



علوی

مدارس هزاره سوم