

به نام ایزد توانا

درس ریاضی

تم 16








حیات مدرسه



به کمک انگشتان جواب جمع را پیدا کن. حالا بگو دو دسته روی هم چند شکل دارند؟
برای آن یک جمع بنویس.




$$\square + \square = \square$$



$$\square + \square = \square$$



به کمک انگشتان جواب جمع را پیدا کن. حالا بگو دو دسته روی هم چند شکل دارند؟
برای آن یک جمع بنویس.



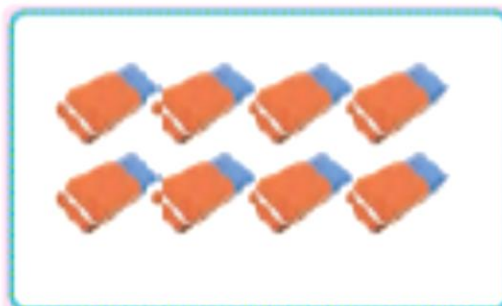

۷

+

۶

=

۱۳



۶

+

۸

=

۱۴





$$\square + \square = \square$$



$$\square + \square = \square$$



$$6 + 5 = 11$$



$$8 + 7 = 15$$





با ابزار
کار کن

عددها را با خط کش به شکل مناسب وصل کن.

	۱۰	
	۱۱	
	۱۲	
	۱۳	
	۱۴	
	۱۵	
	۱۶	
	۱۷	
	۱۸	
	۱۹	




با ابزار
کار کن

عددها را با خط کش به شکل مناسب وصل کن.

A matching exercise where numbers 10 through 19 are connected to their corresponding bar graphs. The numbers are in pink boxes in the center. On the left and right are red-bordered boxes containing bar graphs with varying heights and widths. Colored lines connect the numbers to the correct bar graphs.

Number	Bar Graph Description
۱۰	Two bars: the first is short, the second is medium-long.
۱۱	Two bars: the first is medium-long, the second is long.
۱۲	Two bars: the first is medium-long, the second is long.
۱۳	Two bars: the first is medium-long, the second is long.
۱۴	Two bars: the first is short, the second is medium-long.
۱۵	Two bars: the first is medium-long, the second is long.
۱۶	Two bars: the first is short, the second is medium-long.
۱۷	Two bars: the first is short, the second is long.
۱۸	Two bars: the first is short, the second is long.
۱۹	Two bars: the first is very short, the second is long.

با نگاه کردن به یک ساعت عددهای روی ساعت زیر را بنویس .






اندازه‌ی چاقو کوتاه‌تر از است.



اندازه‌ی چنگال کوتاه‌تر از است.





اندازه ی چاقو کوتاه تر از ۵ است.

۵

اندازه ی چاقو کوتاه تر از ۵ است.



اندازه ی چنگال کوتاه تر از ۶ است.

۶

اندازه ی چنگال کوتاه تر از ۶ است.



پروانه ای رنگارنگ خسته نباشی فشنگ

