

به نام خداوند دانایی ها

درس ریاضی: تم ۱۷

کلاس: دانشمندان







خانه ی پدر بزرگ
و مادر بزرگ




دختر نازم، با چوب خط حاصل جمع را پیدا کن و
یک جمع بنویس



_____ + _____ + _____ = _____

دختر نازم، با چوب خط حاصل جمع را پیدا کن و
یک جمع بنویس



۴

+

۳

+

۲

=

۹

دخترکم، با چوب خط حاصل جمع را پیدا کن و یک جمع بنویس





+

+

=

دخترکم، با چوب خط حاصل جمع را پیدا کن و یک جمع بنویس



4

+

3

+

1

=

8

دختر باهوشم، با چوب خط حاصل جمع را پیدا کن و یک
جمع بنویس





$$\text{---} + \text{---} + \text{---} + \text{---} = \text{---}$$

دختر باهوشم، با چوب خط حاصل جمع را پیدا کن و یک جمع بنویس



$$۴ + ۳ + ۲ + ۴ = ۱۳$$





3

4

5

1

13

عزیزم، با توجه به شکل جمع مناسب را بنویس و حاصل را پیدا کن



$$\underline{\hspace{2cm}} + \underline{\hspace{2cm}} = \underline{\hspace{2cm}}$$

عزیزم، با توجه به شکل جمع مناسب را بنویس و حاصل را پیدا کن




$$\begin{array}{r} 7 \\ \hline \end{array} + \begin{array}{r} 5 \\ \hline \end{array} + \begin{array}{r} 5 \\ \hline \end{array} = \begin{array}{r} 17 \\ \hline \end{array}$$

دختر تلاشگر من، با توجه به شکل جمع مناسب را بنویس و حاصل را پیدا کن




$$\text{-----} + \text{-----} = \text{-----}$$

دختر تلاشگر من، با توجه به شکل جمع مناسب را بنویس و حاصل را پیدا کن



$$\begin{array}{c} ۳ \\ \hline \end{array} + \begin{array}{c} ۵ \\ \hline \end{array} + \begin{array}{c} ۳ \\ \hline \end{array} = \begin{array}{c} ۱۱ \\ \hline \end{array}$$

خوب من، با توجه به شکل جمع مناسب را بنویس و حاصل را پیدا کن




$$\text{-----} + \text{-----} + \text{-----} = \text{-----}$$

خوب من، با توجه به شکل جمع مناسب را بنویس و حاصل را پیدا کن





$$\begin{array}{r} ۴ \\ \hline \end{array} + \begin{array}{r} ۴ \\ \hline \end{array} = \begin{array}{r} ۱۲ \\ \hline \end{array}$$

دوست خوبم، با توجه به شکل جمع مناسب را بنویس و حاصل
را پیدا کن



$$\text{-----} + \text{-----} = \text{-----}$$

دوست خوبم، با توجه به شکل جمع مناسب را بنویس و حاصل
را پیدا کن



$$\begin{array}{ccccccc} 2 & + & 6 & + & 5 & = & 13 \\ \hline & & & & & & \end{array}$$

عزیزم، با توجه به جمع نوشته شده مربع ها را با رنگ های مختلف رنگ کن و حاصل را بنویس




$$\text{-----} + \text{-----} + \text{-----} = \text{-----}$$

عزیزم، با توجه به جمع نوشته شده مربع ها را با رنگ های مختلف رنگ کن و حاصل را بنویس




$$1 + 2 + 4 + 5 = 12$$

گل من، با توجه به جمع نوشته شده مربع ها را با رنگ های مختلف رنگ کن و حاصل را بنویس





$$\underline{\hspace{2cm}} + \underline{\hspace{2cm}} + \underline{\hspace{2cm}} = \underline{\hspace{2cm}}$$

گل من، با توجه به جمع نوشته شده مربع ها را با رنگ های مختلف رنگ کن و حاصل را بنویس




$$\begin{array}{c} 5 \\ \hline \end{array} + \begin{array}{c} 2 \\ \hline \end{array} + \begin{array}{c} 5 \\ \hline \end{array} = \begin{array}{c} 12 \\ \hline \end{array}$$

پروفیسور من ، پاسخ ہر قسمت را بنویس و مقایسه کن و علامت مناسب را انتخاب کن




$$10 - 3 = 7$$

$$2 + 4 + 5 = 11$$



$$\text{---} + \text{---} = \text{---}$$


$$\text{---} - \text{---} = \text{---}$$





$$5 + 5 = 10$$




$$10 - 2 = 8$$





$$+ + =$$



$$+ =$$




$$1 + 2 + 3 = 6$$





$$5 + 3 = 8$$

گلم، پاسخ هر قسمت را بنویس و مقایسه کن و علامت مناسب را انتخاب کن



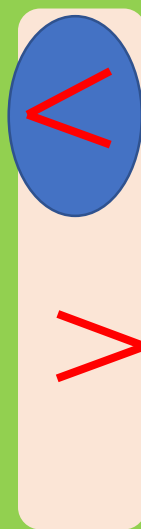
_____ - _____ = _____



_____ + _____ = _____

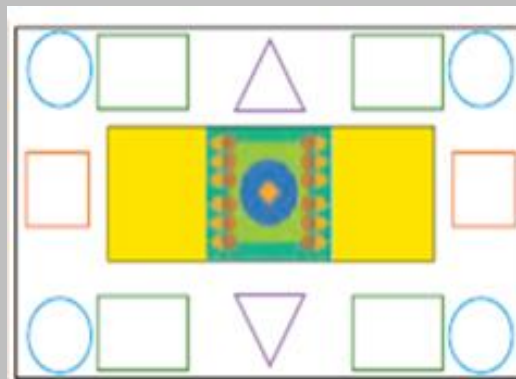

گلم، پاسخ هر قسمت را بنویس و مقایسه کن و علامت مناسب را انتخاب کن

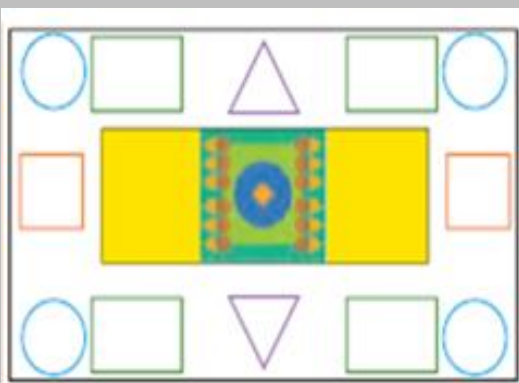






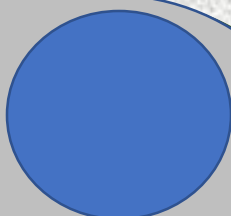



11 - 4 = 7



5 + 7 = 12

با کمک شابلون





مربع شگفت انگیز پایین را پر کن

۹	۲	۸	۶	۵	۱	۷	۴	۳
۳		۵	۷		۲	۳		۱
۴	۱	۷	۳	۳	۹	۸	۶	۵
۶	۹	۳		۷		۱	۵	۲
۷		۳	۱		۳	۹		۶
۸	۲	۱		۹		۳	۳	۷
۳	۳	۶	۸	۱	۵	۲	۷	۹
۱		۲	۹		۳	۵		۸
۵	۸	۹	۴	۳	۷	۶	۱	۳

مربع شگفت انگیز پایین را پر کن

۹	۴	۸	۶	۵	۱	۷	۲	۳
۴	6	۵	۷	8	۲	۴	9	۱
۲	۱	۷	۴	۴	۹	۸	۶	۵
۶	۹	۴	3	۷	8	۱	۵	۲
۷	5	۴	۱	2	۴	۹	8	۶
۸	۲	۱	5	۹	6	۴	۴	۷
۴	۴	۶	۸	۱	۵	۲	۷	۹
۱	7	۲	۹	6	۴	۵	4	۸
۵	۸	۹	۲	۴	۷	۶	۱	۴

حذرافظ

