



خرید

در جاهای خالی عدد مناسب بنویس.

بشمار و
بنویس




.....



.....



.....



.....



.....



.....




.....




.....




.....



.....



.....



.....

در جاهای خالی عدد مناسب بنویس.

بشمار و
بنویس



۶ ۸ ۱۰



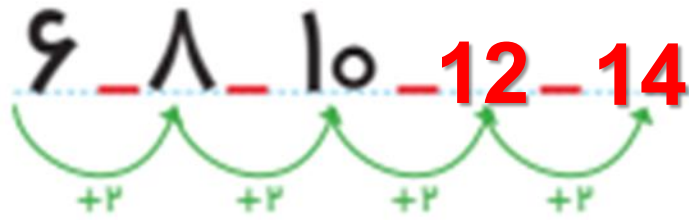
۵ ۷ ۹



بلندی نمکدان بین تا است.

بلندی لیوان بین تا است.





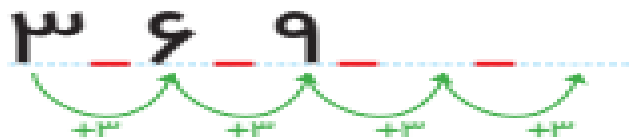
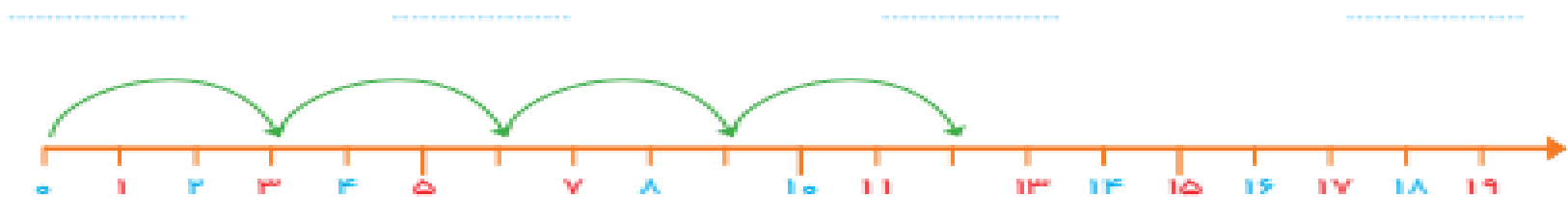

بلندی نمکدان بین 4 تا 5 است.

بلندی لیوان بین 7 تا 8 است.



عدد هر شکل را بنویس. جاهای خالی را با عدد مناسب پر کن.
 الگوها را ادامه بده. یک شکل ۳ تایی در نظر بگیر و یک الگو بساز.

بشمار و بنویس



عدد هر شکل را بنویس. جاهای خالی را با عدد مناسب پر کن.
 کوهها را ادامه بده. یک شکل ۳ تایی در نظر بگیر و یک الگو بساز.

بشمار و بنویس



3



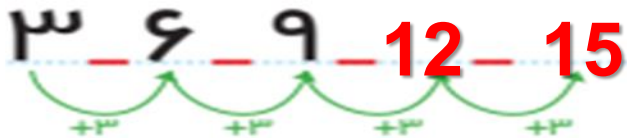
6



9



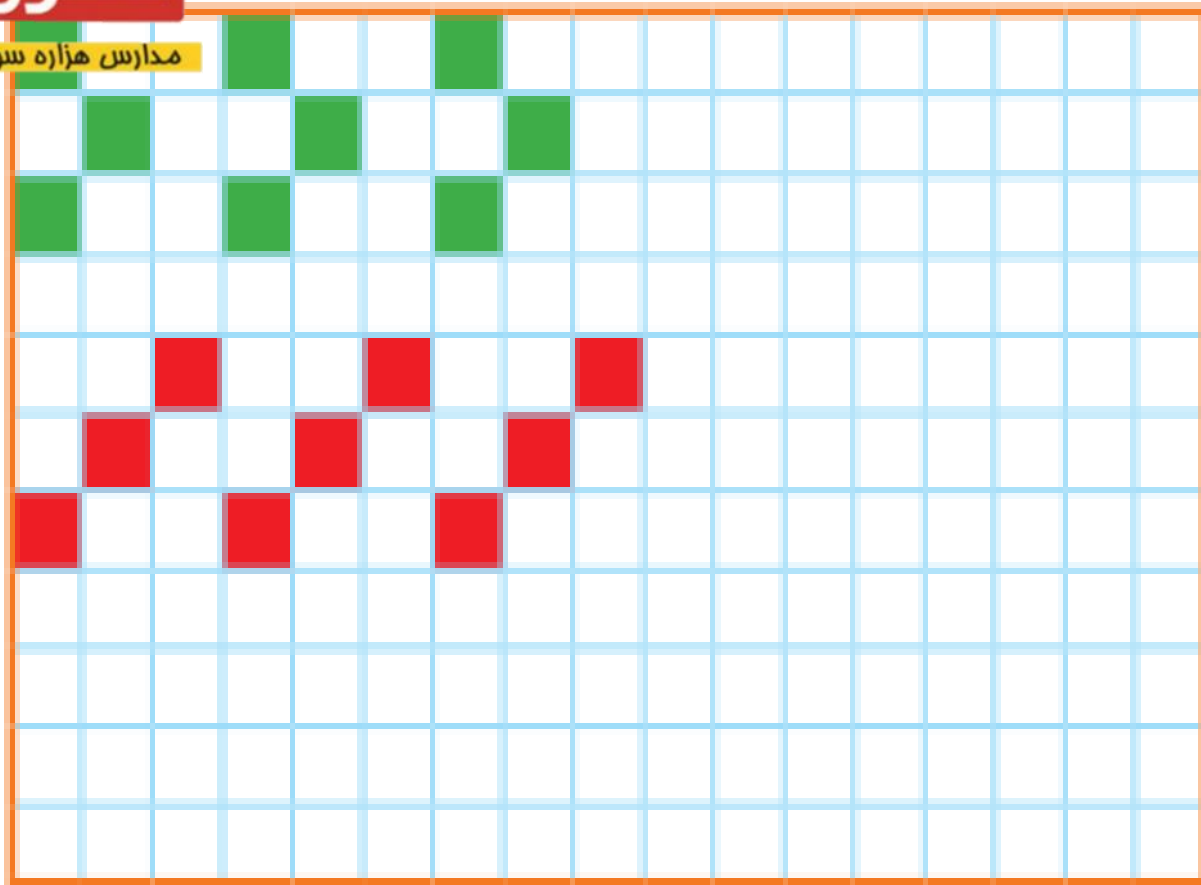


12



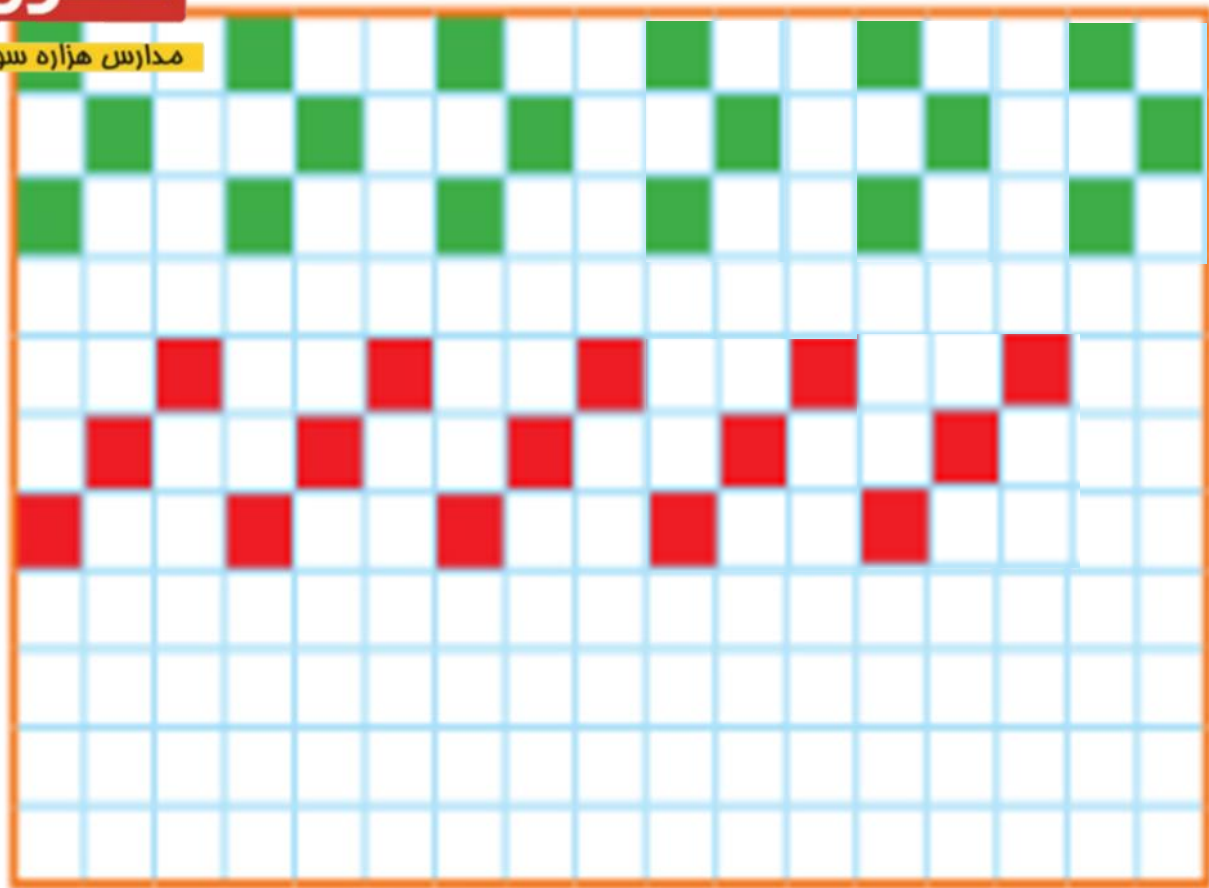
علوی

مدارس هزاره سوم



علوی

مدارس هزاره سوم



حاصل جمع‌ها را با چوب خط پیدا کن و عبارت جمع را بنویس.

بشمار و بنویس



//		=	
----	--	---	--

۲	+	۱۲	=	۱۴
---	---	----	---	----

	//	=	
--	----	---	--

	+		=	
--	---	--	---	--

		=	
--	--	---	--

	+		=	
--	---	--	---	--

	//	=	
--	----	---	--

	+		=	
--	---	--	---	--

حاصل جمع ها را با چوب خط پیدا کن و عبارت جمع را بنویس.

بشمار و بنویس



$$\underline{\quad 2 \quad} + \underline{\quad 12 \quad} = \underline{\quad 14 \quad}$$



$$\underline{\quad 7 \quad} + \underline{\quad 9 \quad} = \underline{\quad 16 \quad}$$



$$\underline{\quad 9 \quad} + \underline{\quad 9 \quad} = \underline{\quad 18 \quad}$$



$$\underline{\quad 8 \quad} + \underline{\quad 7 \quad} = \underline{\quad 15 \quad}$$

خسته نباشی ریاضیدان کوچکی