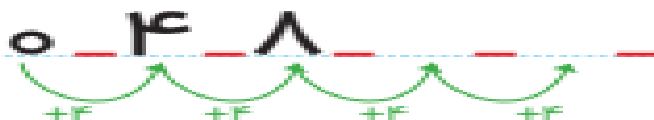

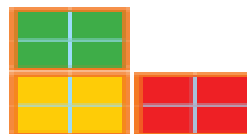




خرید



۱	۲	۳		۵	۶	۷		۹	۱۰
۱۱		۱۳	۱۴	۱۵		۱۷	۱۸	۱۹	



۴



۸



۱۲



۱۶



۴



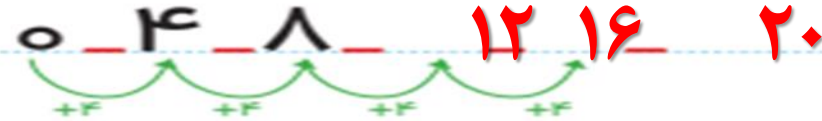
۸



۱۲




۱۶



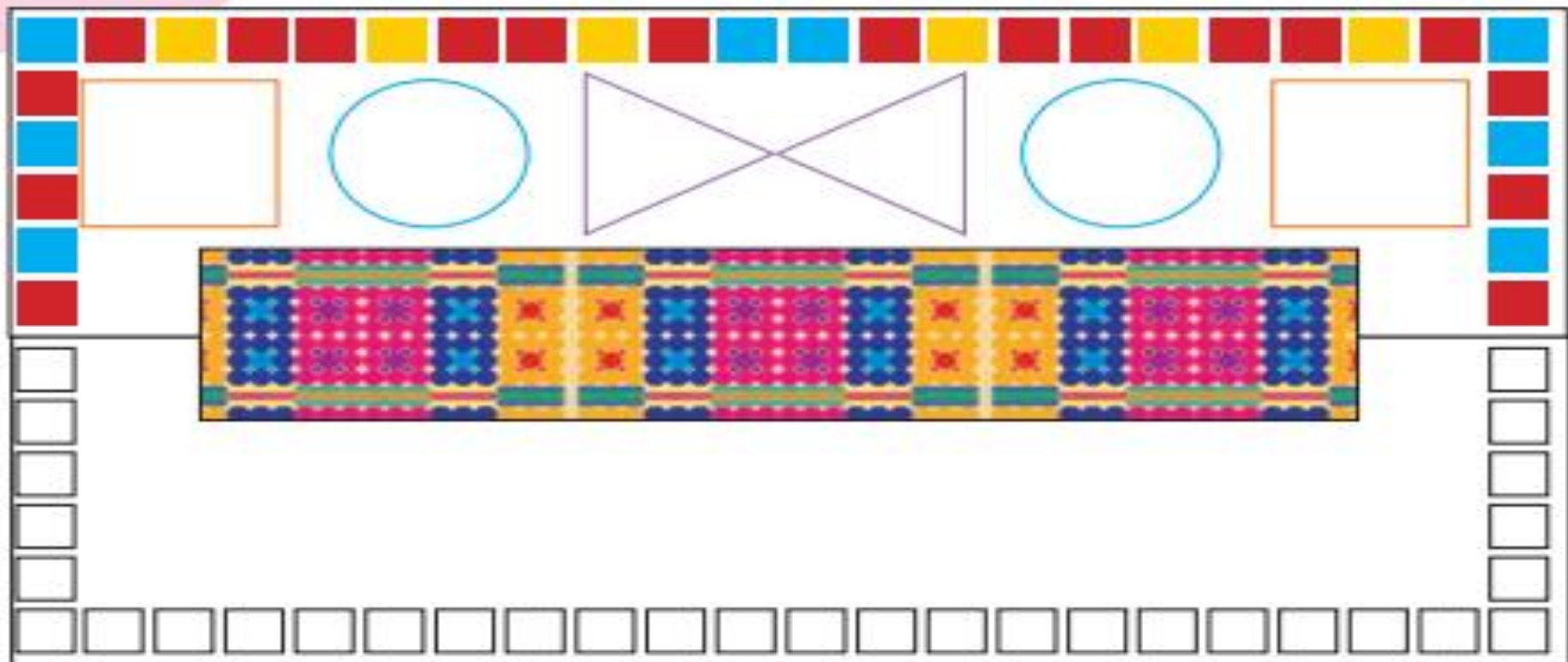
۱	۲	۳	۴	۵	۶	۷	۸	۹	۱۰
۱۱	۱۲	۱۳	۱۴	۱۵	۱۶	۱۷	۱۸	۱۹	۲۰


علوی

مدارس هزاره سوم



الگوهای دو طرف قرش را ادامه بده. با شابلون دو طرف قرش، شکل های یکسان بکش.



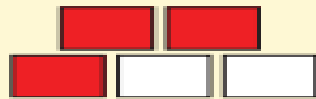




۶	۲	۹	۸	۳	۷	۱	۴	۵
۷	۸	۱	۴	۹	۵	۳	۲	۶
۴	۳		۲				۹	۷
۵	۷		۶	۴	۲	۹	۸	۱
۹	۴		۳	۱	۸	۷	۵	۲
۸	۱		۷	۵	۹	۶	۳	۴
۲	۹		۱				۶	۳
۱	۶	۸	۵	۲	۳	۴	۷	۹
۳	۵	۴	۹	۷	۶	۲	۱	۸

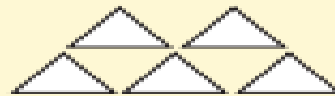
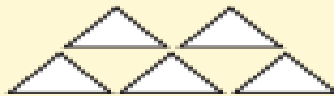
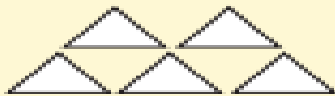


۶	۲	۹	۸	۳	۷	۱	۴	۵
۷	۸	۱	۴	۹	۵	۳	۲	۶
۴	۳	۵	۲	۶	۱	۸	۹	۷
۵	۷	۳	۶	۴	۲	۹	۸	۱
۹	۴	۶	۳	۱	۸	۷	۵	۲
۸	۱	۲	۷	۵	۹	۶	۳	۴
۲	۹	۷	۱	۸	۴	۲	۶	۳
۱	۶	۸	۵	۲	۳	۴	۷	۹
۳	۵	۴	۹	۷	۶	۲	۱	۸





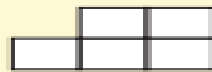
$$6 + 7 = \dots$$



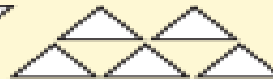
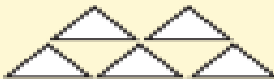
$$8 + 5 = \dots$$



$$7 + 9 = \dots$$




$$9 + 6 = \dots$$



$$9 + 8 = \dots$$




$$6 + 7 = 13$$



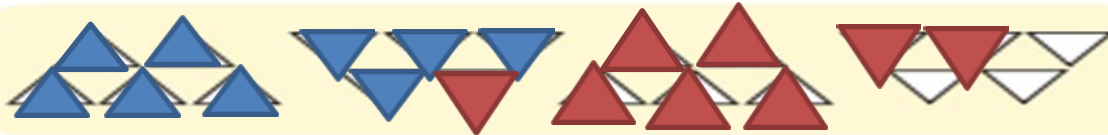
$$8 + 5 = 13$$



$$7 + 9 = 16$$



$$9 + 6 = 15$$



$$9 + 8 = 17$$

علوی

مدارس هزاره سوم

خسته نباشی ریاضیدان کوچکی