


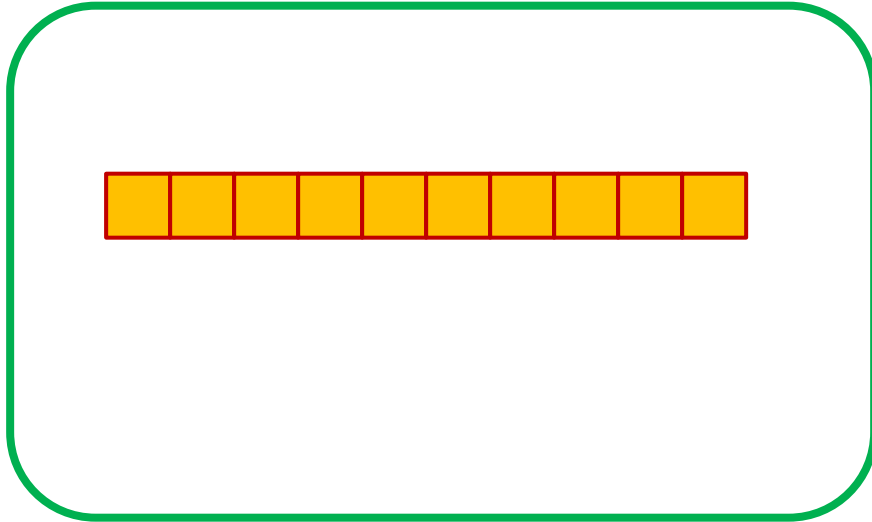
علوی

مدارس هزاره سوم





نانوایی

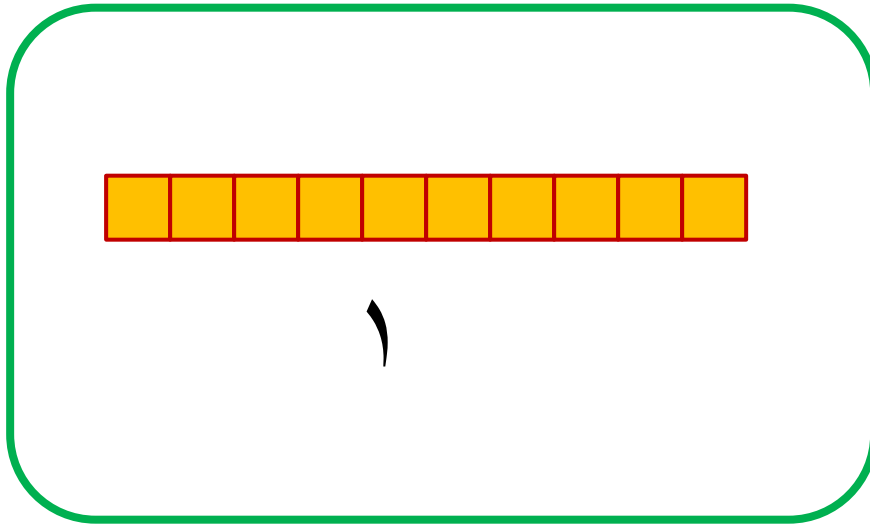
جدول را کامل کن و عددی که هر شکل نشان می دهد کنار آن بنویس





ده تایی	یکی
.....	.....



جدول را کامل کن و عددی که هر شکل نشان می دهد کنار آن بنویس



یکی	ده تایی
۰	۱



یکی | ده تایی

.....



.....

یکی | ده تایی

.....




.....

۲۰

یکی	ده تایی
۰	۲

۲۰



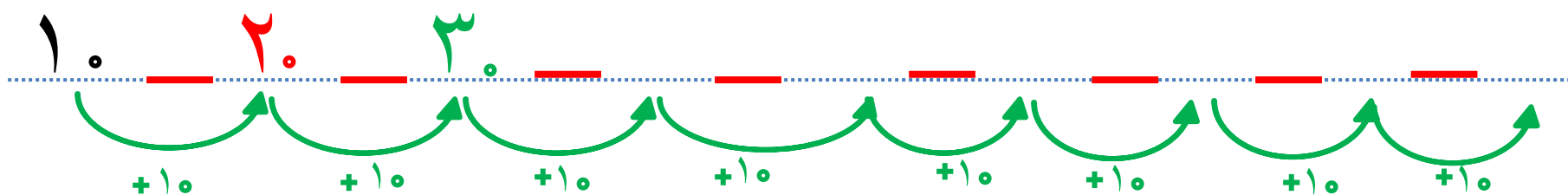
۳۰

یکی	ده تایی
۰	۳

۳۰



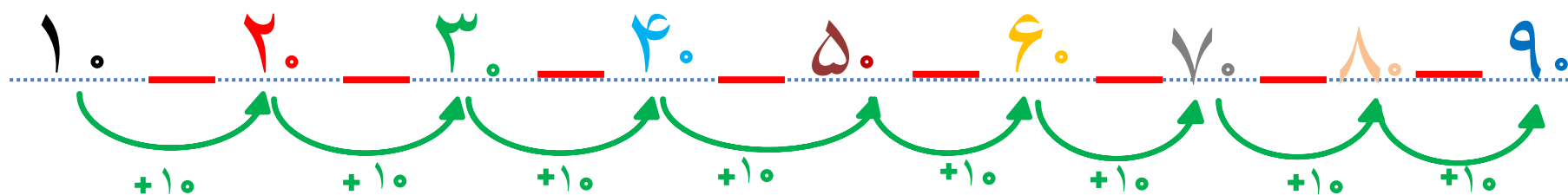
مانند الگو عدد بعدی را بنویس



۱.      ۲.      ۳.      ۴.      ۵.      ۶.      ۷.      ۸.      ۹.

ده      بیست      سی      چهل      پنجاه      شصت      هفتاد      هشتاد      نود

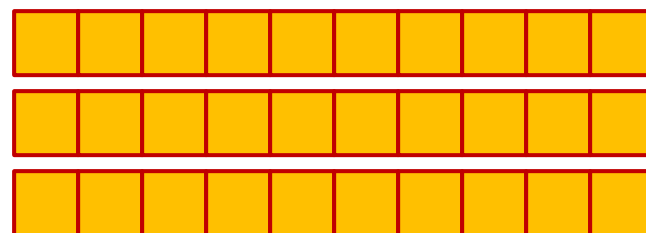

مانند الگو عدد بعدی را بنویس



۱.    ۲.    ۳.    ۴.    ۵.    ۶.    ۷.    ۸.    ۹.

ده    بیست    سی    چهل    پنجاه    شصت    هفتاد    هشتاد    نود

# جواب جمع ها و تفریق ها را بنویس



\_\_\_\_\_

+

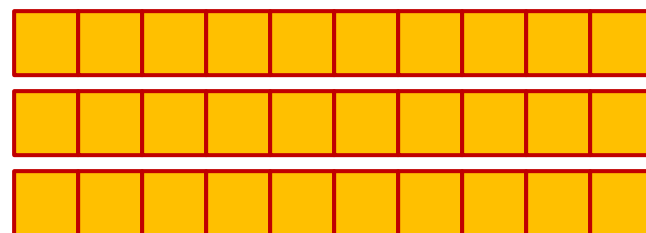

\_\_\_\_\_

=

۵۰



# جواب جمع ها و تفریق ها را بنویس



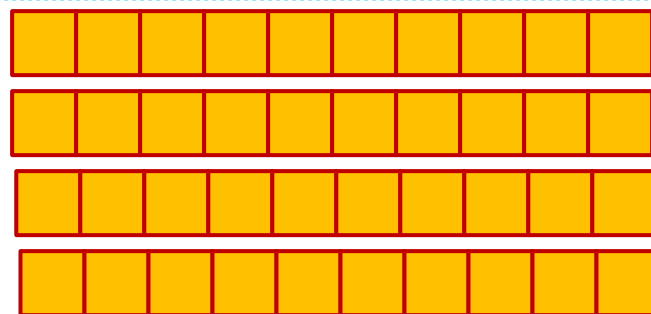
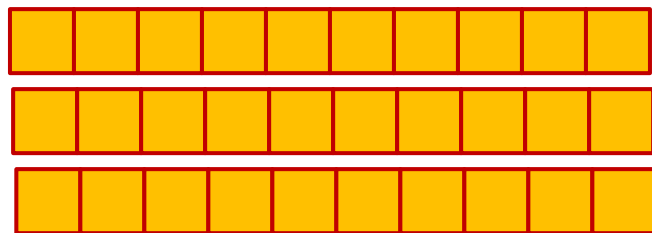
۲۰

+

۳۰

=

۵۰



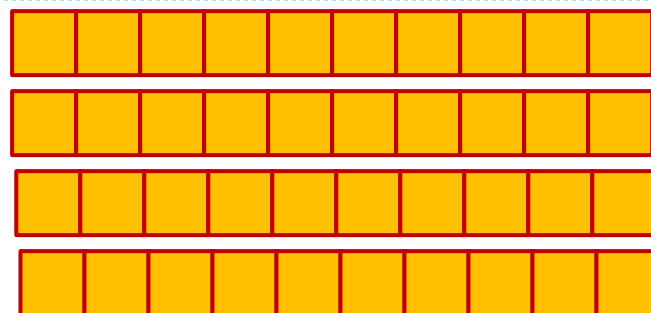
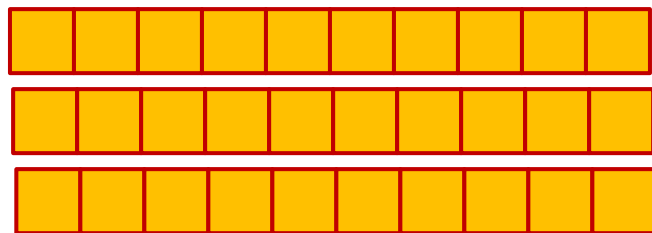
\_\_\_\_\_

+

\_\_\_\_\_

=

\_\_\_\_\_



۳۰

+

۱۰

=

۴۰

جواب جمع ها و تفریق ها را بدست آورید

$$۴۰ + ۳۰ =$$

$$۵۰ - ۱۰ =$$

$$۲۰ + ۴۰ =$$

$$۶۰ - ۵۰ =$$

جواب جمع ها و تفریق ها را بدست آورید

$$۴ + ۳ = ۷$$

$$۵ - ۱ = ۴$$

$$۲ + ۴ = ۶$$

$$۶ - ۵ = ۱$$

## جواب جمع ها و تفریق ها را بدست آورید

$$4 + 3 = 7$$

$$6 - 4 = 2$$

$$5 - 1 = 4$$

$$3 + 3 = 6$$

$$2 + 4 = 6$$

$$7 - 6 = 1$$

$$6 - 5 = 1$$

$$5 + 2 = 7$$

کارها را به ترتیبی که باید انجام شود شماره گذاری کن .

۱ ۲ ۳



کارها را به ترتیبی که باید انجام شود شماره گذاری کن .

۱ ۲ ۳

