




علوی

مدارس هزاره سوم



نانوایی

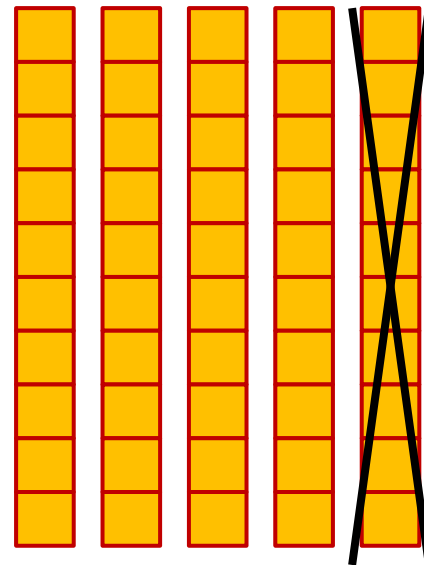
جمع یا تفریق کن و علامت مناسب > یا < یا = را انتخاب کن .



>

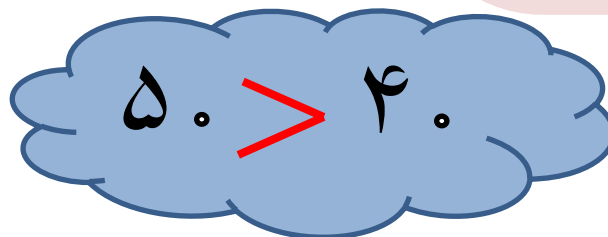
=

<





-

=

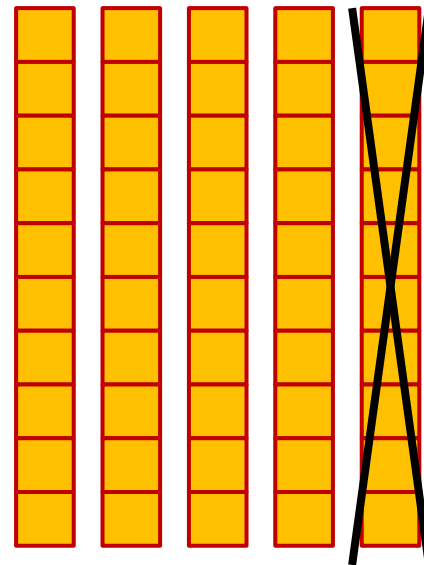

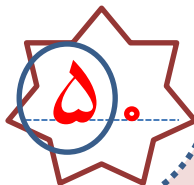


جمع یا تفریق کن و علامت مناسب > یا < یا = را انتخاب کن .



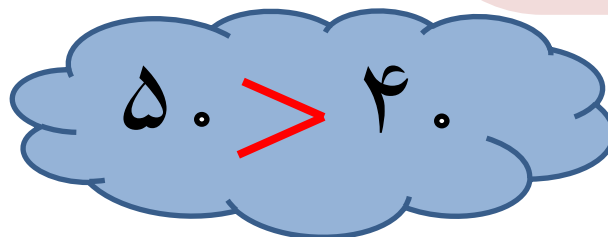
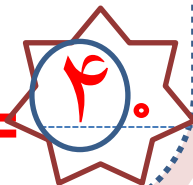
$$۲ + ۳ =$$

$$=$$

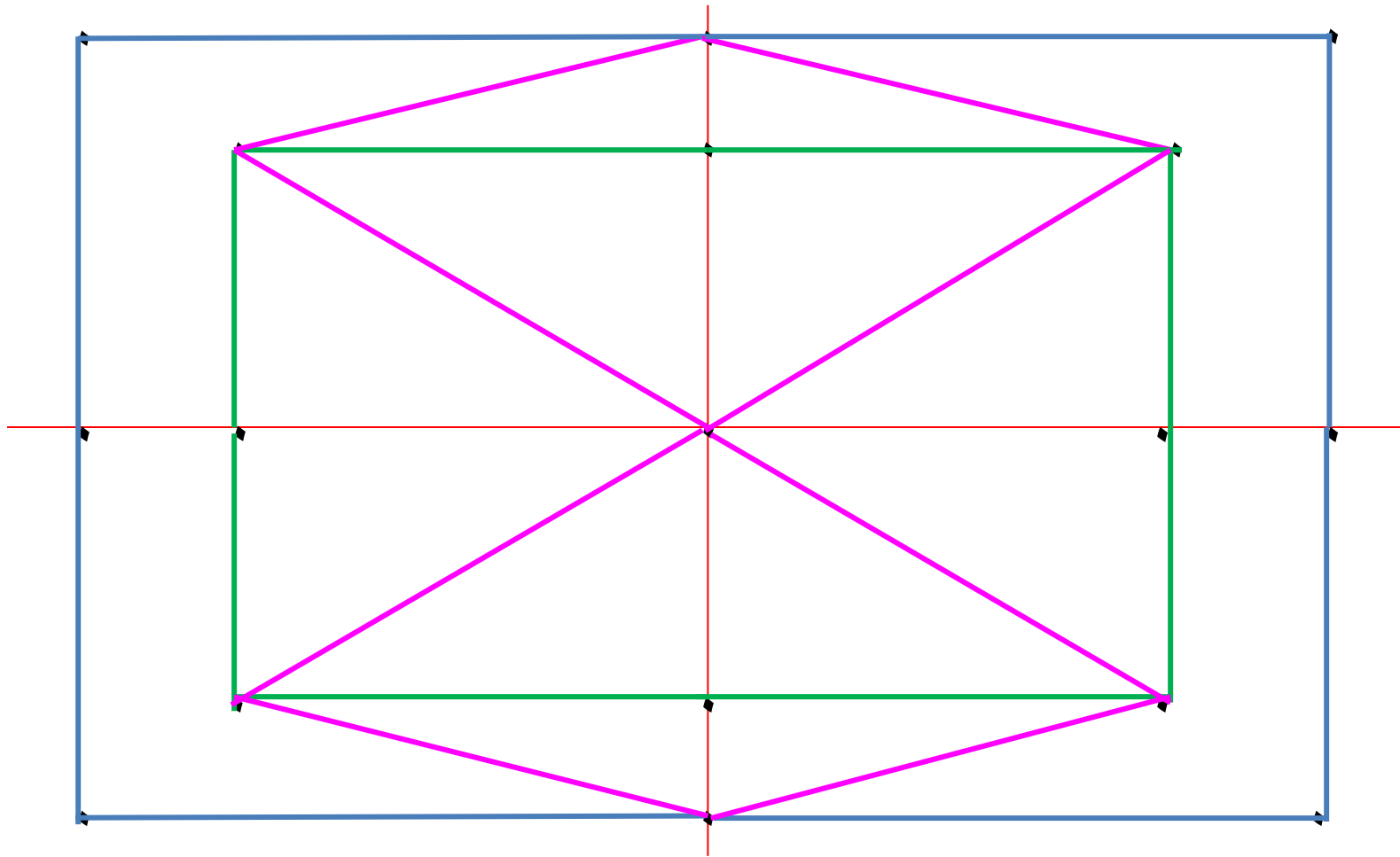


$$۵ -$$

$$۱ =$$



با ابزار کار کن





۳	۱	۶	۷	۴	۲	۹	۸	۵
۸	۴	۵	۳	۶	۹	۲	۷	۱
۹	۷			۱	۸	۶	۴	۳
۷	۳			۹	۵	۱	۲	۸
۶	۸	۹	۴	۲	۱	۳	۵	۷
۲	۵			۷			۹	۶
۵	۶			۳			۱	۲
۱	۹	۳	۲	۸	۷	۵	۶	۴
۴	۲	۷	۱	۵	۶	۸	۳	۹




سودوکو



۳	۱	۶	۷	۴	۲	۹	۸	۵
۸	۴	۵	۳	۶	۹	۲	۷	۱
۹	۷	۲	۵	۱	۸	۶	۴	۳
۷	۳	۴	۸	۹	۵	۱	۲	۸
۶	۸	۹	۴	۲	۱	۳	۵	۷
۲	۵	۱	۸	۷	۳	۴	۹	۶
۵	۶	۸	۷	۳	۴	۷	۱	۲
۱	۹	۳	۲	۸	۷	۵	۶	۴
۴	۲	۷	۱	۵	۶	۸	۳	۹



سودو کو

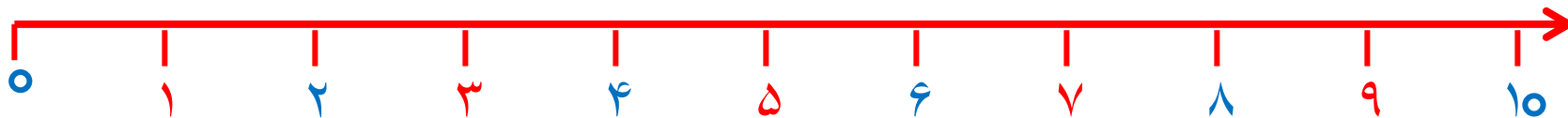



۸ پرنده روی درخت بودند.

۳ تا از پرنده ها پرواز کردند و رفتند

چند پرنده مانده است؟

پرنده مانده است.



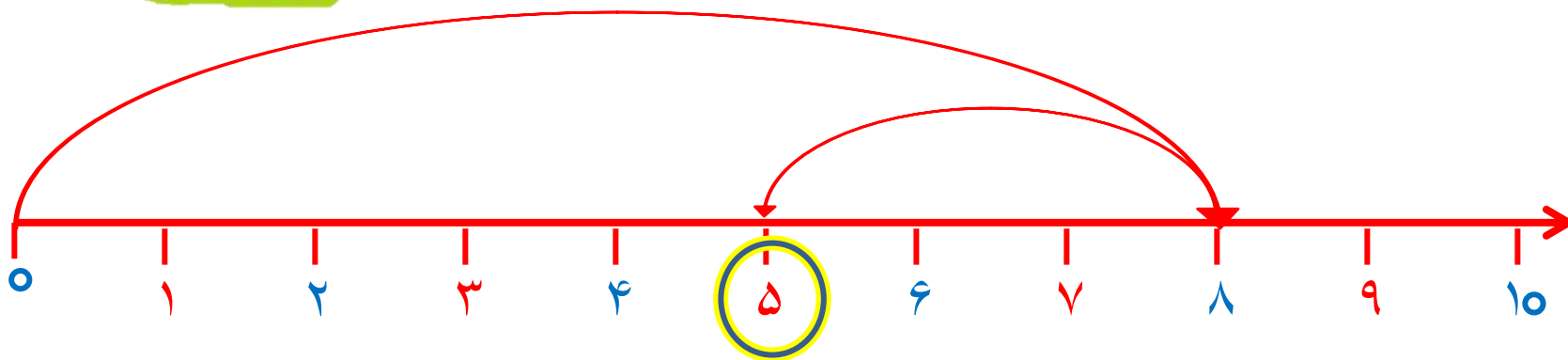



۸ پرنده روی درخت بودند.

۳ تا از پرنده ها پرواز کردند و رفتند

چند پرنده مانده است؟

پرنده مانده است.



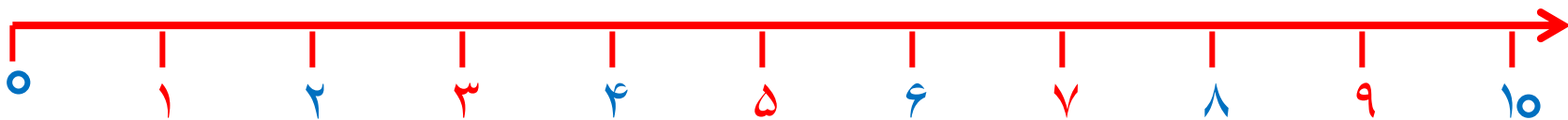


علی ۹ بادکنک داشت .

۵ تا از بادکنک ها به هوا رفت .

چند تا بادکنک مانده است ؟

بادکنک مانده است .



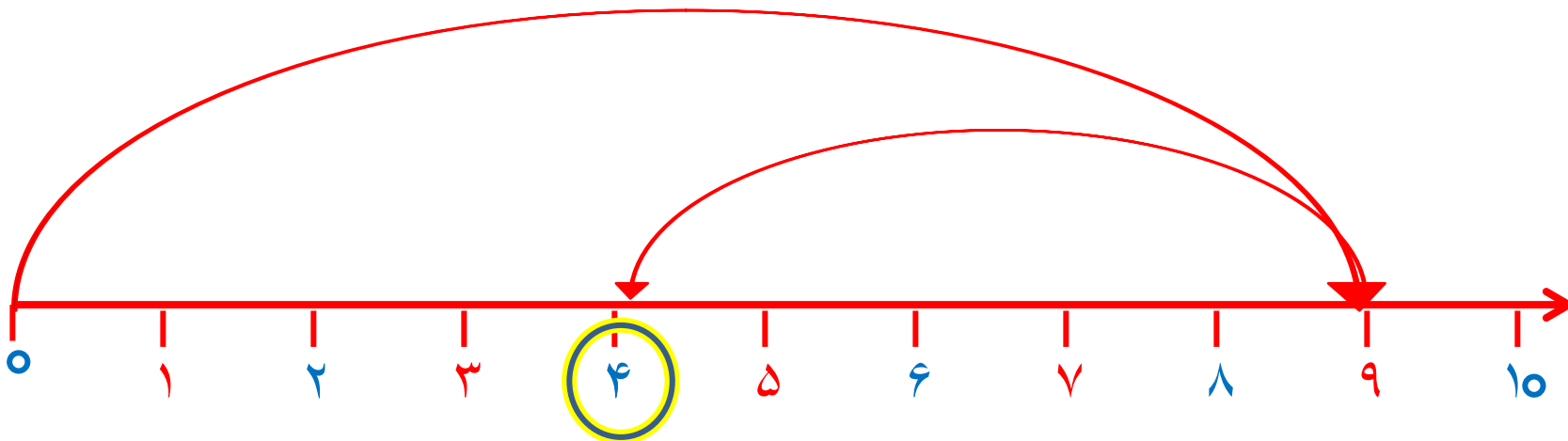



علی ۹ بادکنک داشت .

۵ تا از بادکنک ها به هوا رفت .

چند تا بادکنک مانده است ؟

بادکنک مانده است .



۷ تا شمع روشن بود.

زهرا ۴ تا از شمع ها را خاموش کرد

چند تا شمع روشن مانده است؟

تا شمع روشن مانده است .

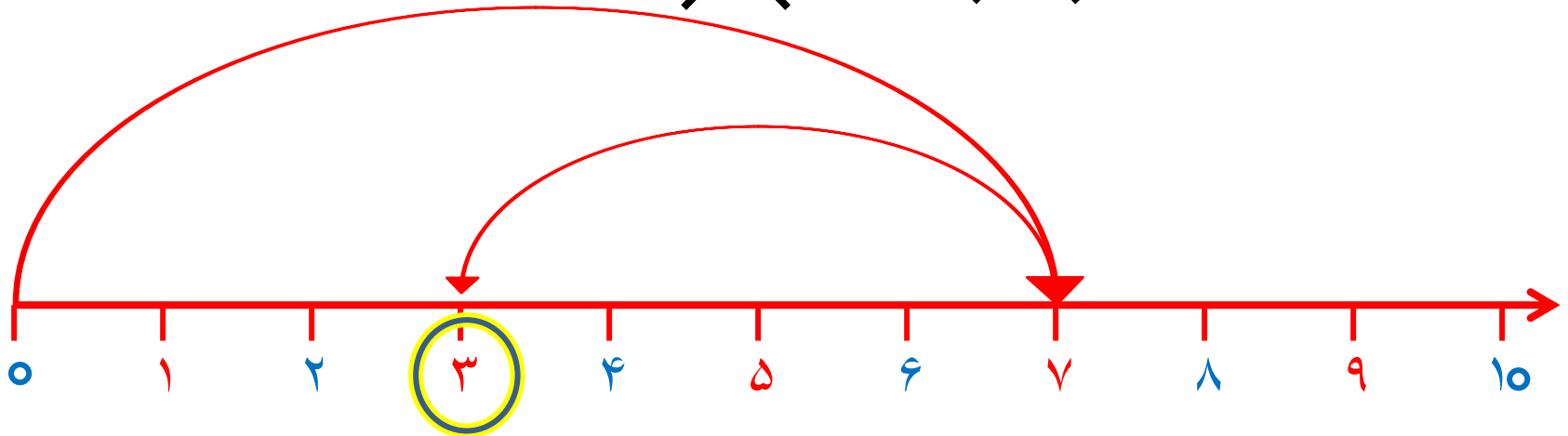
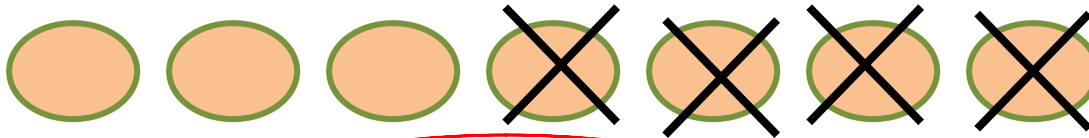


۷ تا شمع روشن بود.

زهرا ۴ تا از شمع ها را خاموش کرد

چند تا شمع روشن مانده است؟

تا شمع روشن مانده است .



۱۰ تا جوجه داریم .

۳ تا از جوجه ها سیاه هستند .

چند تا جوجه سیاه نیستند ؟ تا جوجه سیاه نیستند .



۱۰ تا جوجه داریم .

۳ تا از جوجه ها سیاه هستند .

چند تا جوجه سیاه نیستند ؟ تا جوجه سیاه نیستند .

