

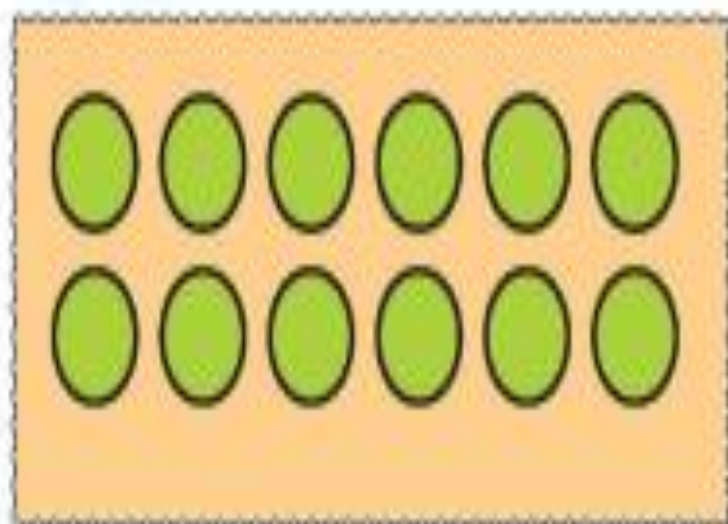
گردآورنده :

کتاب کار ریاضی علوی
صفحات ۱۴۷ تا ۱۵۱



۱. شکل زیر را به دسته‌های ۱۰ تایی تقسیم کن و با چوب‌خط و عدد نشان بده و در جدول بنویس.

نمایش با چوب‌خط



ده تایی	یکی
---------	-----

به عدد:

۲. جاهای خالی را با عددهای مناسب پر کن.

۱۱ - - - - ۱۵ - - - - ۱۹

۱. شکل زیر را به دسته‌های ۱۰ تایی تقسیم کن و با چوب‌خط و عدد نشان بده و در جدول بنویس.

نمایش با چوب‌خط

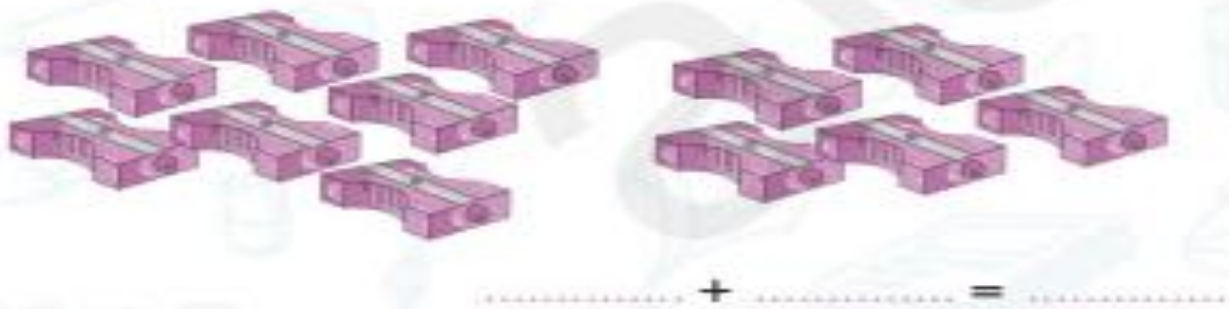
ده تایی	یکی
۱	۲

به عدد: ۱۲

۲. جاهای خالی را با عددهای مناسب پر کن.

۱۱ - ۱۲ - ۱۳ - ۱۴ - ۱۵ - ۱۶ - ۱۷ - ۱۸ - ۱۹

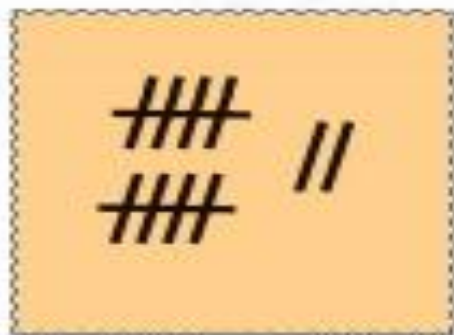
۳. برای شکل‌های زیر عبارت جمع بنویس و حاصل آن را حساب کن.



۴. برای هر عدد چوب‌خط بکش برای چوب‌خط‌های کشیده شده عدد مناسب بنویس.



.....



.....

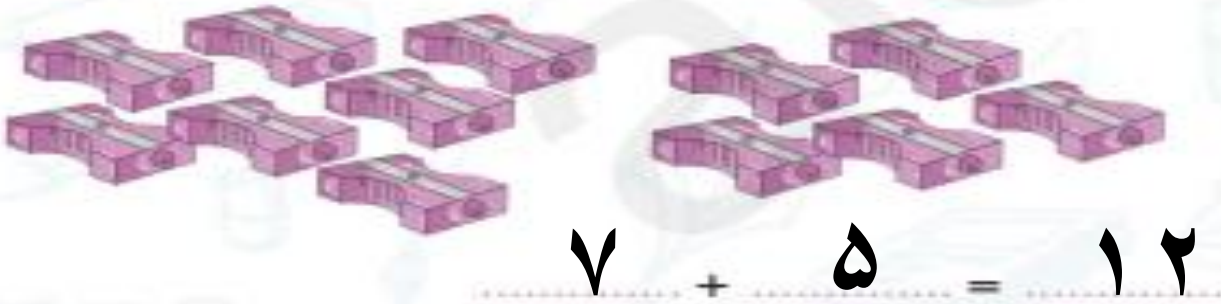



۱۰



۱۶

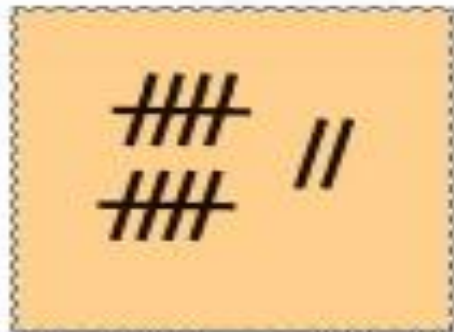
۳. برای شکل‌های زیر عبارت جمع بنویس و حاصل آن را حساب کن.



۴. برای هر عدد چوب‌خط بکش برای چوب‌خط‌های کشیده شده عدد مناسب بنویس.




۱۵



۱۲



۱۰



۱۶

۵. اندازه‌ی چاقو از کوتاه‌تر است.



اندازه‌ی قاشق از کوتاه‌تر است.



۶. قرینه شکل زیر را کامل کن.



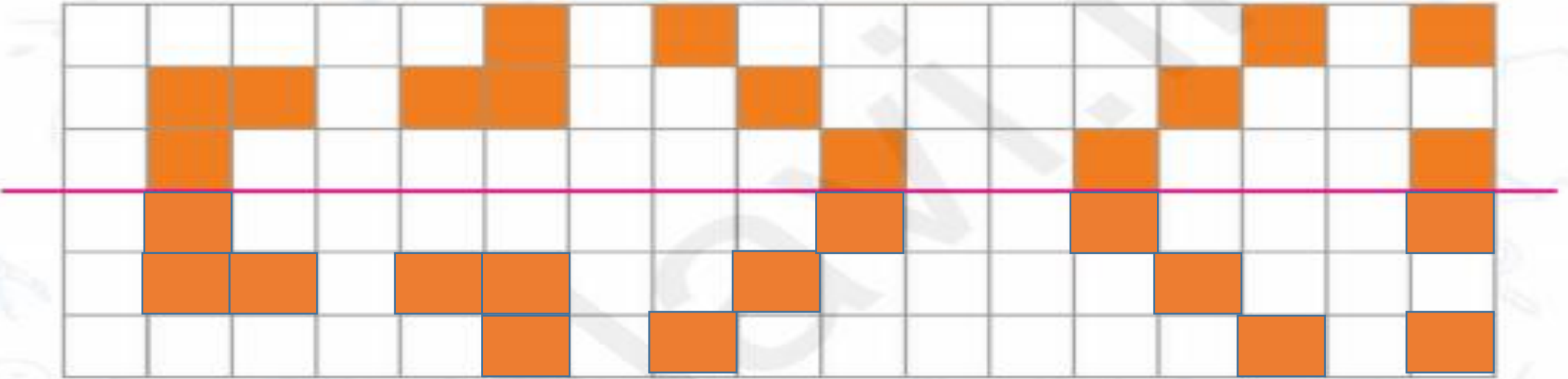
۵. اندازه‌ی چاقو از ۹ کوتاه‌تر است.



اندازه‌ی قاشق از ۷ کوتاه‌تر است.



۶. قرینه شکل زیر را کامل کن.




روی تقویم زیر اعدادی که خوانده‌ای و می‌توانی بنویسی را رنگ بزن.



۱۴۹

درنا یک ساعت و یک خطکش به پرنای داد و گفت: حالا که می‌توانی شمارهای روی این‌ها را بخوانی و بنویسی، اعداد روی خطکش و ساعت را کامل کن.



روی تقویم زیر اعدادی که خوانده‌ای و می‌توانی بنویسی را رنگ بزن.

همه اعداد خوانده شده



۱۳۹

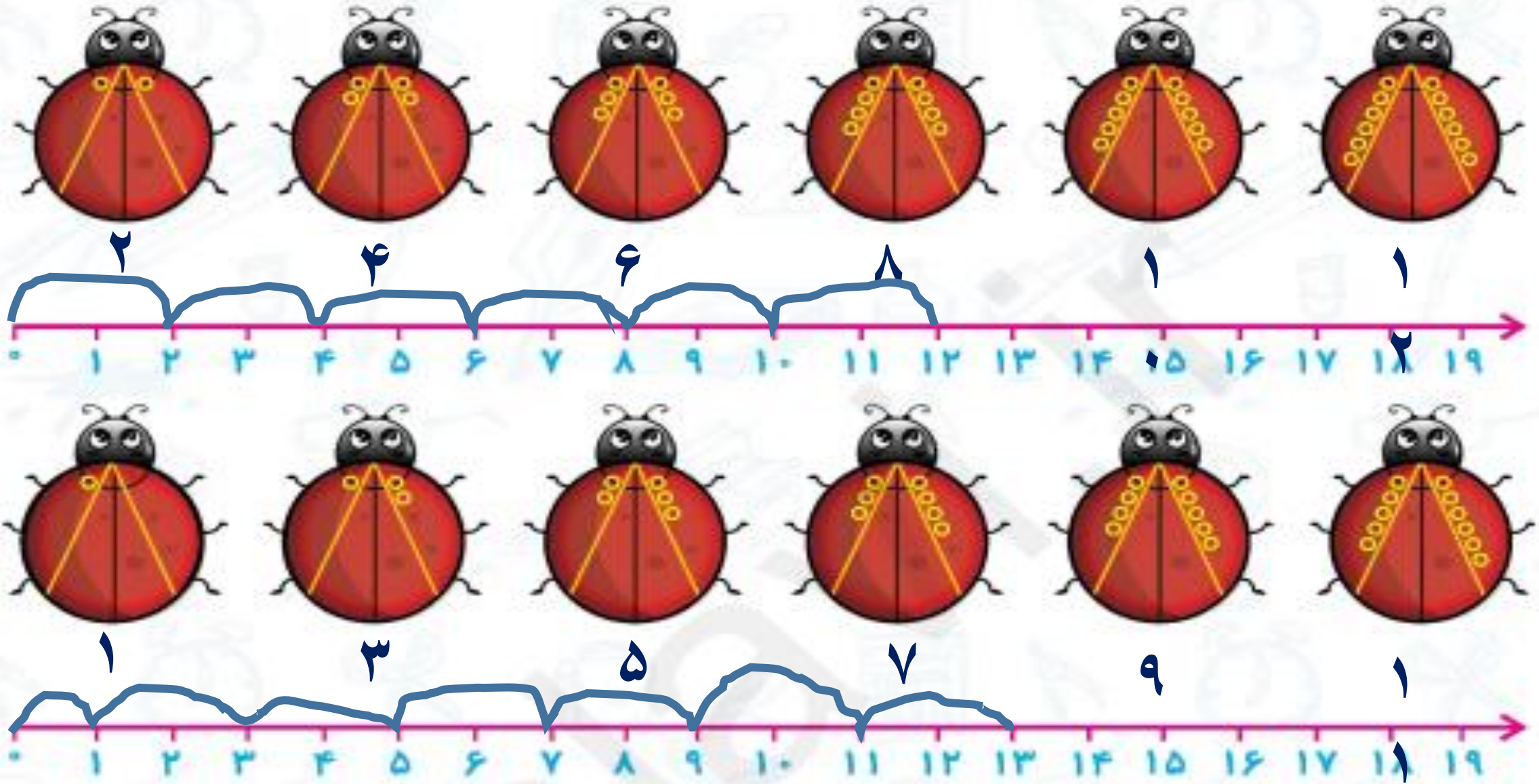
در نوا یک ساعت و یک خط‌کش به پرتا داد و گفت: حالا که می‌توانی شمارهای روی این‌ها را بخوانی و بنویسی، اعداد روی خط‌کش و ساعت را کامل کن.



۱. درنا چند کفشدوزک کشید و روی بال‌های آن‌ها خال گذاشت. از سمت چپ به سمت راست تعداد خال‌ها را بشمار و روی بدن کفشدوزک بنویس، سپس به ترتیب روی محور داده شده اعداد را نشان بده.



۱. درنا چند کفشدوزک کشید و روی بال‌های آن‌ها خال گذاشت. از سمت چپ به سمت راست تعداد خال‌ها را بشمار و روی بدن کفشدوزک بنویس، سپس به ترتیب روی محور داده شده اعداد را نشان بده.



۲. اندازه‌ی اسباب‌بازی‌های زیر را با توجه به خط‌چین‌ها به وسیله‌ی خط‌کش اندازه بگیر و بنویس.



بلندی راکت بدمینتون بین و است.

بلندی عروسک بین و است.

اندازه‌ی توپ بدمینتون تقریباً است.



دانش‌آموز بتواند توانایی شمردن ۲ تا ۲ را به دست آورد و آمادگی لازم برای مفهوم عددهای زوج و فرد را به دست آورد.



امروز کارت عالی بود
باعث خوشحالی بود

