



کتاب کار ریاضی علوی ۱۵۹ تا ۱۶۲



۱. درنا چند کفشدوزک کشید و روی بال‌های آن‌ها خال گذاشت. از سمت چپ به سمت راست تعداد خال‌ها را بشمار و روی بدن کفشدوزک بنویس، سپس به ترتیب روی محور داده شده اعداد را نشان بده.



۱. درنا چند کفشدوزک کشید و روی بال‌های آن‌ها خال گذاشت. از سمت چپ به سمت راست تعداد خال‌ها را بشمار و روی بدن کفشدوزک بنویس، سپس به ترتیب روی محور داده شده اعداد را نشان بده.



۲. اندازه‌ی اسباب‌بازی‌های زیر را با توجه به خط‌چین‌ها به وسیله‌ی خط‌کش اندازه بگیر و بنویس.



بلندی راکت بدمینتون بین و است.

بلندی عروسک بین و است.

اندازه‌ی توپ بدمینتون تقریباً است.



دانش‌آموز بتواند توانایی شمردن ۲ تا ۲ را به‌دست آورد و آمادگی لازم برای مفهوم عددهای زوج و فرد را به‌دست آورد.



۳. درنا تعدادی چوب‌خط کشید و به برنا گفت: هر چوب‌خط چه عددی را نشان می‌دهد؟

برای چوب‌خط‌های زیر عبارت جمع بنویس.



.....

+

.....

=

.....



.....

+

.....

=

.....



.....

+










.....

=

.....

۳. درنا تعدادی چوب‌خط کشید و به برنا گفت: هر چوب‌خط چه عددی را نشان می‌دهد؟

برای چوب‌خط‌های زیر عبارت جمع بنویس.

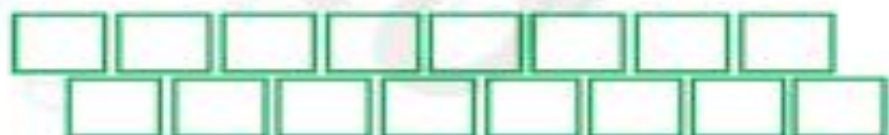
| | | | | |
|---|---|---|---|--|
|  ۶ | + |  ۴ | = |  ۱۰ |
|  ۵ | + |  ۶ | = |  ۱۱ |
|  ۴ | + |  ۸ | = |  ۱۲ |

۴. شکل‌های زیر را با دو رنگ مختلف رنگ کن و حاصل جمع را بنویس.

۱۶۱



$۸ + ۷ = \dots\dots\dots$



$۹ + ۷ = \dots\dots\dots$



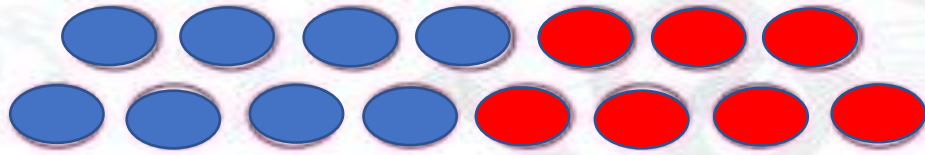
$۵ + ۷ = \dots\dots\dots$

دانش‌آموز بتواند از نوشتن جایگزینی خوب‌خط و شکل به جای انگشتان دست از جمع استفاده کند.

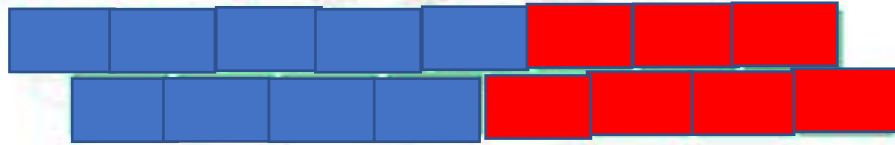


۴. شکل‌های زیر را با دو رنگ مختلف رنگ کن و حاصل جمع را بنویس.

۱۶۱



$۸ + ۷ = \dots\dots\dots$



$۹ + ۷ = \dots\dots\dots$



$۵ + ۷ = \dots\dots\dots$

۱
۵
۱
۶
۱
۲

دانش‌آموز بتواند از نوشتن جایگزینی خوب خط و شکل به جای انگشتان دست از جمع استفاده کند.




۵. درنا تعدادی کیک گرد برداشت و هر کدام را ۴ برش زد و کیک‌ها را کنار هم چید.

تعداد برش کیک‌ها را، زیر هر کدام بنویس.

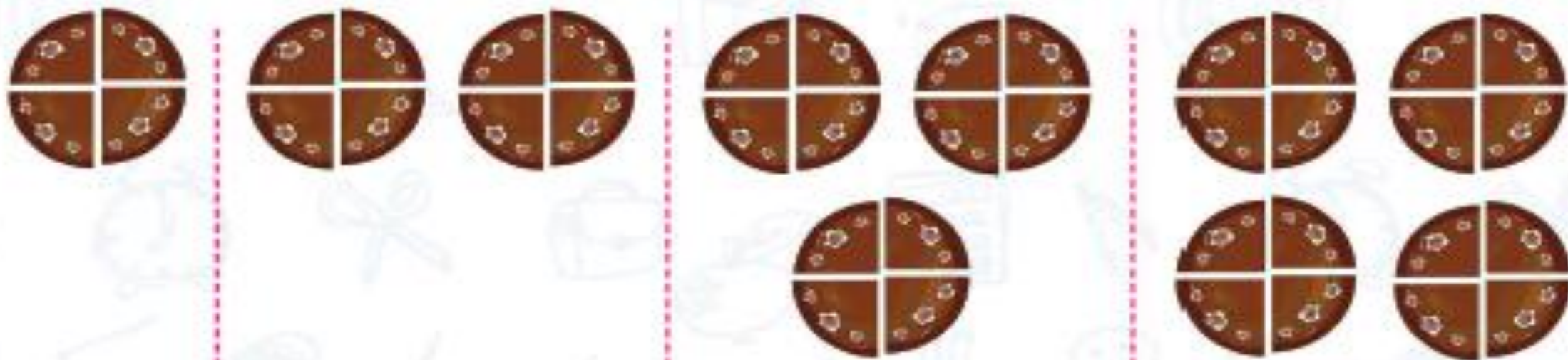


حالا به ترتیب روی محور زیر، اعداد را نشان بده.



۵. درنا تعدادی کیک گرد برداشت و هر کدام را ۴ برش زد و کیک‌ها را کنار هم چید.

تعداد برش کیک‌ها را، زیر هر کدام بنویس.



۴

۸


۱

۲

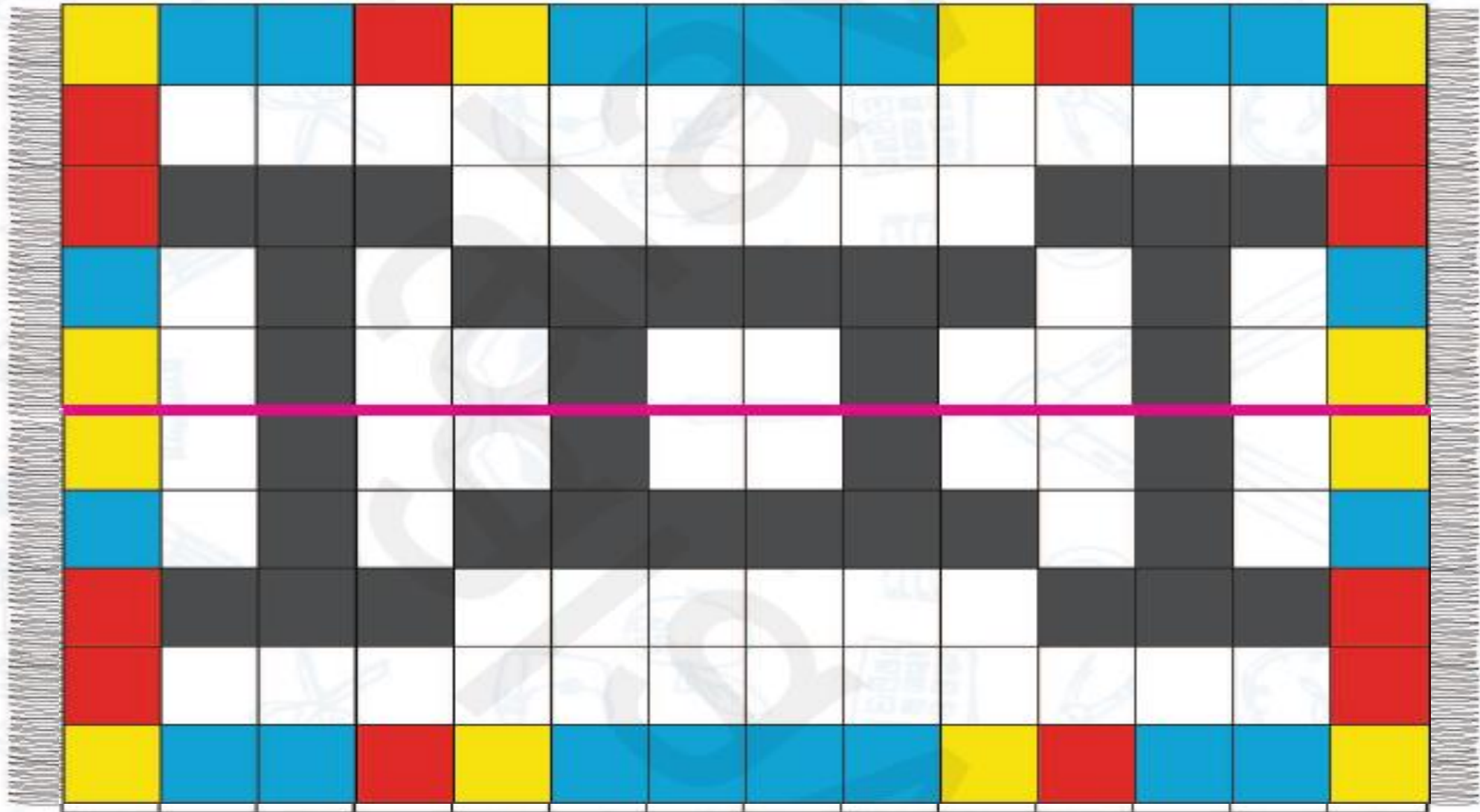
۱

۶

حالا به ترتیب روی محور زیر، اعداد را نشان بده.



۶. نیمه‌ی دیگر فرش را مثل خودش رنگ کن.



تعماد