



کتاب کار ریاضی علوی
صفحه ۱۶۴ تا ۱۶۸

۱۰. در هر ردیف نوشتن اعداد را ادامه بده.

۱ - ۲ - ۳ - - ۸ - ۹ - ۱۰

۰ - ۲ - ۴ - - ۱۲

۱ - ۳ - - ۱۱

۰ - ۴ - - ۲۰

۰ - ۳ - - ۱۵

۱۰. در هر ردیف نوشتن اعداد را ادامه بده.

۱-۲-۳-۴-۵-۶-۷-۸-۹-۱۰

۰-۲-۴-۶-۸-۱۰-۱۲

۱-۳-۵-۷-۹-۱۱

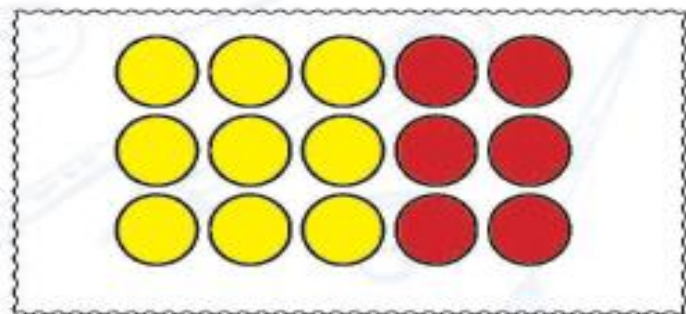
۰-۴-۸-۱۲-۱۶-۲۰

۰-۴-۸-۱۲-۱۶-۲۰

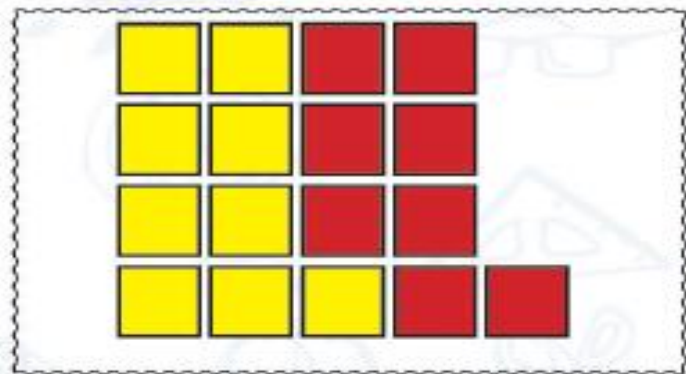
۱۱. با توجه به هر شکل برای آن عبارت جمع بنویس.



$$\dots + \dots = \dots$$



$$\dots + \dots = \dots$$

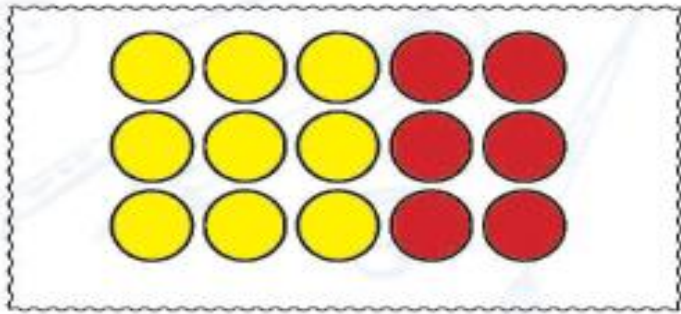


$$\dots + \dots = \dots$$

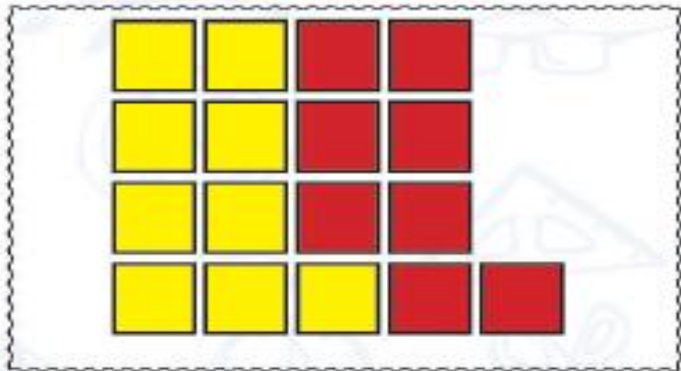
۱۱. با توجه به هر شکل برای آن عبارت جمع بنویس.



$$6 + 5 = 11$$

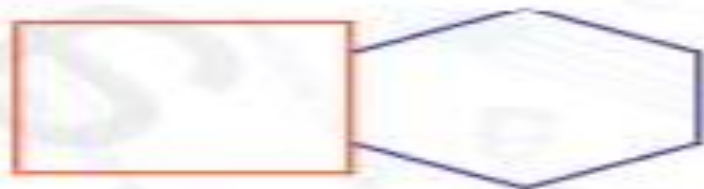
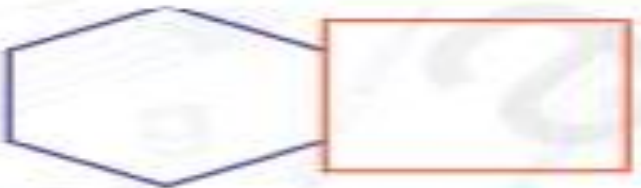
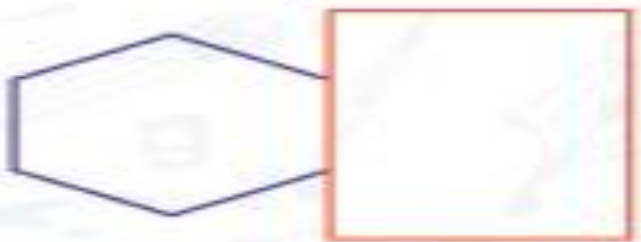


$$9 + 6 = 15$$



$$9 + 8 = 17$$


۱۳. از شابلون استفاده کن و شکل‌هایی مانند شکل‌های سمت چپ خط‌کش در سمت راست بکشی.



۱. در جاهای خالی عدد مناسب بنویس.



۲. حاصل جمع‌ها را با چوب‌خط پیدا کن و عبارت جمع را بنویس.



۱. در جاهای خالی عدد مناسب بنویس.



۱




۳



۵

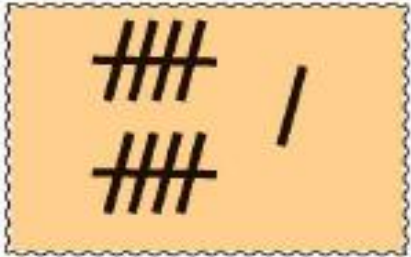


۷

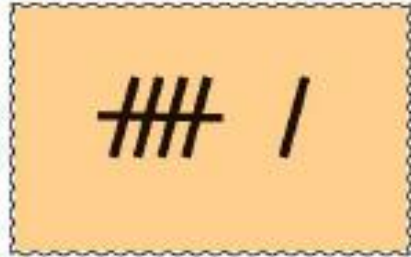


۹

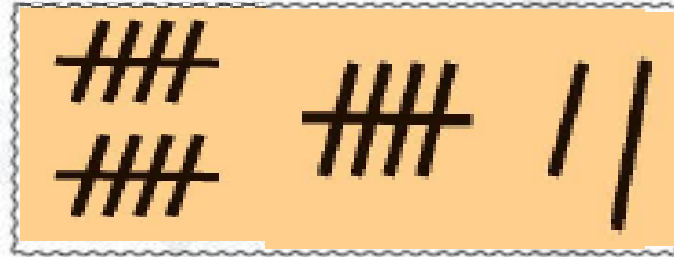
۲. حاصل جمع‌ها را با چوب‌خط پیدا کن و عبارت جمع را بنویس.



۱۱



۴



۱۷

+


=



۴



۶



۱۵

+

=

۳. به الگوی شمارش توجه کن و در هر ردیف ۳ عدد بعد را بنویس.

$$0 - 2 - 4 - \dots - \dots - \dots$$

$+2 \quad +2$

$$0 - 4 - 8 - \dots - \dots - \dots$$

$+4 \quad +4$

۴. با استفاده از ۲ رنگ جمع‌ها را پیدا کن.



$$9 + 8 =$$




$$5 + 10 =$$

۳. به الگوی شمارش توجه کن و در هر ردیف ۳ عدد بعد را بنویس.


۰ - ۲ - ۴ - ۶ - ۸ - ۱۰

۰ - ۴ - ۸ - ۱۲ - ۱۶ - ۲۰

۴. با استفاده از ۲ رنگ جواب جمع‌ها را پیدا کن.

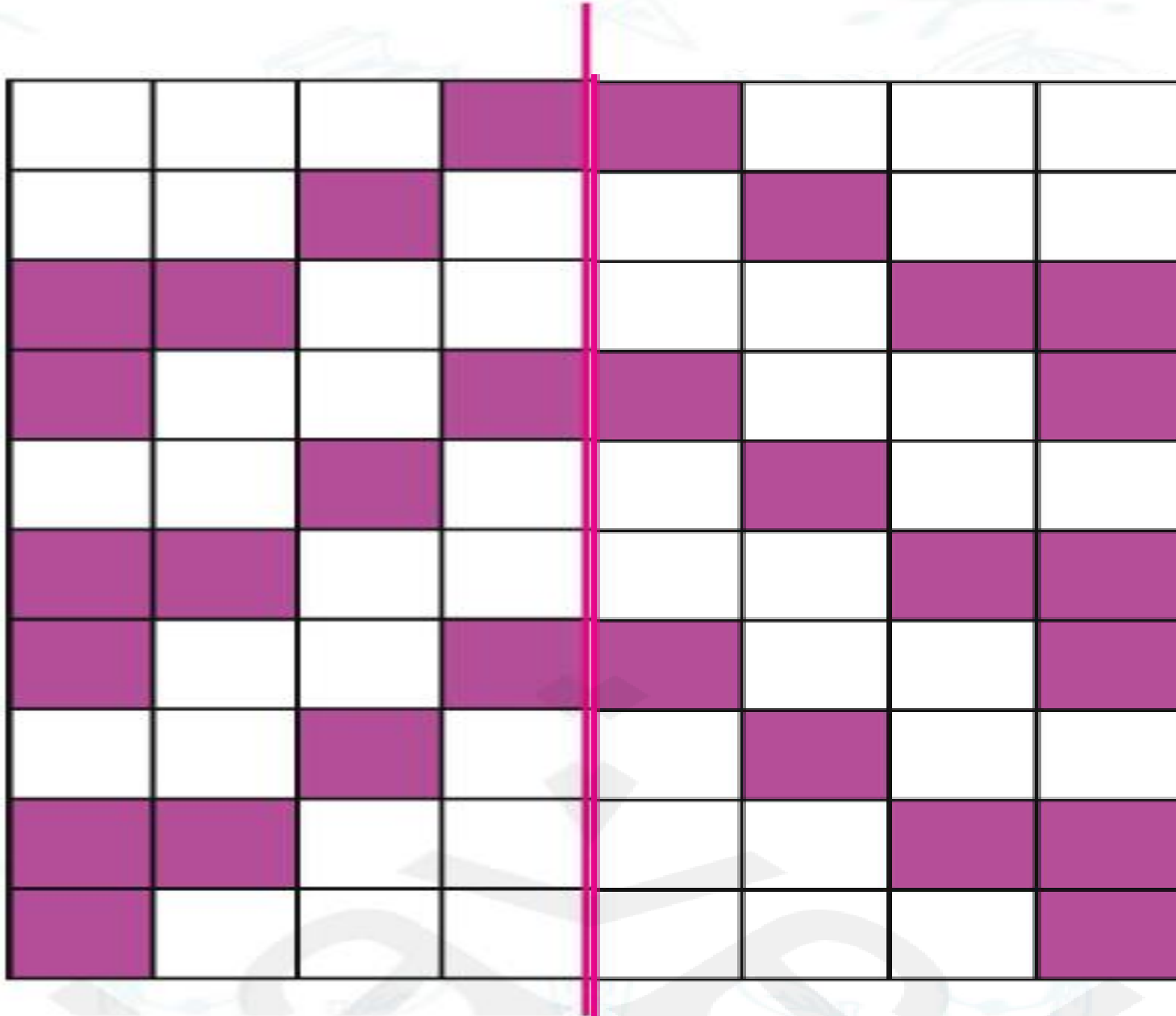


$$9 + 8 = 17$$



$$5 + 10 = 15$$

۵. نیمه‌ی دیگر شکل زیر را بکش.





خرگوش کوچولو می‌خواهد از رودخانه رد بشود تا به مزرعه هویج‌ها برسد. او باید از روی برگ‌ها بپرد، اما در زیر بعضی از برگ‌ها تمساح خوابیده است. لاک‌پشت به او گفت برای این که بتوانی به آن طرف رودخانه برسی باید ۳ تا ۳ تا پشماری و از روی برگ‌ها رد بشوی. برگ‌هایی که او باید رد بشود تا به آن طرف برسد را برای او رسم کن.



شما بهترین هستید

