

علوی

مدارس هزاره سوم

کتابخانه



مددها را با توجه به الگو ادامه بده.  
 ماتند نمونه، زمانی را بنویس که ساعت نشان می دهد.



۴-۶-۸-.....-.....-.....-.....-.....

↪ ↪ ↪

✓

۲۵-۳۰-۳۵-.....-.....-.....-.....-.....

↪ ↪ ↪





۱





۱



۲



۳



۴



۵




۶



زمان بین

ساعت ..... و


است.



زمان بین

ساعت ..... و

است.



زمان بین

ساعت ..... و

است.



زمان بین

ساعت ۱۱ و ۱۲

است.



زمان بین

ساعت ۸ و ۹

است.



زمان بین

ساعت ۴ و ۵

است.

در هر قسمت، مشخص کن که کدام کار بیشتر طول می کشد. با X مشخص کن.



علوی

مدارس هزاره سوم






بچه در هر قسمت، مشخص کن که کدام کار بیشتر طول می کشد. با  مشخص کن.



علوی

مدارس هزاره سوم





خسته نباشید