



کتاب کار ریاضی علوی

صفحه ۱۸۱ تا ۱۸۳

۳. جدول زیر را کامل کن.

۱۰	۲۰	۳۰							
----	----	----	--	--	--	--	--	--	--

۱۴	۲۴	۳۴							
----	----	----	--	--	--	--	--	--	--

۱۶	۲۶	۳۶							
----	----	----	--	--	--	--	--	--	--

۱۹	۲۹	۳۹							
----	----	----	--	--	--	--	--	--	--

۱۵	۲۵	۳۵							
----	----	----	--	--	--	--	--	--	--

۳. جدول زیر را کامل کن.

۱۰	۲۰	۳۰	۴۰	۵۰	۶۰	۷۰	۸۰	۹۰	۱۰۰
----	----	----	----	----	----	----	----	----	-----

۱۴	۲۴	۳۴	۴۴	۵۴	۶۴	۷۴	۸۴	۹۴	۱۰۴
----	----	----	----	----	----	----	----	----	-----

۱۶	۲۶	۳۶	۴۶	۵۶	۶۶	۷۶	۸۶	۹۶	۱۰۶
----	----	----	----	----	----	----	----	----	-----

۱۹	۲۹	۳۹	۴۹	۵۹	۶۹	۷۹	۸۹	۹۹	۱۰۹
----	----	----	----	----	----	----	----	----	-----

۱۵	۲۵	۳۵	۴۵	۵۵	۶۵	۷۵	۸۵	۹۵	۱۰۵
----	----	----	----	----	----	----	----	----	-----

۴. تعداد هر دسته را بنویس. هر دسته چند تا از دسته‌ی دیگر بیشتر است؟



.....

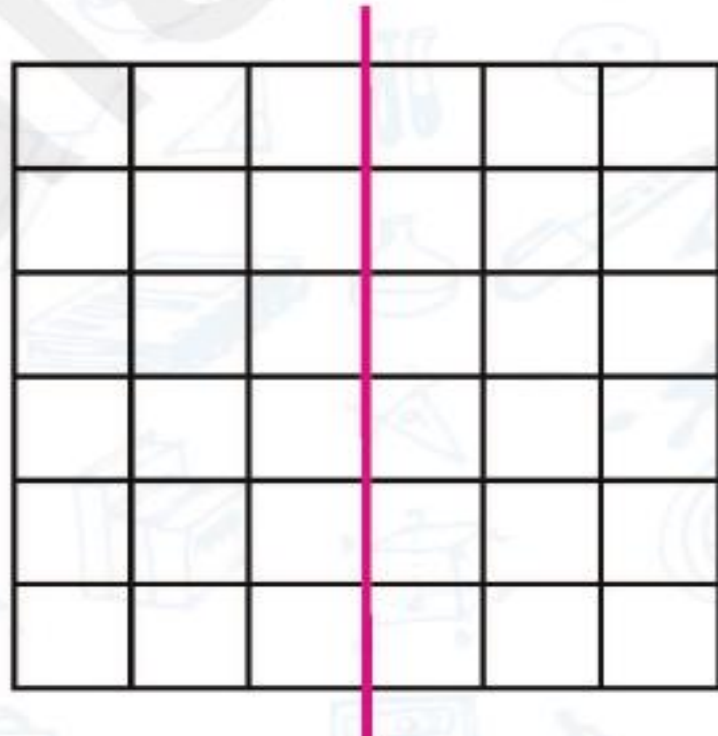


.....



.....

۵. در سمت چپ یک شکل با ۵ خانه بکش و آن را در سمت راست تکرار کن.



۴. تعداد هر دسته را بنویس. هر دسته چند تا از دسته‌ی دیگر بیشتر است؟



۵

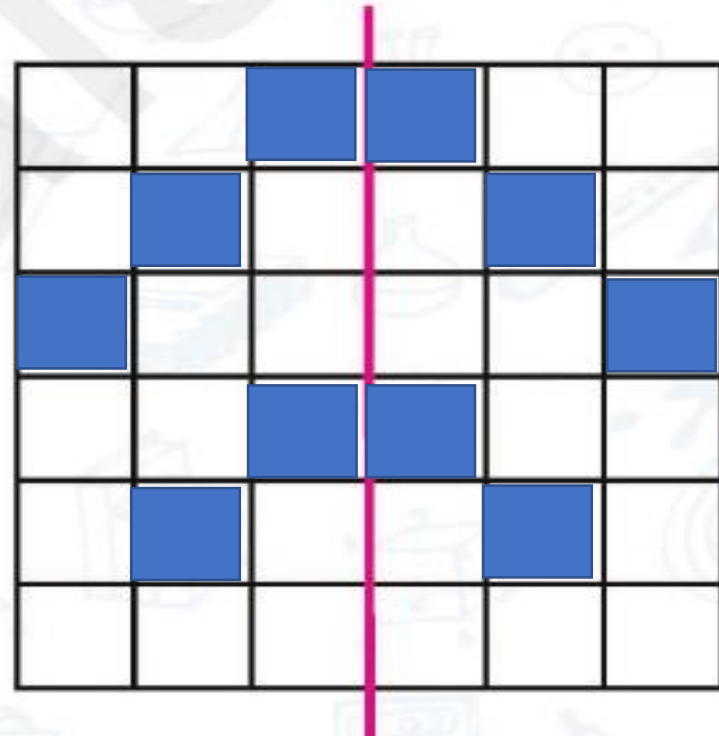


۱۰

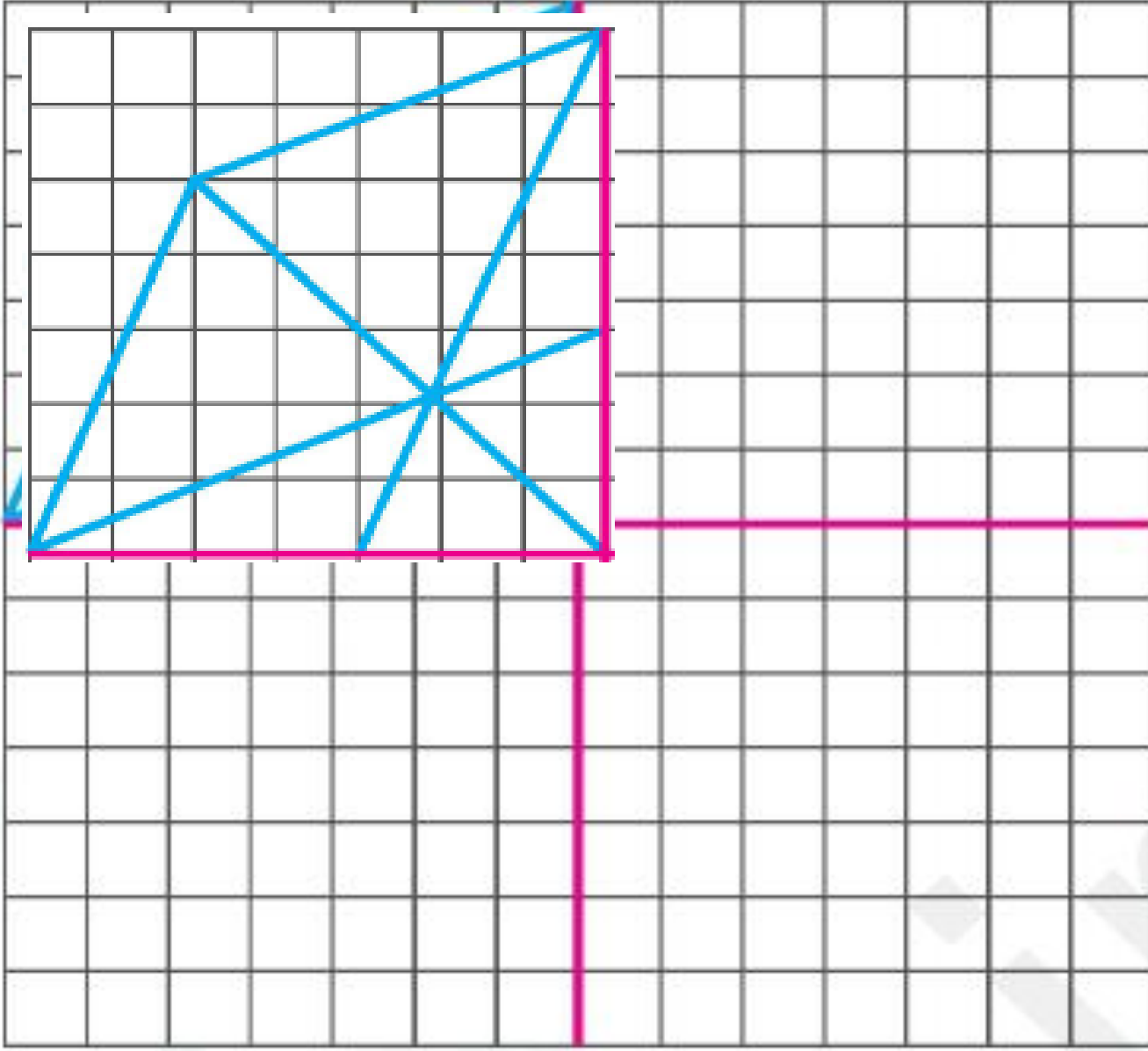


۱۵

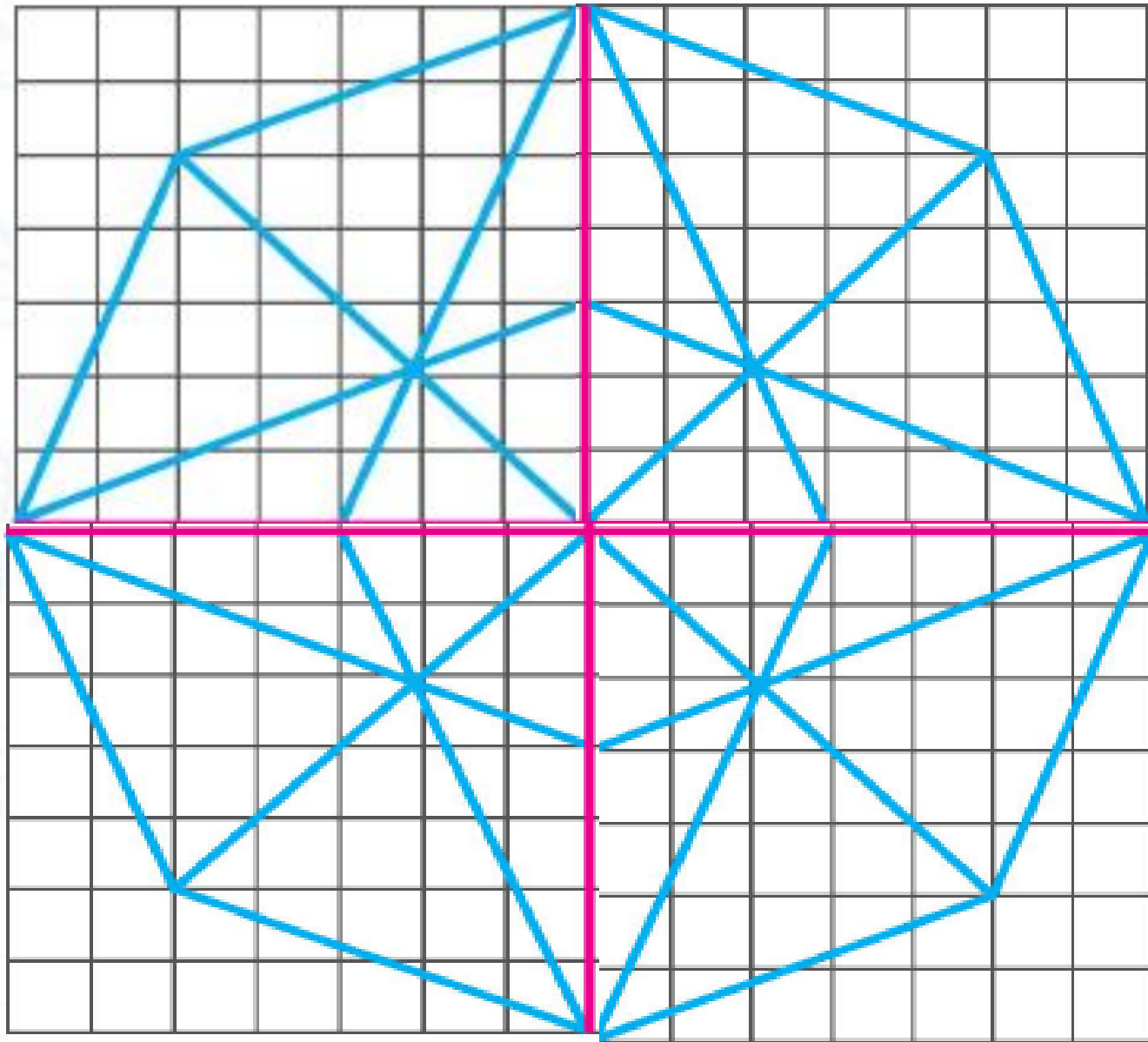
۵. در سمت چپ یک شکل با ۵ خانه بکش و آن را در سمت راست تکرار کن.



۶. قسمت‌های دیگر شکل زیر را مانند نمونه کامل کن.



۶. قسمت‌های دیگر شکل زیر را مانند نمونه کامل کن.



۷. درنا گفت: تا به حال مراحل رشد پروانه را دیده‌ای؟ ترتیب شکل‌ها را مشخص کن.



۸. درنا به برنا گفت: اگر شمارش ۱۰ تایی و ۵ تایی را خوب یاد بگیری به راحتی می‌توانی شمارش‌ها را ذهنی انجام دهی و دیگر نیازی نیست از انگشتان دست کمک بگیری.

تمرینات زیر را ذهنی انجام بده.

$$۱۰ + ۱۰ + ۵ =$$

$$۱۰ + ۱۰ - ۱۰ =$$

$$۵ - ۵ + ۵ =$$

$$۵ + ۱۰ + ۱۰ =$$

$$۵ + ۱۰ - ۵ =$$

$$۵ + ۵ + ۵ =$$

۷. درنا گفت: تا به حال مراحل رشد پروانه را دیده‌ای؟ ترتیب شکل‌ها را مشخص کن.



۳



۲



۱



۴

۸. درنا به برنا گفت: اگر شمارش ۱۰ تایی و ۵ تایی را خوب یاد بگیری به راحتی می‌توانی شمارش‌ها را ذهنی انجام دهی و دیگر نیازی نیست از انگشتان دست کمک بگیری.

تمرینات زیر را ذهنی انجام بده.

$$۱۰ + ۱۰ + ۵ = ۲۵$$

$$۱۰ + ۱۰ - ۱۰ = ۱۰$$

$$۵ - ۵ + ۵ = ۵$$

$$۵ + ۱۰ + ۱۰ = ۲۵$$

$$۵ + ۱۰ - ۵ = ۱۰$$

$$۵ + ۵ + ۵ = ۱۵$$

۹. هر مسئله را با دقت بخوان و برای آن شکل ساده بکش و پاسخ سؤال را بنویس.

الف) درنا و برنا تعدادی نی را دسته‌بندی کردند تا با هم بازی کنند درنا ۴ بسته‌ی ۱۰ تایی و برنا ۲ بسته‌ی ۵ تایی درست کرد. آن‌ها روی هم چند نی داشتند؟

ب) در مدرسه‌ی درنا در هر طبقه ۱۰ کلاس وجود دارد. مدرسه‌ی آن‌ها ۵ طبقه است. مدرسه‌ی درنا چند کلاس دارد؟


پ) برنا برای دوستانش شکلات بسته‌ای خرید. داخل هر بسته ۵ شکلات قرار دارد. او به هر کدام از ۶ دوستش ۱ بسته شکلات داد. دوستانش روی هم چند دانه شکلات دارند؟

۹. هر مسئله را با دقت بخوان و برای آن شکل ساده بکش و پاسخ سؤال را بنویس.

الف) درنا و برنا تعدادی نی را دسته‌بندی کردند تا با هم بازی کنند درنا ۴ بسته‌ی ۱۰ تایی و برنا ۲ بسته‌ی ۵ تایی

درست کرد. آن‌ها روی هم چند نی داشتند؟ **۵۰ نی دارند.**

$$40 + 10 = 50$$



ب) در مدرسه‌ی درنا در هر طبقه ۱۰ کلاس وجود دارد. مدرسه‌ی آن‌ها ۵ طبقه است. مدرسه‌ی درنا چند کلاس دارد؟



$$10 + 10 + 10 + 10 + 10 = 50$$

۵۰ کلاس دارد.

پ) برنا برای دوستانش شکلات بسته‌ای خرید. داخل هر بسته ۵ شکلات قرار دارد. او به هر کدام از ۶ دوستش ۱

$$5 + 5 + 5 + 5 + 5 + 5 = 30$$

بسته شکلات داد. دوستانش روی هم چند دانه شکلات دارند؟

۳۰ شکلات دارند.

ت) مادر گل‌هایی که درنا و برنا برای او خریده بودند را در گلدان قرار داد. او در هر گلدان ۱ شاخه گل می‌گذارد.

۳ گلدان خانه پر شدند و ۴ شاخه هم روی میز ماند گل‌های درنا و برنا چند تا بودند؟

ث) پدر درنا و برنا ۳ بسته ۱۰ تایی لامپ خرید و ۴ عدد لامپ هم برنا برای خانه خرید - آنها چند عدد لامپ در خانه دارند؟

ت) مادر گل‌هایی که درنا و برنا برای او خریده بودند را در گلدان قرار داد. او در هر گلدان ۱۰ شاخه گل می‌گذارد.

۳ گلدان خانه پر شدند و ۴ شاخه هم روی میز ماند گل‌های درنا و برنا چند تا بودند؟

$$10 + 10 + 10 = 30$$

$$30 + 4 = 34$$

۳۴ شاخه گل بود.

ث) پدر درنا و برنا ۳ بسته ۱۰ تایی لامپ خرید و ۴ عدد لامپ هم برنا برای خانه خرید - آنها چند عدد لامپ در خانه دارند؟

$$30 + 4 = 34$$

۳۴ لامپ دارد.



موفق باشيد