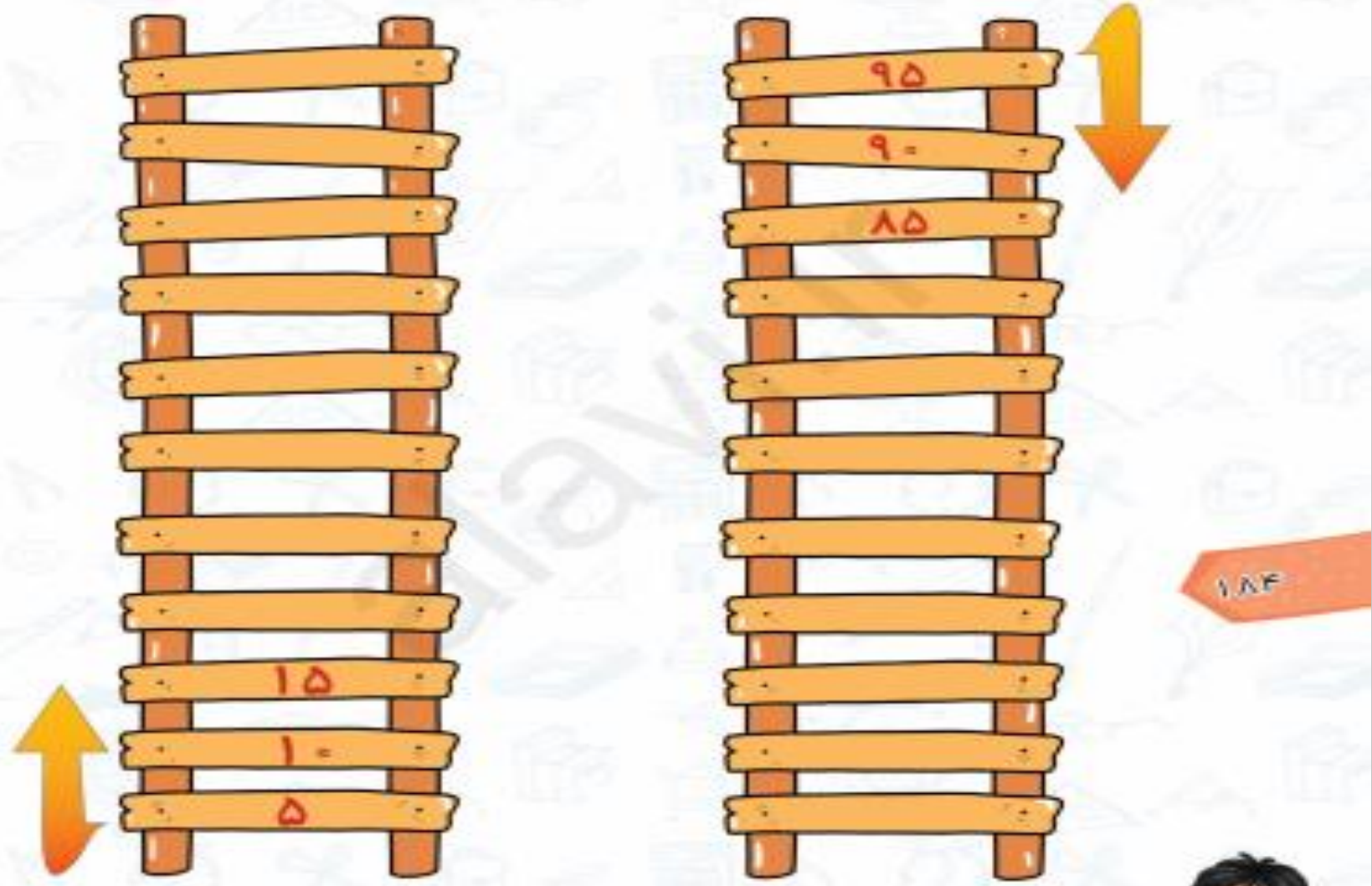


ڪتاب ڪار رياضی علوی صفحہ 184 تا 187



۱۰. درنا یک نردبان درست کرد و روی پله‌های آن اعدادی را نوشت. اگر اعداد را درست بنویسی نردبان کامل می‌شود. ولی اگر اشتباه بنویسی نمی‌توانی از نردبان بالا یا پایین بروی. پس با دقت جاهای خالی را کامل کن.



۱۸۴



۱۰. درنا یک نردبان درست کرد و روی پله‌های آن اعدادی را نوشت. اگر اعداد را درست بنویسی نردبان کامل می‌شود. ولی اگر اشتباه بنویسی نمی‌توانی از نردبان بالا یا پایین بروی. پس با دقت جاهای خالی را کامل کن.

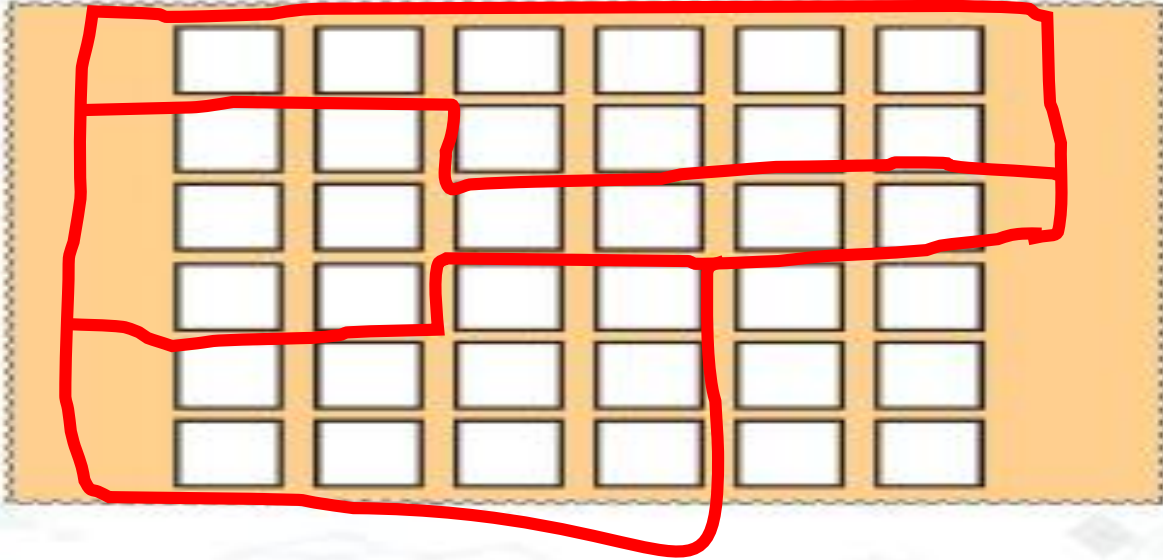
The image shows two ladders with numbers on the rungs. The left ladder has numbers 55, 50, 45, 40, 35, 30, 25, 20, 15, 10, 5. The right ladder has numbers 95, 90, 85, 80, 75, 70, 65, 60, 55, 50, 45. Arrows indicate the direction of movement.

Ladder	Rung	Number
Left Ladder	1	55
	2	50
	3	45
	4	40
	5	35
	6	30
	7	25
	8	20
	9	15
	10	10
	11	5
Right Ladder	1	95
	2	90
	3	85
	4	80
	5	75
	6	70
	7	65
	8	60
	9	55
	10	50
	11	45






۱. دسته‌های ده‌تایی درست کن سپس جدول را کامل و عدد مربوط را بنویس.



ده‌تایی	یکی
۳	۶

۳۶



ده‌تایی	یکی
۵	۵


۵۵

۲. الگوهای شمارش را کامل کن.

۴۵-۴۶- ۴۷- ۴۸- ۴۹- ۵۰- ۵۱- ۵۲

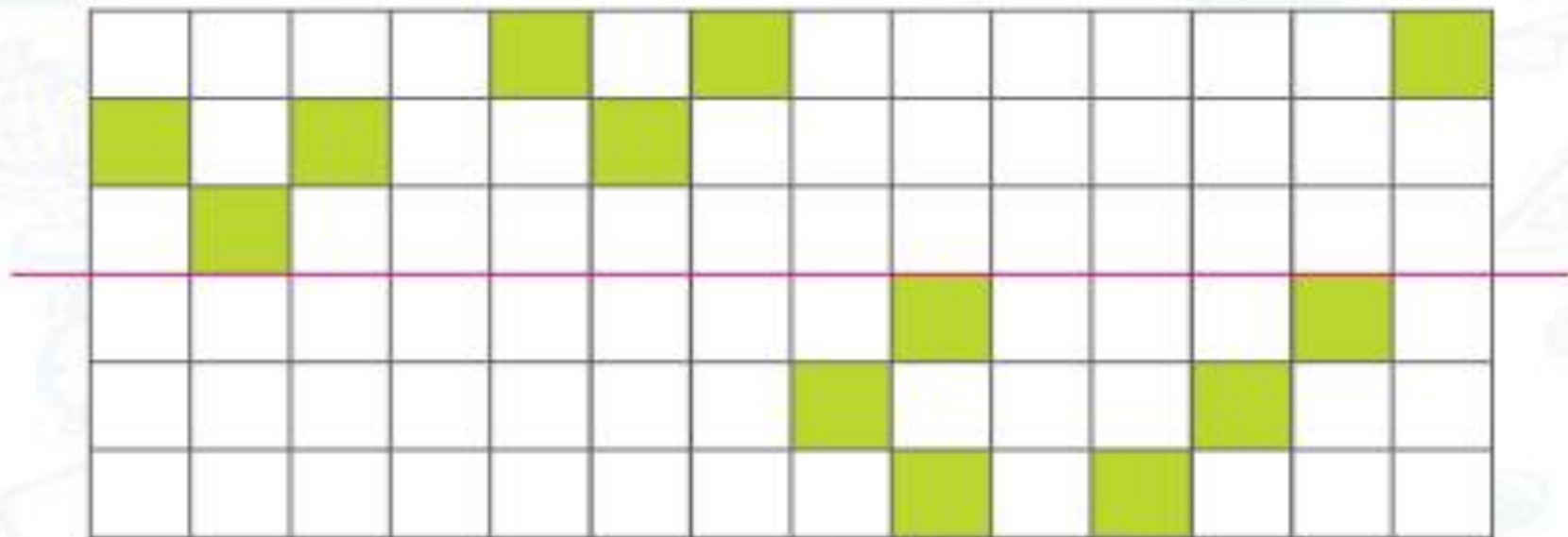
۱۳-۲۳-۳۳- ۴۳- ۵۳- ۶۳- ۷۳- ۸۳- ۹۳

۵-۱۰-۱۵- ۲۰- ۲۵- ۳۰- ۳۵- ۴۰- ۴۵





۳. قرینه‌ی هر شکل را رسم کن.



۴. جمع و تفریق‌های زیر را انجام بده.

$$۱۰ + ۲۰ + ۵ =$$

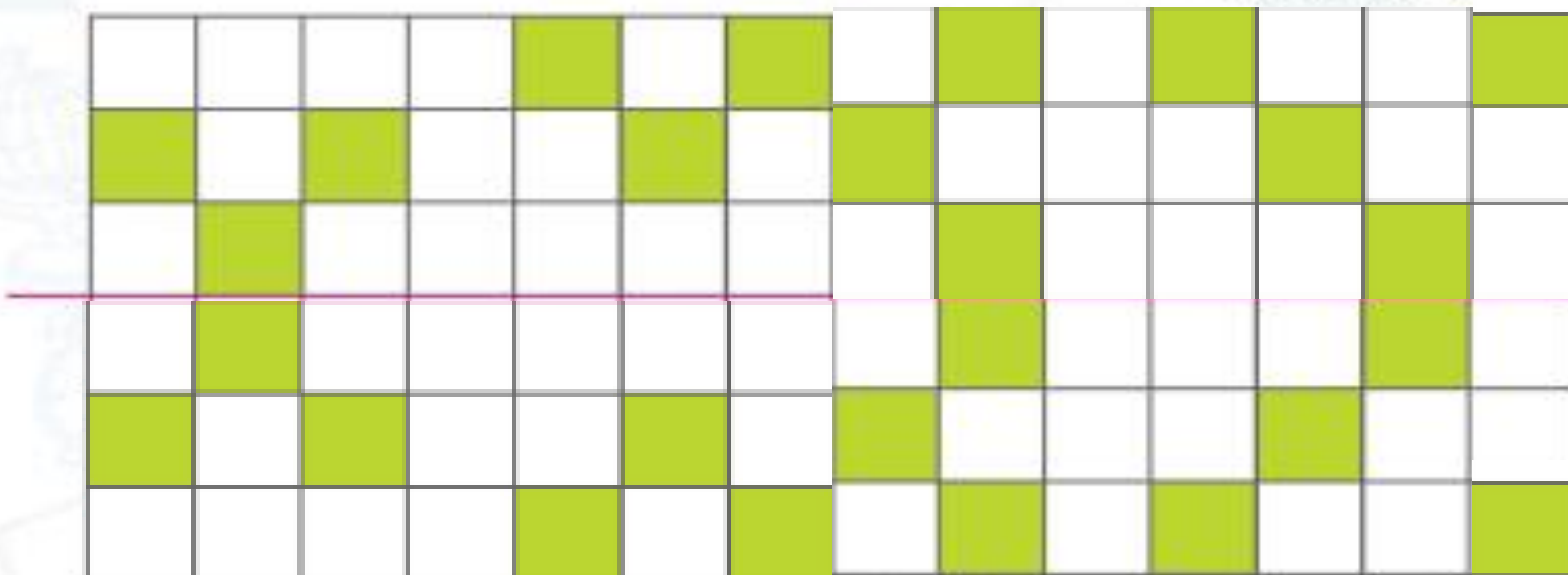
$$۲۰ + ۵ + ۵ - ۱۰ =$$

$$۱۰ + ۲۰ - ۱۰ =$$

$$۱۰ - ۵ + ۲۰ =$$



۳. قرینه‌ی هر شکل را رسم کن.



۴. جمع و تفریق‌های زیر را انجام بده.

$$10 + 20 + 5 = 35$$

$$10 + 20 - 10 = 20$$

$$20 + 5 \div 5 - 10 = 30$$

$$10 - 5 + 20 = 25$$

۵. مادر برای علی ۲ بسته شکلات ۱۰ تایی خرید و پدرش هم به او ۲ بسته‌ی ۱۰ تایی دیگر داد تا او برای دوستانش به مدرسه ببرد. او حالا چند شکلات به مدرسه می‌برد؟ (با رسم شکل)



۵. مادر برای علی ۲ بسته شکلات ۱۰ تایی خرید و پدرش هم به او ۲ بسته ۱۰ تایی دیگر داد تا او برای دوستانش به مدرسه ببرد. او حالا چند شکلات به مدرسه می‌برد؟ (با رسم شکل)

دو بسته ده تایی می‌شود ۲۰ تا

۱۸۶

۴۰ شکلات به مدرسه می‌برد

$$20 + 20 = 40$$





در یک جنگل مسابقه پرش انجام شد و خرگوش و کانگورو و قورباغه در این مسابقه شرکت کردند آنها باید مسیر ۰ تا ۲۰ را می‌پريدند. عدد پرش چند تایی کنار آنها بود؟ حالا بگو هر کدام بعد از چند پرش به مقصد می‌رسند مسیر هر کدام را روی محور مشخص کن.



۳



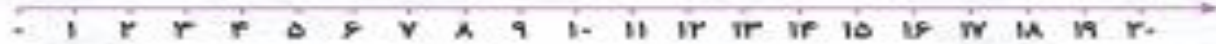
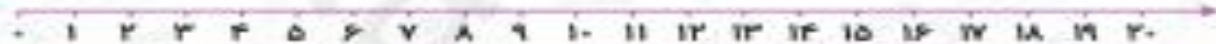
۲



۵



۱۸۷



موفق بائید