

تم ۲۲ کتاب ریاضی ۱۴۹ تا ۱۵۴

ریاضی اول دبستان

شمردن الگوهای ۲، ۵، ۶، ۷ و آشنایی با تقویم

تم ۲۲

Gama.ir



بشمار و بنویس: جاهای خالی را با عدد مناسب پر کن.

Two boxes containing tally marks, each crossed out with a red 'X'. Below them are two boxes with three tally marks each, and another two boxes with three tally marks each.

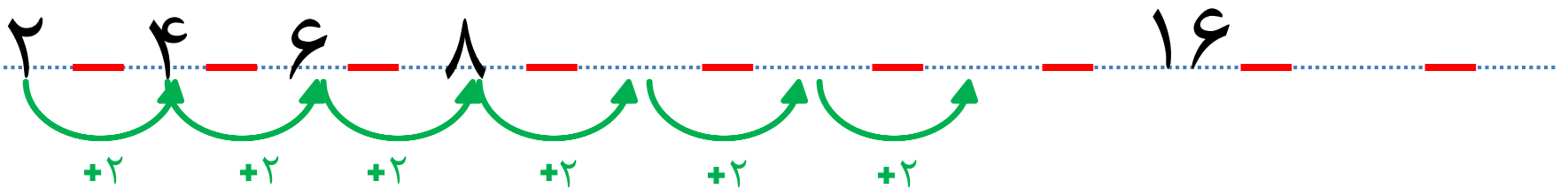
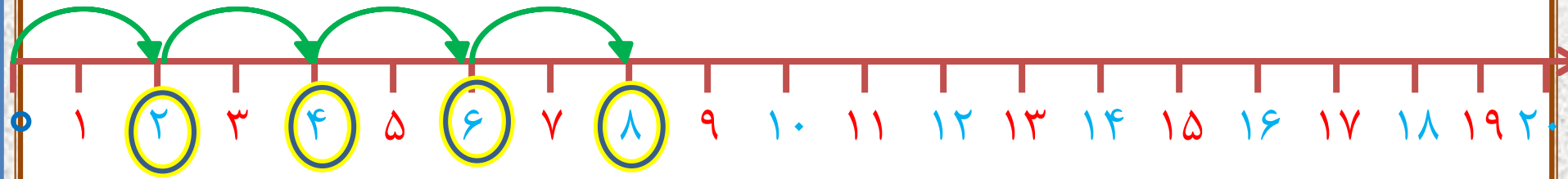
$$40 - 20 = 20$$

$$15 - 5 = 10$$

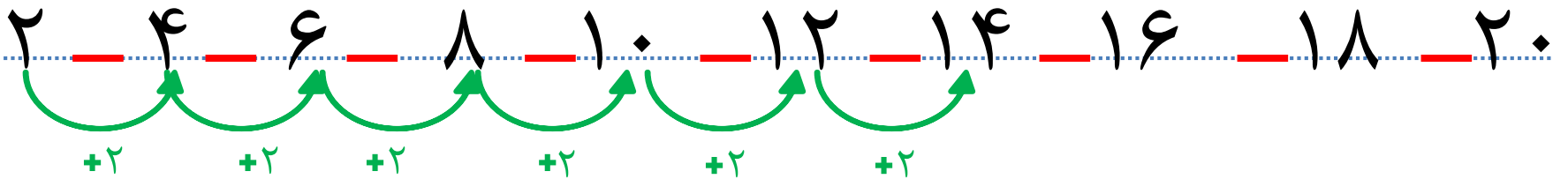
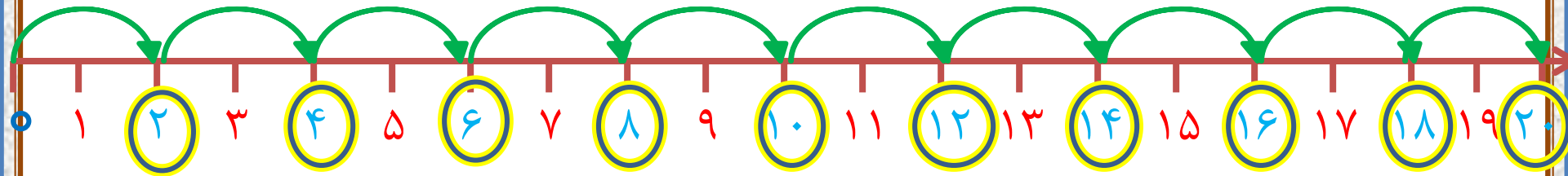
$$25 - 5 = 20$$

$$30 - 10 = 20$$

الگورا ادامه بده .



الگورا ادامه بده .

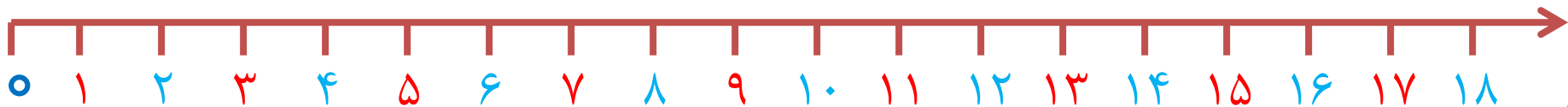


با محور مسئله ها را حل کن .

یک اتوبوس ۱۸ مسافر داشت . در اولین ایستگاه ۲ نفر پیاده شدند .

در دومین ایستگاه ۲ نفر دیگر پیاده شدند . در ایستگاه سوم ۲ نفر دیگر پیاده شدند

حالا اتوبوس چند مسافر دارد؟ .



با محور مسئله ها را حل کن .

یک اتوبوس ۱۸ مسافر داشت . در اولین ایستگاه ۲ نفر پیاده شدند .

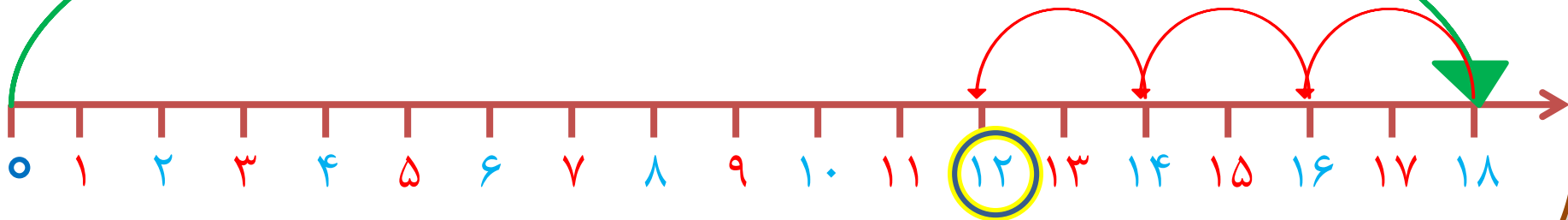
در دومین ایستگاه ۲ نفر دیگر پیاده شدند . در ایستگاه سوم ۲ نفر دیگر پیاده شدند

حالا اتوبوس چند مسافر دارد؟ ۱۲ مسافر دارد.

$$18 - 2 = 16$$

$$16 - 2 = 14$$

$$14 - 2 = 12$$



در یک کلاس ۱۲ دانش آموز نشسته بودند . ۴ نفر وارد کلاس شدند .

۵ نفر از کلاس بیرون رفتند

حالا چند نفر در کلاس هستند ؟ دانش آموز در کلاس است .



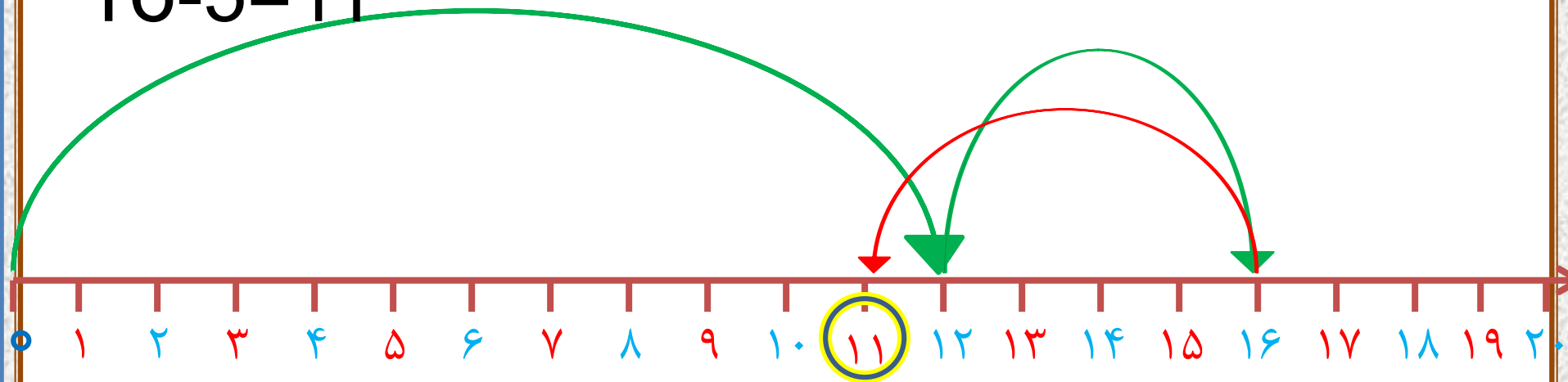
در یک کلاس ۱۲ دانش آموز نشسته بودند . ۴ نفر وارد کلاس شدند .

۵ نفر از کلاس بیرون رفتند

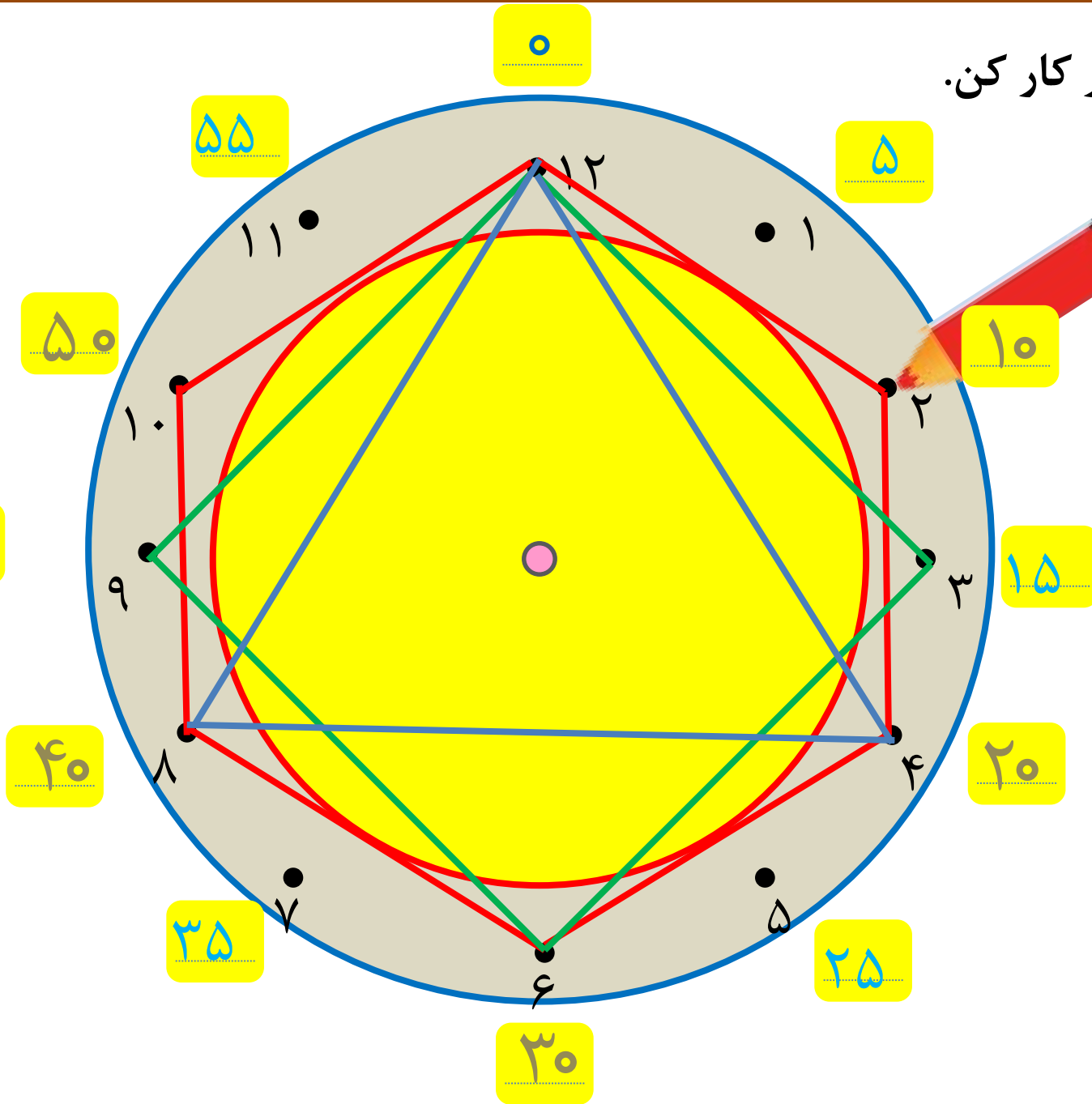
حالا چند نفر در کلاس هستند ؟ ۱۱ دانش آموز در کلاس است .

$$12+4=16$$

$$16-5=11$$



با ابزار کار کن.





شما عزیزان دلم بهترین هستید

