

کتاب کار ریاضی

صفحه 201 تا 203





۸. تفریق‌های زیر را سریع و ذهنی حساب کن.

$$۹۰ - ۷۰ = \dots\dots$$

$$۳۰ - ۲۰ = \dots\dots$$

$$۶۰ - ۳۰ = \dots\dots$$

$$۴۰ - ۳۰ = \dots\dots$$

$$۶۵ - ۵ = \dots\dots$$

$$۸۵ - ۳۵ = \dots\dots$$

$$۲۰ - ۲۰ = \dots\dots$$

$$۷۰ - ۳۰ = \dots\dots$$

$$۶۵ - ۵۵ = \dots\dots$$

۹. یک مرغ روی ۹ تخم مرغ خوابیده بود. ۳ تای آنها جوجه شدند. چند ساعت بعد ۳ تای دیگر هم از تخم درآمدند. هنوز چند تخم مرغ مانده است که جوجه نشده‌اند؟ (با یک الگوی عددی نشان بده).





۸. تفریق‌های زیر را سریع و ذهنی حساب کن.

$$90 - 70 = 20$$

$$30 - 20 = 10$$

$$60 - 30 = 30$$

$$40 - 30 = 10$$

$$65 - 5 = 60$$

$$85 - 35 = 50$$

$$20 - 20 = 0$$

$$70 - 30 = 40$$

$$65 - 55 = 10$$

۹. یک مرغ روی ۹ تخم مرغ خوابیده بود. ۳ تای آنها جوجه شدند. چند ساعت بعد ۳ تای دیگر هم از تخم درآمدند. هنوز چند تخم مرغ مانده است که جوجه نشده‌اند؟ (با یک الگوی عددی نشان بده).



$$9 - 3 - 3 = 3$$


۳ تخم مرغ باقی مانده است

۱۰. درنا ۱۹ بادکنک داشت. ۴ تا به برنا داد. ۴ تای دیگر را به هانی داد. ۴ تای آن هم ترکید. حالا درنا چند

بادکنک دارد؟



۲۰۱



۱۱. آیا می‌دانی که یک هفته چند روز است؟

دانش‌آموز بتواند از راه‌های مختلف به حل مسئله بپردازد؟



۱۰. درنا ۱۹ بادکنک داشت. ۴ تا به برنا داد. ۴ تای دیگر را به هانی داد. ۴ تای آن هم ترکید. حالا درنا چند

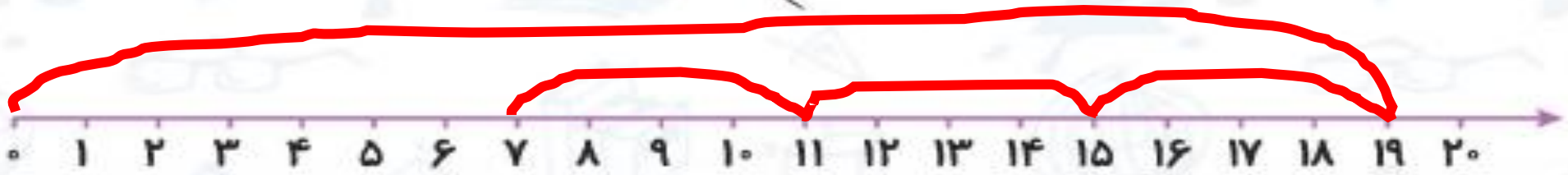
بادکنک دارد؟

$$19 - 4 - 4 - 4 = 7$$

درنا ۷ بادکنک دارد



۲۰۱



۱۱. آیا می‌دانی که یک هفته چند روز است؟ هفت روز است



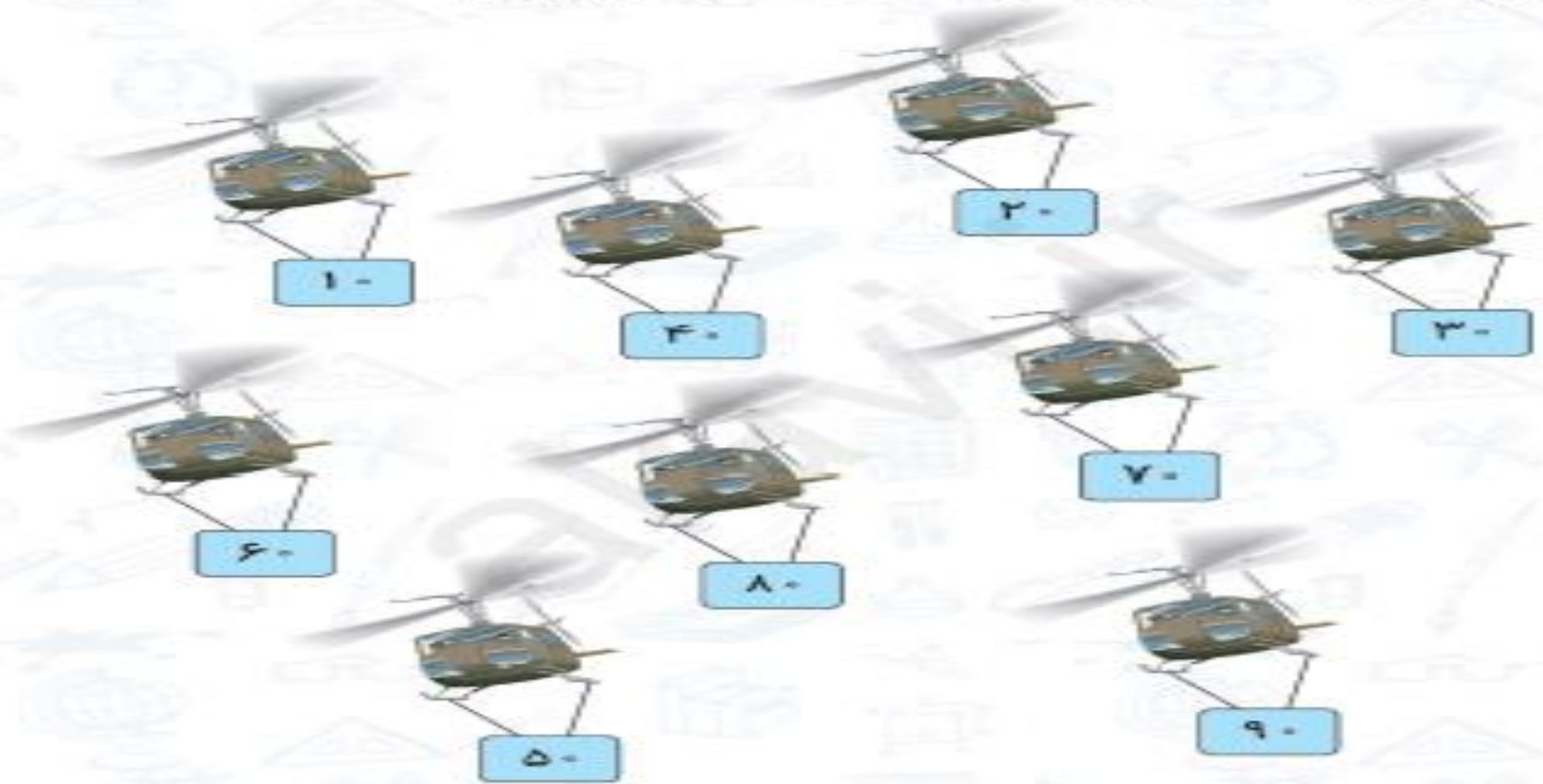
دانش آموز بتواند از راه‌های مختلف به حل مسئله بپردازد؟



۱۲. یک هلی کوپتر برای امداد به مردمی که در کوه بر اثر ریزش برف دچار سانحه شده بودند بسته‌های مواد غذایی فرستاد. بسته‌ها از سبک به سنگین بودند. بسته‌های سنگین زودتر به زمین افتادند و هرچه سبک‌تر بودند دیرتر به زمین افتادند. از سنگین به سبک شماره بسته‌ها را به ترتیب بنویس.



۱۲. یک هلی کوپتر برای امداد به مردمی که در کوه بر اثر ریزش برف دچار سانحه شده بودند بسته‌های مواد غذایی فرستاد. بسته‌ها از سبک به سنگین بودند. بسته‌های سنگین زودتر به زمین افتادند و هرچه سبک‌تر بودند دیرتر به زمین افتادند. از سنگین به سبک شماره بسته‌ها را به ترتیب بنویس.



80-70-60-50-40-30-20-10

ارزشیابی



۱. فرزندم ۳ عدد بعد را با توجه به هر الگو بنویس.

۱۲ - ۱۳ - ۱۴ - - -

۷ - ۱۴ - - -

۶ - ۱۲ - - -

۲۵ - ۳۰ - - -

۴۷ - ۴۸ - - -

۲۰ - ۳۰ - - -

۲. به عدد و حروف بنویس.

چهل	نود	هشتاد
.....	۶۰	۲۰

ارزشیابی



۱. فرزندم ۳ عدد بعد را با توجه به هر الگو بنویس.

14
۱۲ - ۱۳ - ۱۶ - 15 - 16 17
۷ - ۱۴ - 21 - 28 35
۶ - ۱۲ - 18 - 24 30
۲۵ - ۳۰ - 35 - 40 45
۴۷ - ۴۸ - 49 - 50 51
۲۰ - ۳۰ - 40 - 50 60

۲. به عدد و حروف بنویس.

چهل	نود	شصت	بیست	هشتاد
4	90	۶۰	۲۰	80

۳. تفریق‌های زیر را انجام بده.

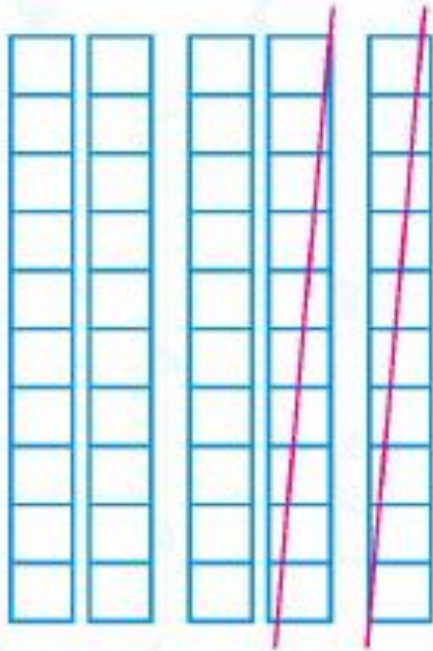
$$۳۵ - ۵ = \dots\dots$$

$$۶۰ - ۴۰ = \dots\dots$$


$$۴۰ - ۱۰ = \dots\dots$$

$$۱۵ - ۵ = \dots\dots$$

۴. با توجه به شکل تفریق مناسب بنویس.



----- =



----- =

۳. تفریق‌های زیر را انجام بده.

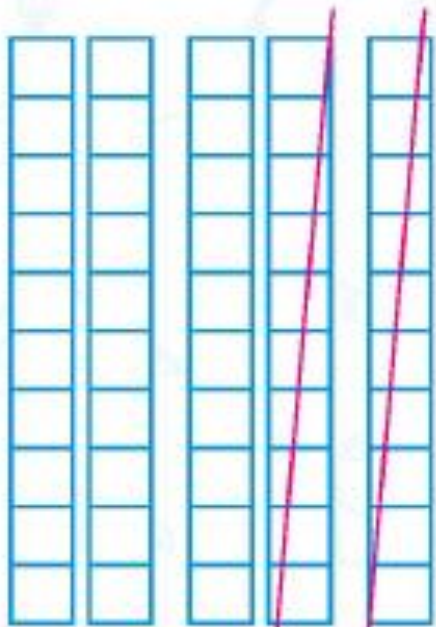
$$۳۵ - ۵ = ۳۰$$

$$۶۰ - ۴۰ = ۲۰$$


$$۴۰ - ۱۰ = ۳۰$$

$$۱۵ - ۵ = ۱۰$$

۴. با توجه به شکل تفریق مناسب بنویس.



$$۵۰ - ۲۰ = ۳۰$$



$$۷۰ - ۳۰ = ۴۰$$

صدآفرين مرحبا
بر تو دختر دانا

