





به نام خدا

نام زیبای من:

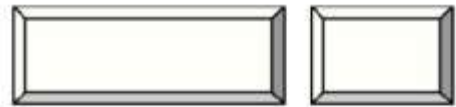
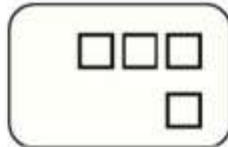
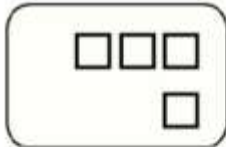
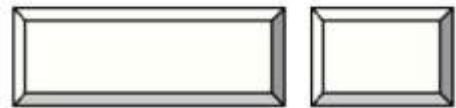


درس ریاضی - پایه ی اول ابتدایی

دبستان:

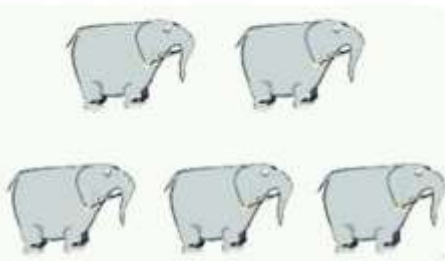
عدد هر دسته را بنویس.



شکل های سمت چپ و سمت راست با هم چند تا هستند؟ با چوب خط و عدد نشان بده.



دور عدد درست خط بکش.



۵

۴

۳

۳

۲

۱

۳

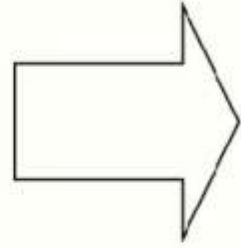
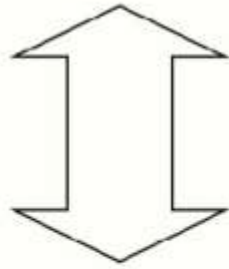
۲

۱

در جاهای خالی عددها را به ترتیب از ۰ تا ۸ بنویس.



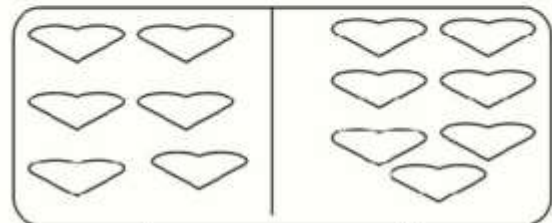

- با خط کش خطی بکش که هر شکل را به دو نیمه ی مثل هم کند. هر نیمه را یک رنگ کن.



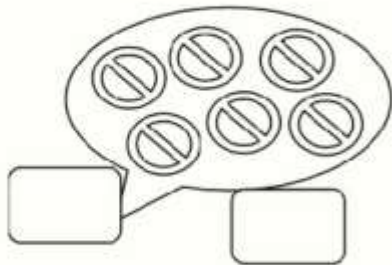
اگر به تعداد شکل های سمت راست از شکل های سمت چپ برداریم چند تا می ماند عدد آن را بنویس .



- عدد هر دسته را بنویس. در هر قسمت دسته ای را که شکل بیش تری دارد را رنگ کن.



- به اندازه ی شکل های سمت چپ در سمت راست شکل بکش. سپس عدد هر دسته را بنویس و علامت مساوی = بگذار.



بازخورد معلم: